































पाठ 7
51 से 100 तक की संख्याएँ

	51
	52
	53
	54
	55
	56
	57
	58
	59
	60























		61
		62
		63
		64
		65
		66
		67
		68
		69
		70













		71
		72
		73
		74
		75
		76
		77
		78
		79
		80



		81
		82
		83
		84
		85
		86
		87
		88
		89
		90



	91
	92
	93
	94
	95
	96
	97
	98
	99
	100



रिक्त स्थान भरें

51	52	53							
61									

1	11	21	31	41	51	61	71	81	91
2									
3									
									100



पैटर्न पहचान कर आगे की संख्या लिखें

51	52			55					60
----	----	--	--	----	--	--	--	--	----

61	62					67			70
----	----	--	--	--	--	----	--	--	----

71	72	73							80
----	----	----	--	--	--	--	--	--	----

81									90
----	--	--	--	--	--	--	--	--	----

									100
--	--	--	--	--	--	--	--	--	-----

85	86	87							
----	----	----	--	--	--	--	--	--	--

73	74	75							
----	----	----	--	--	--	--	--	--	--

82	83	84							
----	----	----	--	--	--	--	--	--	--

45	46	47							
----	----	----	--	--	--	--	--	--	--

78	79	80							
----	----	----	--	--	--	--	--	--	--

35	34	33							
----	----	----	--	--	--	--	--	--	--

90	89	88							
----	----	----	--	--	--	--	--	--	--



विविध प्रश्नावली 2

मौखिक

1. घर में 3 लोग थे 4 लोग और आ गए कुल कितने लोग हो गए?
2. घर में 4 लोग थे 2 बाहर चले गए शेष कितने लोग बचे?
3. 3 गेंद और 2 गेंद मिलाकर कुल कितनी गेंदे हो गयीं?
4. 8 में 2 मिलाने पर कितना होगा?
5. 12 केले में से 2 केले खा लिए अब कितने केले बचे?
6. 15 में से 3 घटाने पर कितना बचेगा?
7. $16 - 6 = \dots\dots\dots$?
8. 9 बच्चे खेल रहे थे, उसमें से 2 बच्चे घर चले गए अब कितने बच्चे खेल रहे हैं?

लिखित

1. हल करें
- | | | | |
|----------------|----------------------|----------------|----------------------|
| (1) $3 + 4 =$ | <input type="text"/> | (2) $12 + 6 =$ | <input type="text"/> |
| (3) $15 - 6 =$ | <input type="text"/> | (4) $9 - 3 =$ | <input type="text"/> |
| (5) $5 + 0 =$ | <input type="text"/> | (6) $12 + 0 =$ | <input type="text"/> |
| (7) $8 + 0 =$ | <input type="text"/> | (8) $13 - 0 =$ | <input type="text"/> |

2. हल करें
- | | | | |
|-----|---|-----|--|
| (1) | $\begin{array}{r} 18 \\ + 8 \\ \hline \end{array}$ | (2) | $\begin{array}{r} 35 \\ + 5 \\ \hline \end{array}$ |
| (3) | $\begin{array}{r} 15 \\ - 13 \\ \hline \end{array}$ | (4) | $\begin{array}{r} 10 \\ - 4 \\ \hline \end{array}$ |



3. छूटी हुई संख्याएँ लिखिए

51			54			57
----	--	--	----	--	--	----

62				66		
----	--	--	--	----	--	--

82		84			87	
----	--	----	--	--	----	--

4. पैटर्न पहचान कर आगे की संख्या लिखिए

1	3	5				
---	---	---	--	--	--	--

35	34	33				
----	----	----	--	--	--	--

5. नीचे दी गई तालिका पूरी कीजिए (क्रम देखकर)

10	9	8						
1	2							
12	11							
20	19	18						
10	11	12				17		
17	16							
55	56	57						
85	86							

