

21 से 50 तक की संख्याएँ



0120CH08

खाली स्थान भरिए।

18

संख्या लिखिए

बंडल और इकाइयाँ बनाइए।

दहाई इकाइयाँ

दहाई इकाइयाँ

1 4 14

दहाई इकाइयाँ

दहाई इकाइयाँ

1 5 15

दहाई इकाइयाँ

दहाई इकाइयाँ

1 0 10

दहाई इकाइयाँ

दहाई इकाइयाँ

2 0 20

दहाई इकाइयाँ

दहाई इकाइयाँ

1 1 11

दहाई इकाइयाँ

दहाई इकाइयाँ

2 2 22



संख्याएँ लिखिए

दहाइयाँ इकाइयाँ

दहाइयाँ इकाइयाँ

2	5	25
---	---	----

दहाइयाँ इकाइयाँ

दहाइयाँ इकाइयाँ

3	3	33
---	---	----

दहाइयाँ इकाइयाँ

दहाइयाँ इकाइयाँ

2	3	
---	---	--

दहाइयाँ इकाइयाँ

दहाइयाँ इकाइयाँ

4	2	
---	---	--

दहाइयाँ इकाइयाँ

दहाइयाँ इकाइयाँ

--	--	--

दहाइयाँ इकाइयाँ

दहाइयाँ इकाइयाँ

--	--	--

दहाइयाँ इकाइयाँ

दहाइयाँ इकाइयाँ

--	--	--

दहाइयाँ इकाइयाँ

दहाइयाँ इकाइयाँ

--	--	--

दहाइयाँ इकाइयाँ

दहाइयाँ इकाइयाँ

--	--	--

दहाइयाँ इकाइयाँ

दहाइयाँ इकाइयाँ

--	--	--





21 से 40 तक की संख्याएँ

खाली स्थान भरिए।



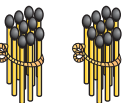

21

2 दहाइयाँ 1 इकाई




31

3 दहाइयाँ 1 इकाई

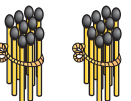



22

2 दहाइयाँ 2 इकाइयाँ

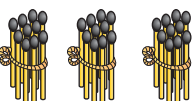



31

3 दहाइयाँ 2 इकाइयाँ



23

2 दहाइयाँ 3 इकाइयाँ




33

3 दहाइयाँ 3 इकाइयाँ



24

2 दहाइयाँ 4 इकाइयाँ





34

3 दहाइयाँ 4 इकाइयाँ



25

2 दहाइयाँ 5 इकाइयाँ





35

3 दहाइयाँ 5 इकाइयाँ



26

2 दहाइयाँ 6 इकाइयाँ

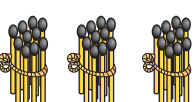



36

3 दहाइयाँ 6 इकाइयाँ



27

2 दहाइयाँ 7 इकाइयाँ

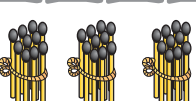



37

3 दहाइयाँ 7 इकाइयाँ

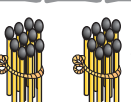



28



2 दहाइयाँ 8 इकाइयाँ



38

3 दहाइयाँ 8 इकाइयाँ



29

2 दहाइयाँ 9 इकाइयाँ

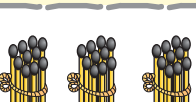



39

3 दहाइयाँ 9 इकाइयाँ



30

2 दहाइयाँ 1 दहाई

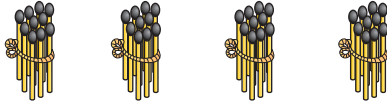


40

3 दहाइयाँ 1 दहाई



41 से 50 तक की संख्याएँ

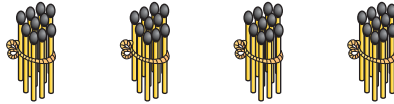
खाली स्थान भरिए।



41

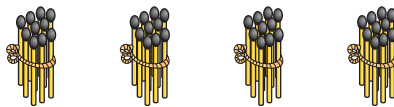
4 दहाइयाँ

1 इकाई



4 दहाइयाँ

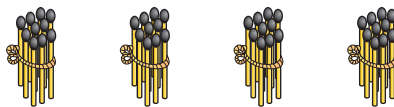
2 इकाइयाँ



43

4 दहाइयाँ

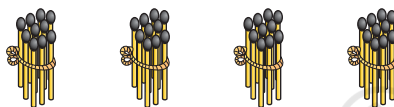
3 इकाइयाँ



4 दहाइयाँ

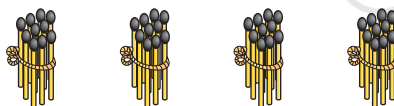
4 इकाइयाँ

45



4 दहाइयाँ

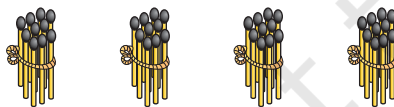
5 इकाइयाँ



4 दहाइयाँ

6 इकाइयाँ


47



4 दहाइयाँ

7 इकाइयाँ

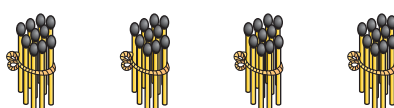
48



4 दहाइयाँ

8 इकाइयाँ

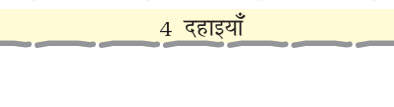
49



4 दहाइयाँ

9 इकाइयाँ

50



4 दहाइयाँ

1 दहाई





छूटी हुई संख्याएँ लिखिए

1	2	3	4	5	6	7	8	9	10
11		13			16				
	22					27			
							38		
		43						49	

