

UP Board Class 10 Social Science Question Paper 2015

हाई स्कूल परीक्षा 2015

सामाजिक विज्ञान-केवल प्रश्न-पत्र

समय : 3 घण्टे 15 मिनट]

825 (GF)

[पूर्णांक : 70

खण्ड-क : बहुविकल्पीय प्रश्न

निर्देश—निम्न में से सही उत्तर चुनकर अपनी उत्तर-पुस्तिका में लिखिए।

1. लोक सभा में नामित सदस्यों की संख्या है—
(क) 2 (ख) 4 (ग) 12 (घ) 5
2. जर्मनी में धर्म सुधार आन्दोलन के प्रणेता थे—
(क) ज्विगली (ख) कॉल्चन (ग) राजा फिलिप (घ) मॉर्टिन लूथर। 1
3. रेलगाड़ी का आविष्कार किया—
(क) जेम्स वाट ने (ख) जॉर्ज स्टीफेन्सन ने
(ग) क्रॉम्पटन ने (घ) कार्ट राइट ने।
4. बेगम हजरत महल ने स्वतन्त्रता संग्राम में कहाँ नेतृत्व किया था—
(क) लखनऊ में (ख) कानपुर में
(ग) झाँसी में (घ) बरेली में।
5. लोकसभा के सदस्यों का कार्यकाल है— 1
(क) 2 वर्ष (ख) 5 वर्ष (ग) 8 वर्ष (घ) 6 वर्ष।
6. भारतीय संघ के राज्यों में सबसे बड़ा न्यायालय है—
(क) उच्च न्यायालय (ख) सर्वोच्च न्यायालय
(ग) जिला न्यायालय (घ) राजस्व परिषद्।

अति लघु उत्तरीय प्रश्न

7. प्रथम विश्व युद्ध के दो परिणाम लिखिए। 1+1
8. महात्मा गांधी द्वारा प्रारम्भ किए गए किन्हीं दो आन्दोलनों के नाम लिखिए। 1+1
9. भारत के राष्ट्रपति के दो विधेयाधिकार लिखिए। 1+1

लघु उत्तरीय प्रश्न

10. रूसी क्रान्ति में लेनिन के योगदान का वर्णन कीजिए। 3
- अथवा** नरम पंथियों और गरम पंथियों के बीच का क्या अन्तर थे? 1½+1½
11. केन्द्रीय मंत्री परिषद के तीन प्रमुख कार्य लिखिए। 1+1+1
- अथवा** भारत के सर्वोच्च न्यायालय के संगठन पर प्रकाश डालिए। 3

दीर्घ उत्तरीय प्रश्न

12. इंग्लैण्ड में औद्योगिक क्रान्ति के विकास पर निबन्ध लिखिए। 6
- अथवा** राष्ट्र संघ की असफलता के कारणों का विवेचन कीजिए। 6
13. भारत के राष्ट्रपति की चुनाव प्रक्रिया का वर्णन कीजिए। 6
- अथवा** सार्क से आप क्या समझते हैं? इसके प्रमुख उद्देश्यों का वर्णन कीजिए। 3+3

मानचित्र सम्बन्धी प्रश्न

निर्देश—दिए गए भारत के मानचित्र में निम्नलिखित स्थानों को ⊙ चिह्न से दर्शाइए। सही नाम तथा सही स्थान अंकित करने के लिए ½ + ½ अंक निर्धारित हैं।

14. (i) वह स्थान जहाँ से 10 मई, 1857 को भारत में प्रथम स्वतन्त्रता संग्राम का प्रारम्भ हुआ।
(ii) वह स्थान जहाँ बुलन्द दरवाजा स्थित है।
(iii) वह स्थान जहाँ कुम्भ मेला लगता है।
(iv) वह स्थान जहाँ टैगोर ने 'विश्वभारती' विश्वविद्यालय स्थापित किया।
(v) वह स्थान जो टीपू सुल्तान के राजधानी था।

खण्ड-ख

बहुविकल्पीय प्रश्न

निर्देश—निम्न में से सही उत्तर चुनकर अपनी उत्तर-पुस्तिका में लिखिए।

15. संसार का सबसे बड़ा डेल्टा है—
(क) अमेजन का डेल्टा (ख) गंगा का डेल्टा
(ग) मिसिसिपी का डेल्टा (घ) नील नदी का डेल्टा।
16. भय से पहले समाप्त होने वाली पंचवर्षीय योजना है—
(क) प्रथम पंचवर्षीय योजना (ख) द्वितीय पंचवर्षीय योजना
(ग) पंचम पंचवर्षीय योजना (घ) सातवीं पंचवर्षीय योजना।
17. निम्नलिखित में से कौन-सा उद्योग कृषि पर आधारित नहीं है—
(क) सूती बस्त्र उद्योग (ख) चीनी उद्योग
(ग) सीमेंट उद्योग (घ) जूट उद्योग।
18. माउण्ट एवरेस्ट की ऊँचाई है—
(क) 8848 मीटर (ख) 7747 मीटर
(ग) 6646 मीटर (घ) 5545 मीटर।
19. 'कोलार' सम्बन्धित है— 1
(क) कोयला से (ख) सोना से (ग) अभ्रक से (घ) मंगनीज से।
20. नागार्जुन सागर परियोजना किस नदी पर स्थित है— 1
(क) सिन्धु नदी (ख) गंगा नदी (ग) यमुना नदी (घ) कृष्णा नदी।

अति लघु उत्तरीय प्रश्न

21. आर्थिक नियोजन के दो उद्देश्य बताइए। 1+1
22. भारतीय वनों के हास के दो कारण लिखिए। 1+1
23. सौर-ऊर्जा के दो महत्व बताइए। 1+1

लघु उत्तरीय प्रश्न






24. बहुउद्देशीय नदी घाटी परियोजना के तीन महत्व बताइए। 1+1+1
- अथवा** दामोदर घाटी परियोजना के तीन महत्त्वों पर प्रकाश डालिए। 1+1+1
25. हरित क्रान्ति किसे कहते हैं? हरित क्रान्ति की किन्हीं दो विशेषताओं का वर्णन कीजिए। 1+1+1
- अथवा** कृषि श्रमिक का क्या तात्पर्य है? उनकी दो प्रमुख समस्याओं का उल्लेख कीजिए। 3

दीर्घ उत्तरीय प्रश्न

26. प्राकृतिक आपदा किसे कहते हैं? किन्हीं चार प्राकृतिक आपदाओं के विषय में लिखिए। 2+1+1+1+1
- अथवा** मानवीय आपदा का क्या तात्पर्य है? किसी एक मानवीय आपदा से बचने के लिए चार सुझाव दीजिए। 2+1+1+1+1
27. कुटीर एवं लघु-उद्योग में अन्तर बताइए। कुटीर उद्योग का आर्थिक विकास में क्या महत्व है? 3+3
- अथवा** भारत में निम्न औद्योगिक उत्पादकता के तीन कारण बताइए तथा उसके उत्पादकता बढ़ाने के तीन उपाय समझाइए। 3+3

मानचित्र कार्य

निर्देश—निम्नलिखित को भारत के मानचित्र में दर्शाइए। सही नाम व चिह्न (स्थिति) के लिए ½ + ½ अंक हैं :

28. (i) अरावली पर्वत  चिह्न द्वारा नाम सहित।
- (ii) कैंटीले वन का एक क्षेत्र  चिह्न द्वारा।
- (iii) उड़ीसा राज्य की राजधानी  चिह्न द्वारा नाम सहित।
- (iv) काली पिट्टी का एक क्षेत्र  चिह्न द्वारा।
- (v) नर्मदा नदी  चिह्न द्वारा नाम सहित।