

# CSP-1

## PROVISIONAL ANSWER KEY

Name of the post	Gujarat Administrative Service, Class-1, Gujarat Civil Services, Class-1 & Class-2 & Gujarat Municipal Chief Officer Service, Class-2
Advertisement No.	30/2021-22
Preliminary Test held on	26-12-2021
Question No	001 – 200
Publish Date	26-12-2021
Last Date to Send Suggestion (S) :	03-01-2022.

THE LINK FOR ONLINE OBJECTION SYSTEM WILL START FROM 27-12-2021; 06:00 PM ONWARDS

### Instructions / સૂચના

**Candidate must ensure compliance to the instructions mentioned below, else objections shall not be considered: -**

- (1) All the suggestion should be submitted through **ONLINE OBJECTION SUBMISSION SYSTEM** only. Physical submission of suggestions will not be considered.
- (2) Question wise suggestion to be submitted in the prescribed format (proforma) published on the website / online objection submission system.
- (3) All suggestions are to be submitted with reference to the Master Question Paper with provisional answer key (Master Question Paper), published herewith on the website / online objection submission system. Objections should be sent referring to the Question, Question No. & options of the Master Question Paper.
- (4) Suggestions regarding question nos. and options other than provisional answer key (Master Question Paper) shall not be considered.
- (5) Objections and answers suggested by the candidate should be in compliance with the responses given by him in his answer sheet. Objections shall not be considered, in case, if responses given in the answer sheet / response sheet and submitted suggestions are differed.
- (6) Objection for each question should be made on separate sheet. Objection for more than one question in single sheet shall not be considered.

**ઉમેદવારે નીચેની સૂચનાઓનું પાલન કરવાની તકેદારી રાખવી, અન્યથા વાંધા-સૂચન અંગે કરેલ રજૂઆતો ધ્યાને લેવાશે નહીં**

- (1) ઉમેદવારે વાંધા-સૂચનો ફક્ત ઓનલાઈન ઓબ્જેક્શન સબમીશન સીસ્ટમ દ્વારા જ સબમીટ કરવાના રહેશે. રૂબરૂ અથવા ટપાલ દ્વારા આયોગની કચેરીએ મોકલવા આવેલ વાંધા-સૂચનો ધ્યાને લેવામા આવશે નહીં જેની ખાસ નોંધ લેવી.
- (2) ઉમેદવારે વાંધા-સૂચનો રજૂ કરવા વેબસાઈટ / ઓનલાઈન ઓબ્જેક્શન સબમીશન સીસ્ટમ પર પ્રસિધ્ધ થયેલ નિયત નમૂનાનો જ ઉપયોગ કરવો.
- (3) ઉમેદવારે પોતાને પરીક્ષામાં મળેલ પ્રશ્નપુસ્તિકામાં છપાયેલ પ્રશ્નક્રમાંક મુજબ વાંધા-સૂચનો રજૂ કરતા તમામ વાંધા-સૂચનો વેબસાઈટ પર પ્રસિધ્ધ થયેલ પ્રોવિઝનલ આન્સર કી (માસ્ટર પ્રશ્નપત્ર)ના પ્રશ્ન ક્રમાંક મુજબ અને તે સંદર્ભમાં રજૂ કરવા.
- (4) માસ્ટર પ્રશ્નપત્રમાં નિર્દિષ્ટ પ્રશ્ન અને વિકલ્પ સિવાયના વાંધા-સૂચનો ધ્યાને લેવામાં આવશે નહીં.
- (5) ઉમેદવારે પ્રશ્નના વિકલ્પ પર વાંધો રજૂ કરેલ છે અને વિકલ્પ રૂપે જે જવાબ સૂચવેલ છે એ જવાબ ઉમેદવારે પોતાની ઉત્તરવહીમાં આપેલ હોવો જોઈએ. ઉમેદવારે સૂચવેલ જવાબ અને ઉત્તરવહીનો જવાબ ભિન્ન હશે તો ઉમેદવારે રજૂ કરેલ વાંધા-સૂચનો ધ્યાનમા લેવાશે નહીં.
- (6) એક પ્રશ્ન માટે એક જ વાંધા-સૂચન પત્રક વાપરવું. એક જ વાંધા-સૂચનો પત્રકમાં એકથી વધારે પ્રશ્નોની રજૂઆત કરેલ હશે તો તે અંગેના વાંધા-સૂચનો ધ્યાને લેવાશે નહીં.

**Website link for online objection submission system : [www.safevaults.in/login](http://www.safevaults.in/login)**

001. સિંધુ ખીણ સંસ્કૃતિ બાબતે નીચેના પૈકી કયા વિધાનો સાચાં છે ?

1. મોહેં-જો-દરો સિંધના લારખાના જિલ્લામાં સિંધુ નદીના જમણા કાંઠે છે.
2. લોથલ ભારતના પશ્ચિમ તટે સાબરમતી નદી ઉપર ખંભાતના અખાતના શીર્ષ ખાતે આવેલું છે.
3. કાલીબંગા ઉત્તર-પશ્ચિમ દિલ્હીમાં હાલ સૂકાઈ ગયેલી ઘાઘરના ડાબે કાંઠે આવેલું છે.
4. ઋગ્વેદમાં સામાન્ય રીતે હરિયુપીયા સાથે ઓળખાતું હરપ્પા બિયાસ નદીના જૂના પટ ઉપર આવેલું છે.

(A) 1, 2, 3 અને 4

(B) ફક્ત 2, 3 અને 4

(C) ફક્ત 1, 2 અને 3

(D) ફક્ત 1 અને 4

002. સેલ્યુસિડ રાજવંશ બાબતે નીચેના પૈકી કયા વિધાનો સાચાં છે ?

1. તે એક પ્રાચિન સામ્રાજ્ય હતું કે જેની સૌથી મોટી સીમાઓ યુરોપમાં ગ્રેસથી ભારતના સીમાડા સુધી વિસ્તરેલી હતી.
2. સેલ્યુકસ દ્વારા શાસિત બેક્ટ્રિયા એ આજનું અફઘાનિસ્તાન છે.
3. સેલ્યુસિડ-મૌર્ય યુદ્ધ પછી મૌર્ય સામ્રાજ્યની પડતી આવી અને ભારતીય ઉપખંડ ઉપર તેનું નિયંત્રણ ખોવાયું.

(A) 1, 2 અને 3

(B) ફક્ત 2 અને 3

(C) ફક્ત 1 અને 3

(D) ફક્ત 1 અને 2

003. સિંધુ ખીણ સંસ્કૃતિ બાબતે નીચેના પૈકી કયા વિધાનો સાચાં છે ?

1. યજ્ઞ-વેદીઓ વૈદિક યુગની ખાસ વિશિષ્ટતા હતી કે જે સિંધુ ખીણ સંસ્કૃતિમાં સંપૂર્ણપણે ગેરહાજર હતી.
2. ગુજરાત સિંધુ ખીણ સંસ્કૃતિના મોટી સંખ્યામાં સ્થળો ધરાવે છે જ્યારે રાજસ્થાન પ્રમાણમાં ઓછા હરપ્પીય સ્થળો ધરાવે છે.
3. સિંધુ ખીણ સંસ્કૃતિ પ્રાથમિક રીતે શહેરી સંસ્કૃતિ હતી, જ્યારે કુનાલે ગ્રામિણ સ્થાપનાના પૂરાવા આપ્યા છે.

(A) ફક્ત 1 અને 2

(B) ફક્ત 2 અને 3

(C) ફક્ત 1 અને 3

(D) 1, 2 અને 3

004. નીચેના પૈકી કયું / કયા વિધાન / વિધાનો સાચું / સાચાં છે ?

1. જૂનાગઢના શિલાલેખમાં સમુદ્રગુપ્તે સુદર્શન તળાવનું સમારકામ કરાવ્યા હોવાનો દાવો કર્યો છે.
2. મહેરૌલીના લોહસ્તંભના લેખમાં ચંદ્રગુપ્ત બીજાએ ભગવાન વિષ્ણુ અથવા વિષ્ણુપદગીરીના સન્માનમાં સ્તંભ ઊભો કરાવ્યો હોવાનું કહ્યું છે.
3. ગુપ્ત વર્ષ 191નો એરણ સ્તંભાલેખ ભારતમાં સતીપ્રથા બાબતનો સૌથી પહેલો પુરાવાલેખ છે.

(A) ફક્ત 1

(B) ફક્ત 1 અને 2

(C) ફક્ત 2 અને 3

(D) ફક્ત 1 અને 3

001. Which of the following statements are correct regarding Indus Valley Civilization?

1. Mohenjodaro is on the right bank of the Indus river in Larkana District of Sind
2. Lothal is situated on the Sabarmati river at the head of the gulf of Cambay on the west coast of India
3. Kalibangan lies in North-West of Delhi along the left bank of the now-dry Ghaggar
4. Harappa, usually identified with Hariyupiya of the Rigveda, is situated on an old bed of the Beas river

(A) 1, 2, 3 and 4

(B) 2, 3 and 4 only

(C) 1, 2 and 3 only

(D) 1 and 4 only

002. Which of the following statements are correct regarding Seleucid dynasty?

1. It was an ancient empire that at its greatest extent stretched from Thrace in Europe to the border of India.
2. Bactria which was ruled by Seleucus is present Afghanistan
3. After the Seleucid-Mauryan War the Mauryan Empire was declined and lost control over the the Indian Subcontinent

(A) 1, 2 and 3

(B) 2 and 3 only

(C) 1 and 3 only

(D) 1 and 2 only

003. Which of the following statements are correct regarding Indus Valley Civilization?

1. Fire-altars were a special feature of the Vedic Age which were completely absent in the Indus Valley Civilization.
2. Gujarat has a large number of the Indus Valley Civilization sites whereas Rajasthan has comparatively fewer Harappan sites.
3. Indus Valley Civilization was primarily an urban civilization whereas Kunal has yielded evidence of rural setup.

(A) 1 and 2 only

(B) 2 and 3 only

(C) 1 and 3 only

(D) 1, 2 and 3

004. Which of the following statement(s) is/are correct?

1. In the Junagarh Rock Inscription Samudragupta claims to have got the Lake Sudarshana repaired.
2. In the Mehrauli Iron Pillar inscription Chandragupta-II is said to have set up the pillar in honour of god Vishnu or Vishnupadagiri.
3. Eran Pillar inscription dated Gupta Year 191 is the earliest epigraphic record of *Satipratha* in India.

(A) 1 only

(B) 1 and 2 only

(C) 2 and 3 only

(D) 1 and 3 only

005. નીચેના પૈકી કયા વિધાનો સાચાં છે ?

1. મહારાષ્ટ્રના ભક્તિસંત તુકારામ મરાઠા રાષ્ટ્રવાદ માટેની પૃષ્ઠભૂમિ સર્જવા માટે જાણીતા છે અને તેઓએ તમામ સામાજિક ભેદનો વિરોધ કર્યો હતો.
2. શ્રી ગૌરાંગ તરીકે પણ ઓળખાતા એવા ચૈતન્ય બંગળાના પ્રખ્યાત વૈષ્ણવ સંત અને સુધારક હતા.
3. ભારતમાં સૌથી પહેલો આવનાર સૂફીપંથ ચિશિત હતો.
4. ગુજરાત રહસ્યવાદી સંતો અથવા સૂફીઓનું અગત્યનું કેન્દ્ર હતું.

(A) 1, 2, 3 અને 4

(B) ફક્ત 1, 2 અને 3

(C) ફક્ત 1, 2 અને 4

(D) ફક્ત 1 અને 2

006. નીચેના પૈકી કયું / કયાં વિધાન / વિધાનો સાચું / સાચાં છે ?

1. વલ્લભીના મૈત્રક વંશની સ્થાપના કરનાર ભટાર્કને ગુજરાતમાં સર-સેનાપતિ તરીકે નિયુક્ત ગુપ્ત સામ્રાજ્ય દ્વારા કરવામાં આવ્યો હતો.
2. મૈત્રકો દ્વારા ઉપયોગમાં લેવામાં આવતો વલ્લભી સંવત અને ગુપ્ત સંવત સમાન છે.
3. વલ્લભી રાજવી ધ્રુવસેન-બીજો બુધ્ધગુપ્તનો સમકાલીન હતો.

(A) 1, 2 અને 3

(B) ફક્ત 3

(C) ફક્ત 1 અને 2

(D) ફક્ત 1 અને 3

007. નીચેના પૈકી કયા વિધાનો સાચાં છે ?

1. ચૌલુક્ય રાજા મૂળરાજ બીજાને મહંમદ ઘોરી હેઠળના તુર્કો દ્વારા પરાજિત કરવામાં આવ્યો હતો.
2. વાઘેલાંઓ સત્તામાં આરૂઢ થયા અગાઉ અણહિલવાડનાં ચૌલુક્યો હેઠળ સેવાઓ આપતા હતાં.
3. જયસિંહ સિધ્ધરાજ કલ્યાણના ચૌલુક્ય રાજા વિક્રમાદિત્ય-છઠ્ઠા સાથે સંઘર્ષમાં ઉતર્યો હતો.

(A) ફક્ત 2 અને 3

(B) ફક્ત 1 અને 2

(C) ફક્ત 1 અને 3

(D) 1, 2 અને 3

008. નીચેના પૈકી કયા વિધાનો સાચાં છે ?

1. 1723 માં પીલાજી ગાયકવાડ હેઠળ મરાઠાઓ છેક સુરત સુધી આવ્યા હતાં.
2. 1723 માં મરાઠાઓએ ગુજરાત ઉપર નિયમિત કરવેરા (ટ્રીબ્યુટ) નાખ્યાં.
3. 1726 માં મુઘલ ગવર્નર સર્બુલન્દખાનને પીલાજી ગાયકવાડ અને બંદે દ્વારા પરાજિત કરવામાં આવ્યો.

(A) ફક્ત 1 અને 3

(B) ફક્ત 2 અને 3

(C) ફક્ત 1 અને 2

(D) 1, 2 અને 3

009. નીચેના પૈકી બંગાળના કયા ગવર્નરે મરાઠાઓ અને નિઝામ વચ્ચેના યુદ્ધ દરમિયાન તટસ્થતા અને બિન-હસ્તક્ષેપની નીતિ અનુસરી ?

(A) સર જહોન શોર

(B) સર જહોન મેકફર્સન

(C) સર જ્યોર્જ બાર્લો

(D) લોર્ડ કોર્નવોલિસ

005. Which of the following statements are correct?

1. Tukaram the Bhakti Saint of Maharashtra is known for creating a background for Maratha nationalism and also opposed all social distinctions
2. Chaitanya, also known as Sri Gauranga was a popular Vaishnava saint and reformer from Bengal
3. Chishti was the earliest sufi order to have entered in India
4. Gujarat was an important centre of the mystic saints or Sufis

(A) 1, 2, 3 and 4

(B) 1, 2 and 3 only

(C) 1, 2 and 4 only

(D) 1 and 2 only

006. Which of the following statement(s) is/are correct?

1. Bhatarka, the founder of the Maitraka dynasty of Valabhi was appointed Commander-in-Chief in Gujarat by the imperial Guptas.
2. The Valabhi Era used by the Maitrakas was the same as Gupta Era.
3. The Valabhi ruler Dhruvasena II was a contemporary of Budhagupta.

(A) 1, 2 and 3 only

(B) 3 only

(C) 1 and 2 only

(D) 1 and 3 only

007. Which of the following statements are correct?

1. The Chalukya king Mularaja II was defeated by the Turks under Muhammad Ghori.
2. Vaghelas before their rise to power served under the Chalukyas of Anahilavada.
3. Jayasimha Siddharaj came into conflict with the Chalukya king Vikramaditya VI of Kalyana.

(A) 2 and 3 only

(B) 1 and 2 only

(C) 1 and 3 only

(D) 1, 2 and 3

008. Which of the following statements are correct?

1. The Marathas under Pilaji Gaekwad penetrated as far as Surat in 1723.
2. The Marathas levied a regular tribute on Gujarat in 1723.
3. The Mughal governor Sarbuland Khan was defeated by Pilaji Gaekwad and Bande in 1726.

(A) 1 and 3 only

(B) 2 and 3 only

(C) 1 and 2 only

(D) 1, 2 and 3

009. Who among the Governor General of Bengal followed the policy of neutrality and non-intervention during the war between the Marathas and Nizam?

(A) Sir John Shore

(B) Sir John Macpherson

(C) Sir George Barlow

(D) Lord Cornwallis

010. સત્યજીત રે એ નીચેના પૈકી કયા પુરસ્કારો પ્રાપ્ત કર્યા હતાં ?

1. દાદાસાહેબ ફાળકે પુરસ્કાર
2. ભારત રત્ન
3. પદ્મ શ્રી
4. પદ્મ ભૂષણ
5. પદ્મ વિભૂષણ

(A) ફક્ત 1 અને 2

(B) ફક્ત 1, 2 અને 3

(C) ફક્ત 2, 3 અને 4

(D) 1, 2, 3, 4 અને 5

011. નીચેના પૈકી કયા વિધાનો સાચાં છે ?

1. ભીખાજી કામાને ‘ભારતીય ક્રાન્તિકારીઓની માતા’ તરીકે ઓળખવામાં આવે છે.
2. ઈસ્ટ ઈન્ડીયા કંપનીના સમયગાળા દરમ્યાન લોર્ડ ઈલિંગટન ભારતના છેલ્લા ગવર્નર-જનરલ હતાં.
3. 1857 ના વિપ્લવ દરમ્યાન અંગ્રેજ અફસર, કર્નલ ઓનસેલે બનારસ કબજે કર્યું.

(A) 1, 2 અને 3

(B) ફક્ત 1 અને 3

(C) ફક્ત 2 અને 3

(D) ફક્ત 1 અને 2

012. કેબીનેટ મિશન યોજના હેઠળ નીચેના પૈકી કયો / કયા પ્રસ્તાવ કરવામાં આવ્યો / આવ્યાં હતાં / હતાં ?

1. એક જ બંધારણ ધરાવતા પ્રાંતોના ત્રણ જૂથો માટે જોગવાઈ કરવામાં આવી હતી.
2. વચગાળાની સરકાર સ્થાપવા માટેની દરખાસ્તની પરિકલ્પના કરવામાં આવી હતી.
3. બાકી રહેતી સત્તાઓ ભારતસંઘના હવાલા હેઠળ રહેશે.

(A) ફક્ત 1 અને 2

(B) ફક્ત 2

(C) ફક્ત 2 અને 3

(D) 1, 2 અને 3

013. કચ્છ બાબતે નીચેના પૈકી કયા વિધાનો સાચાં છે ?

1. તે જોડાણના દસ્તાવેજ ઉપર સહી કરનાર સૌ પ્રથમ દેશી રજવાડાઓ પૈકીનું એક હતું.
2. જ્યારે ભારતનું બંધારણ અમલમાં આવ્યું ત્યારે કચ્છ સી (C) વર્ગનું રાજ્ય બન્યું.
3. જ્યારે મુંબઈ રાજ્ય અસ્તિત્વમાં આવ્યું ત્યારે તે જિલ્લો બન્યો.

(A) 1, 2 અને 3

(B) ફક્ત 1 અને 2

(C) ફક્ત 2 અને 3

(D) ફક્ત 1 અને 3

014. ઢસા રાજ્યના રાજવી, ગોપાલદાસ દેસાઈ બાબતે નીચેના પૈકી કયા વિધાનો સાચાં છે ?

1. 1921 માં તેઓ ખેડા જિલ્લા કોંગ્રેસ સમિતિના પ્રમુખ બન્યાં.
2. તેઓએ બોરસદ અને બારડોલી સત્યાગ્રહોમાં ભાગ લીધો હતો.
3. ગોપાલદાસ દેસાઈએ વિઠ્ઠલ કન્યા વિદ્યાલય અને વલ્લભ કન્યા વિદ્યાલયની સ્થાપના કરી હતી.
4. તેઓ કચ્છમાંથી બંધારણ સભામાં સભ્ય તરીકે ચૂંટાયા હતાં.

(A) 1, 2, 3 અને 4

(B) ફક્ત 2, 3 અને 4

(C) ફક્ત 1, 2 અને 3

(D) ફક્ત 1, 2 અને 4

010. Which of the following awards were received by Satyajit Ray?

1. Dadasaheb Phalke Award
2. Bharat Ratna
3. Padma Shri
4. Padma Bhushan
5. Padma Vibhushan

(A) 1 and 2 only

(B) 1, 2 and 3 only

(C) 2, 3 and 4 only

(D) 1, 2, 3, 4 and 5

011. Which of the following statements are correct?

1. Bhikaji Cama is known as 'Mother of Indian Revolutionaries'
2. Lord Illington was the last Governor-General of India during the period of English East India Company
3. Colonel Ocell, British officer, captured Banaras during the revolt of 1857

(A) 1, 2 and 3

(B) 1 and 3 only

(C) 2 and 3 only

(D) 1 and 2 only

012. Which of the following proposals was/were made under the Cabinet Mission plan?

1. Provision was made for three groups of provinces having a single Constitution.
2. A proposal was envisaged for setting up an Interim Government.
3. The Union of India would remain in-charge of residuary powers.

(A) 1 and 2 only

(B) 2 only

(C) 2 and 3 only

(D) 1, 2 and 3

013. Which of the following statements are correct regarding Kachchh?

1. It was one of the very first princely states to sign the Instrument of Accession.
2. Kachchh became a C class state when the Constitution of India came into force.
3. It became a district when Bombay State came into existence.

(A) 1, 2 and 3

(B) 1 and 2 only

(C) 2 and 3 only

(D) 1 and 3 only

014. Which of the following statements are correct regarding the ruler of Dhasa State, Gopaldas Desai?

1. In 1921 he became the president of Kheda District Congress Committee
2. He participated in Borsad and Bardoli Satyagrahas
3. Gopaldas Desai founded Vitthal Kanya Vidyalaya and Vallabh Kanya Vidyalaya for girls
4. He was elected to the constituent assembly as member from the Kutchh

(A) 1, 2, 3 and 4

(B) 2, 3 and 4 only

(C) 1, 2 and 3 only

(D) 1, 2 and 4 only

015. ભારતીય રાષ્ટ્રીય કોંગ્રેસની પહેલાં નીચેના પૈકી કયા રાજકીય સંગઠનોની સ્થાપના થઈ હતી ?

1. ભારતીય સંગઠન (ઈન્ડીયન એસોશીયેશન), કલકત્તા
2. સાર્વજનિક સભા, પૂના
3. મહાજન સભા, મદ્રાસ

(A) 1, 2 અને 3

(B) ફક્ત 1 અને 2

(C) ફક્ત 2 અને 3

(D) ફક્ત 1 અને 3

016. ગુજરાતમાં 1857 ના પ્રથમ સ્વાતંત્ર્ય સંગ્રામના બનાવો બાબતે નીચેના પૈકી કયું / કયાં વિધાન / વિધાનો સાચું / સાચાં છે ?

1. શાહીબાગમાં કેન્ટોનમેન્ટ ખાતે આશરે 210 વિપ્લવી સૈનિકોને મૃત્યુદંડ આપવામાં આવ્યો હતો.
2. મૃત્યુદંડવાળી કોટડી 'ફાંસી ઘર' તરીકે ઓળખાય છે.
3. કેપ્ટન રૂથરફોર્ડે અમદાવાદમાં વિપ્લવને દાબી દીધો.

(A) ફક્ત 1 અને 2

(B) ફક્ત 2 અને 3

(C) ફક્ત 2

(D) 1, 2 અને 3

017. નીચેના પૈકી કયું / કયાં વિધાન / વિધાનો સાચું / સાચાં છે?

1. પ્રથમ મૌર્ય રાજવી બૃહદ્રથની હત્યા તેના સરસેનાપતિ પુષ્યમિત્ર શુંગ દ્વારા કરવામાં આવી હતી.
2. છેલ્લા શુંગ રાજવી દેવભૂતિની હત્યા તેના બ્રાહ્મણમંત્રી વાસુદેવ કણ્વ દ્વારા કરવામાં આવી હતી જે સત્તાઆરૂઢ થયો.
3. કણ્વ વંશના છેલ્લા શાસકને આંધ્રો (Andhras) દ્વારા પદબ્રષ્ટ કરવામાં આવ્યો હતો.

(A) ફક્ત 1 અને 2

(B) ફક્ત 2

(C) ફક્ત 2 અને 3

(D) 1, 2 અને 3

018. ચાવડા વંશ બાબતે નીચેના પૈકી કયા વિધાનો સાચાં છે ?

1. પંચાસર ચાવડા શાસક જયશેખરની રાજધાની હતી.
2. 'પ્રબંધચિંતામણી' અનુસાર, ચાવડા વંશના વનરાજે 60 વર્ષ સુધી શાસન કર્યું હતું.
3. નવસારી તામ્રપત્ર લેખ ચૌલુક્ય વંશના મૂળરાજે જારી કર્યો હતો.

(A) 1, 2 અને 3

(B) ફક્ત 2 અને 3

(C) ફક્ત 1 અને 3

(D) ફક્ત 1 અને 2

019. 1934 માં ..... ના નેતૃત્વ હેઠળ રાજ્ય દ્વારા ઈજારાઓ લાદવાના વિરોધમાં રાજકોટની સ્થાનિક પ્રજાપરિષદે ચળવળ શરૂ કરી.

(A) જમનાલાલ બજાજ

(B) કસ્તુરબા ગાંધી

(C) યુ. એન. દેબર

(D) ઉપરોક્ત પૈકી કોઈ નહીં



015. Which of the following political associations were established before Indian National Congress?
1. Indian Association, Calcutta
  2. Sarvajanik Sabha, Poona
  3. Mahajan Sabha, Madras
- (A) 1, 2 and 3 (B) 1 and 2 only  
(C) 2 and 3 only (D) 1 and 3 only
016. Which of the following statement(s) is/are correct with regard to events of the First Freedom Struggle 1857 in Gujarat?
1. Nearly 210 rebellious sepoys were executed at the cantonment in Shahibaug.
  2. The execution room is known as 'Fansi Ghar'.
  3. Captain Rutherford quelled the mutiny in Ahmedabad.
- (A) 1 and 2 only (B) 2 and 3 only  
(C) 2 only (D) 1, 2 and 3
017. Which of the following statement(s) is/are correct?
1. The 1<sup>st</sup> Mauryan Ruler, Brihadratha was assassinated by his Commander-in-Chief, Pushyamitra Sunga.
  2. The last Sunga King, Devabhuti was assassinated by his Brahmana Minister Vasudeva Kanva who ascended the throne.
  3. The last Ruler of Kanva dynasty was deposed by Andhras.
- (A) 1 and 2 only (B) 2 only  
(C) 2 and 3 only (D) 1, 2 and 3
018. Which of the following statements are correct regarding Chavda Dynasty?
1. Panchasar was the capital of the Chavda ruler Jayasekhara.
  2. According to *Prabandha-Chintamani*, Vanaraja of Chavda dyansty ruled for 60 years.
  3. The Navasari Copper plate inscription was issued by Mulraja of Chalukya Dynasty
- (A) 1, 2 and 3 (B) 2 and 3 only  
(C) 1 and 3 only (D) 1 and 2 only
019. The local Praja Parishad of Rajkot had started a movement in 1934 under the leadership of \_\_\_\_\_ to oppose imposition of monopolies by the state.
- (A) Jamnalal Bajaj  
(B) Kasturba Gandhi  
(C) U.N. Dhebar  
(D) None of the above

020. વાઘેલા વંશ બાબતે નીચેના પૈકી કયું / કયા વિધાન / વિધાનો સાચું / સાચાં છે ?

1. વિશલદેવ વાઘેલાએ માળવા (પરમારો) સામે લશ્કરી ચડાઈઓ જીતી હતી.
2. વીરધવલના શાસન દરમ્યાન વસ્તુપાલ અને તેજપાલે ગિરનાર અને શેત્રુંજય પહાડીઓ ખાતે મંદિરોનું નિર્માણ કર્યું હતું.
3. દિલ્લીના સુલતાને દેવગઢમાં કર્ણદેવ ઉપર હુમલો કરવા માટે ગુલામ સેનાપતિ અલફખાન હેઠળ બીજુ સૈન્ય મોકલ્યું હતું.

(A) 1, 2 અને 3

(B) ફક્ત 2 અને 3

(C) ફક્ત 1 અને 2

(D) ફક્ત 1

021. નીચેના પૈકી કયો / કયા શિલાલેખ / શિલાલેખો કહે છે કે યુડાસમા વંશની સ્થાપના કરનાર ચૂડચંદ્ર હતા ?

1. વલ્લભી

2. કારિયાણી

3. ધંધુસર

4. વંથલી

(A) 1, 2, 3 અને 4

(B) ફક્ત 3

(C) ફક્ત 2, 3 અને 4

(D) ફક્ત 3 અને 4

022. નીચેના પૈકી કયાં વિધાનો સાચાં છે ?

1. તખ્તસિંહજીએ ભાવનગર રાજ્યમાં રાજ્યની પરિષદની સ્થાપના દ્વારા બંધારણીય શાસનની શરૂઆત કરી હતી.
2. વાઘજી ઠાકોરના અવસાન બાદ, રાજકુમાર લખધિરજી ઠાકોરને મોરબીના રાજા તરીકે જાહેર કરવામાં આવ્યાં હતાં.
3. સર વાઘજીએ રસ્તાઓ અને વઢવાણને મોરબી સાથે જોડતાં રેલ્વે નેટવર્કના નિર્માણમાં સહાય કરી હતી.

(A) 1, 2 અને 3

(B) ફક્ત 2 અને 3

(C) ફક્ત 1 અને 3

(D) ફક્ત 1 અને 2

023. રાજકોટ રાજ્યના રાજવી લાખાજીરાજ દ્વારા નીચેના પૈકી કઈ જાહેરકલ્યાણની પ્રવૃત્તિઓ કરવામાં આવી હતી ?

1. તમામ ચૂંટાયેલા સભ્યોની પ્રજાપ્રતિનિધિ સભાની સ્થાપના કરી.
2. કૃષિ બેંકની સ્થાપના કરી.
3. કાઠિયાવાડ હાઈસ્કૂલ હસ્તગત કરી અને તેનું નામ બદલીને આલ્ફ્રેડ હાઈસ્કૂલ કર્યું.
4. સ્ત્રીઓ માટે વાંચનાલય શરૂ કર્યું.

(A) ફક્ત 1 અને 3

(B) ફક્ત 2 અને 4

(C) ફક્ત 1, 2 અને 4

(D) 1, 2, 3 અને 4

024. બૌદ્ધ પરિષદો બાબતે નીચેના પૈકી કયા વિધાનો સાચાં છે ?

1. પ્રથમ બૌદ્ધ પરિષદ ઈ.સ. પૂર્વે 483 માં રાજગૃહ ખાતે સપ્તપર્ણી ગુફામાં યોજાઈ હતી.
2. બીજી બૌદ્ધ પરિષદ ઈ.સ. પૂર્વે 383 માં ઉજ્જૈન ખાતે યોજાઈ હતી.
3. ત્રીજી બૌદ્ધ પરિષદ ઈ.સ. પૂર્વે 250 માં અશોકના આશ્રય હેઠળ પાટલીપુત્ર ખાતે યોજાઈ હતી.
4. ચોથી બૌદ્ધ પરિષદ ઈ.સ. 72 માં કનિષ્કના આશ્રય હેઠળ કાશ્મિર ખાતે યોજાઈ હતી.

(A) 1, 2, 3 અને 4

(B) ફક્ત 2, 3 અને 4

(C) ફક્ત 1 અને 3

(D) ફક્ત 1, 3 અને 4

020. Which of the following statement(s) is/are correct regarding Vaghela Dynasty?

1. Vishaldev Vaghela has won military campaigns against Malwa (Parmara)
2. Vastupal and Tejpal built the temples at the Girnar and Shetrunjay hills during Virdhaval regime.
3. The Sultan of Delhi, sent another force under a slave general Alaf Khan, to attack Karandev in Devgadh

(A) 1, 2 and 3

(B) 2 and 3 only

(C) 1 and 2 only

(D) 1 only

021. Which of the following inscription(s) say/says that Chudachandra was the founder of Chudasma Dynasty?

1. Vallabhi

2. Kariyani

3. Dhandusar

4. Vanthali

(A) 1, 2, 3 and 4

(B) 3 only

(C) 2, 3 and 4

(D) 3 and 4 only

022. Which of the following statements are correct?

1. Takhatsinhji introduced the constitutional rule in Bhavnagar State by establishing a council of state
2. After the death of Waghjee Thakor, Prince Lakhdhirji Thakor was announced as the King of Morbi.
3. Sir Waghjee aided in building of roads and Railway network connecting Wadhwan with Morbi.

(A) 1, 2 and 3

(B) 2 and 3 only

(C) 1 and 3 only

(D) 1 and 2 only

023. Which of the following public welfare activities were done by Lakhajiraj, ruler of Rajkot State?

1. Established Praja Pratinidhi Sabha of all elected members
2. Established Agriculture Bank
3. Had taken over Kathiawad High School and renamed it as Alfred High School
4. Had started a library for women

(A) 1 and 3 only

(B) 2 and 4 only

(C) 1, 2 and 4 only

(D) 1, 2, 3 and 4

024. Which of the following statements are correct regarding Buddhist Councils?

1. First Buddhist Council was held in the Saptaparni cave at Rajgriha in 483 BC
2. Second Buddhist Council at Ujjain in 383 BC
3. Third Buddhist Council at Pataliputra under the patronage of Ashoka in 250 BC
4. Fourth council at Kashmir under the patronage of Kanishka in AD 72

(A) 1, 2, 3 and 4

(B) 2, 3 and 4 only

(C) 1 and 3 only

(D) 1, 3 and 4 only

025. હર્ષવર્ધન બાબતે નીચેના પૈકી કયા વિધાનો સાચાં છે ?

1. તેણે વલ્લભીના મૈત્રિક શાસક ધ્રુવસેન-બીજાને પરાજીત કર્યો હતો.
2. મૈસુરનો ભાસ્કરવર્મન તેનો મિત્ર (ally) હતો.
3. તે દર પાંચ વર્ષે પ્રયાગ ખાતે મહામોક્ષ પરિષદ બોલાવતો હતો.
4. તેણે પોતે કાદંબરી લખી હતી.

(A) ફક્ત 1 અને 2

(B) ફક્ત 1, 2 અને 3

(C) ફક્ત 1 અને 3

(D) ફક્ત 2, 3 અને 4

026. નીચેના પૈકી કયા વિધાનો સાચાં છે ?

1. પીવાના પાણી માટે ટાંકીનું નિર્માણ કરનાર ગુજરાતમાં પ્રથમ ભાવનગર રાજ્ય હતું.
2. જામનગરના રણજીતસિંહ મહાન ક્રિકેટર હતાં.
3. લાખાજીરાજે રાજકોટની પ્રજાપ્રતિનિધિ સભામાં સ્ત્રીઓ માટે પાંચ બેઠકો આરક્ષિત રાખી હતી.
4. મહારાજ સયાજીરાવ ગાયકવાડે વડોદરામાં 1894 માં સંગ્રહાલયની સ્થાપના કરી હતી.

(A) ફક્ત 1, 2 અને 4

(B) ફક્ત 2, 3 અને 4

(C) ફક્ત 1, 2 અને 3

(D) 1, 2, 3 અને 4

027. નટવરસિંહજી ભાવસિંહજી બાબતે નીચેના પૈકી કયા વિધાનો સાચાં છે ?

1. તેઓ પોરબંદરના છેલ્લાં મહારાજા હતા.
2. 1932 માં તેઓ પોતાના ઈંગ્લેન્ડના પ્રથમ ટેસ્ટ પ્રવાસમાં ભારતના સુકાની હતાં.
3. “ફોમ ધ ફ્લો ઓફ લાઈફ”, “ઈન્ડીયાઝ પ્રોબ્લેમ્સ : રીફ્લેક્શન્સ ઓફ એન એક્સ-રૂલર” અને “ઈન્ટરનેશનલ સોલિડારીટી” તેમની પ્રખ્યાત સાહિત્યિક કૃતિઓ હતી.

(A) ફક્ત 1 અને 3

(B) ફક્ત 1 અને 2

(C) ફક્ત 2 અને 3

(D) 1, 2 અને 3

028. નીચેના પૈકી કયા વિધાનો પુરંદરની સંધિનો ભાગ ન હતાં ?

1. શિવાજીના સગીર દિકરા શાંભાજીને 50,000 નો મનસબ આપવામાં આવ્યો.
2. મુઘલોએ શિવાજીના બીજાપુરના કેટલાક હિસ્સાને રાખવાના હક્કને માન્ય કર્યો.
3. શિવાજીએ તેમની પાસેના 35 કિલ્લાઓમાંથી 23 કિલ્લાઓ મુઘલોને સોંપવા પડ્યા હતા.
4. પુરંદરની સંધિની વાટાઘાટો શિવાજી દ્વારા રાજા જયસિંહ સાથે કરવામાં આવી હતી.

(A) ફક્ત 1 અને 3

(B) ફક્ત 2 અને 4

(C) ફક્ત 2, 3 અને 4

(D) 1, 2, 3 અને 4

025. Which of the following statements are correct regarding Harshvardhana?

1. He had defeated Dhruvsen II, the Maitraka ruler of Valabhi.
2. Bhaskervarman of Mysore was his ally
3. Every five years he convened Mahamoksha parisad at Prayag
4. He himself had written Kadambari

- (A) 1 and 2 only  
 (B) 1, 2 and 3 only  
 (C) 1 and 3 only  
 (D) 2, 3 and 4 only

026. Which of the following statements are correct?

1. Bhavnagar state was the first in Gujarat to construct a tank for drinking water
2. Ranjitsingh of Jamnagar was a great Cricketer
3. Lakhaji Raj had reserved five seats for women in Praja Pratinidhi Sabha of Rajkot.
4. Maharaja Sayajirao Gaekwad had established a Museum at Baroda in 1894.

- (A) 1, 2 and 4 only  
 (B) 2, 3 and 4 only  
 (C) 1, 2 and 3 only  
 (D) 1, 2, 3 and 4

027. Which of the following statements are correct regarding Natwarsinhji Bhavsinhji?

1. He was the last maharaja of Porbandar
2. He captained India in his first Test tour of England in 1932
3. "From the Flow of Life", "India's Problems: Reflections of an Ex-Ruler" and "International Solidarity" were his famous literary works

- (A) 1 and 3 only  
 (B) 1 and 2 only  
 (C) 2 and 3 only  
 (D) 1, 2 and 3

028. Which of the following statements were not part of Treaty of Purandar?

1. Shivaji's Minor Son Sambhaji was granted a mansab of 50000
2. The Mughals recognized the right of Shivaji to hold certain part of Bijapur
3. Shiavji had to surrender 23 forts to the Mughals out of 35 forts held by him.
4. Treaty of Purandar was negotiated by Shivaji with Raja Jai Singh

- (A) 1 and 3 only  
 (B) 2 and 4 only  
 (C) 2, 3 and 4 only  
 (D) 1, 2, 3 and 4

029. કુષાણ રાજા કનિષ્કના સામ્રાજ્ય બાબતે નીચેના પૈકી કયું / કયા વિધાન / વિધાનો સાચું / સાચાં છે ?

- (A) તેનું સામ્રાજ્ય ઉત્તરપશ્ચિમે ખૂતનથી પૂર્વના બનારસ સુધી વિસ્તરેલું હતું.  
 (B) તે ઉત્તરમાં કાશ્મિરથી દક્ષિણમાં સૌરાષ્ટ્ર અને માલવા સુધી વિસ્તરેલું હતું.  
 (C) (A) અને (B) બંને  
 (D) (A) અને (B) બંને પૈકી કોઈ નહીં

030. ભારતમાં અંગ્રેજ સરકાર દરમ્યાન આદિવાસી બળવાઓ બાબતે નીચેના પૈકી કયા વિધાનો સાચાં છે ?

1. રમ્પા વિદ્રોહ અંગ્રેજ સરકારના નવા પ્રતિબંધક જંગલ નિયમોની સામે હતો.  
 2. બંકીમચંદ્ર ચેટરજીની “આનંદમઠ” સંન્યાસી વિદ્રોહ આધારીત હતી.  
 3. મુન્ડા વિદ્રોહ દરમ્યાન બિરસા મુન્ડાએ પોતે ઈશ્વરના પ્રતિનિધિ હોવાનું જાહેર કર્યું.  
 (A) ફક્ત 1 અને 2  
 (B) ફક્ત 2 અને 3  
 (C) ફક્ત 1 અને 3  
 (D) 1, 2 અને 3

031. ભારતમાં વસાહતી શાસનના સંદર્ભે ઈલબર્ટ બિલમાં શું માંગવામાં આવ્યું હતું ?

- (A) જ્યાં સુધી અદાલતોની ફોજદારી હકૂમતને લાગેવળગે છે ત્યાં સુધી ભારતીયો અને યુરોપીયનોને સમકક્ષ લાવવાં.  
 (B) સ્થાનિક વર્તમાનપત્રોની સ્વતંત્રતા ઉપર કડક નિયંત્રણો મૂકવા કારણ કે તેને વસાહતી શાસકોના વિરોધી હોવા તરીકે જોવામાં આવતાં હતાં.  
 (C) શસ્ત્ર અધિનિયમમાં સુધારો કરી સ્થાનિક ભારતીયોને શસ્ત્ર રાખવા દેવાની પરવાનગી આપવી.  
 (D) ઉપરોક્ત પૈકી કોઈ નહીં.

032. નીચેના પૈકી કયા સત્યાગ્રહોમાં વલ્લભભાઈ પટેલે સક્રિય રીતે ભાગ લીધો હતો ?

1. ખેડા  
 2. નાગપુર ઝંડા સત્યાગ્રહ  
 3. બારડોલી  
 4. ધરાસણા  
 (A) 1, 2, 3 અને 4  
 (B) ફક્ત 1, 2 અને 3  
 (C) ફક્ત 1, 3 અને 4  
 (D) ફક્ત 2, 3 અને 4

033. નીચેના પૈકી કયા વિધાનો સાચાં છે ?

1. પોર્ટુગીઝ આઝાદી પૂર્વેના ભારતમાં વેપારીઓ તરીકે આવનાર પ્રથમ યુરોપીયનો હતાં.  
 2. ભારત છોડનાર પ્રથમ યુરોપીયન સત્તા ડચ હતાં.  
 3. કણાટક યુધ્ધોએ ભારતમાં ફ્રેન્ચના સંદર્ભે અંગ્રેજોની સર્વોપરિતા સ્થાપિત કરી.  
 4. અલ્હાબાદની 1865ની સંધિએ અંગ્રેજ ઈસ્ટ ઈન્ડીયા કંપનીને બંગાળમાં દિવાની હક્કો આપ્યાં.  
 (A) 1, 2, 3 અને 4  
 (B) ફક્ત 1 અને 2  
 (C) ફક્ત 1, 2 અને 3  
 (D) ફક્ત 1, 3 અને 4

029. Which of the following statement(s) is/are correct about the empire of Kanishka the Kushan king?
- (A) His empire extended from Khotan in the northwest to Benares in the east
  - (B) It extended from Kashmir in North to Saurashtra and Malwa in the south
  - (C) Both (A) and (B)**
  - (D) Neither (A) nor (B)
030. Which of the following statements are correct regarding tribal uprisings during British Government in India?
- 1. Rampa Rebellion was against new restrictive forest regulations of the British Government.
  - 2. Bankim Chandra Chatterjee's Anand Math was based on the Sanyasi Rebellion.
  - 3. During Munda Rebellion, Birsa Munda declared himself as the representative of God.
- (A) 1 and 2 only
  - (B) 2 and 3 only
  - (C) 1 and 3 only
  - (D) 1, 2 and 3**
031. With reference to colonial rule in India, what was sought by the Ilbert Bill?
- (A) To bring Indians and Europeans on par as far as the criminal jurisdiction of courts was concerned.**
  - (B) To impose severe restrictions on the freedom of the native press as it was perceived to be hostile to colonial rulers.
  - (C) To allow native Indians to possess arms by amending the Arms Act.
  - (D) None of the above
032. In which of the following Satyagrahas, Vallabhbhai Patel had actively participated?
- 1. Kheda
  - 2. Nagpur Flag Satyagraha
  - 3. Bardoli
  - 4. Dharasana
- (A) 1, 2, 3 and 4
  - (B) 1, 2 and 3 only**
  - (C) 1, 3 and 4 only
  - (D) 2, 3 and 4 only
033. Which of the following statements are correct?
- 1. Portuguese were the first Europeans to come to pre-independent India as traders
  - 2. Dutch were first European power to leave India
  - 3. Carnatic Wars established British supremacy in India with respect to French.
  - 4. The 1865, Treaty of Allahabad gave diwani rights in Bengal to English East India Company
- (A) 1, 2, 3 and 4
  - (B) 1 and 2 only
  - (C) 1, 2 and 3 only**
  - (D) 1, 3 and 4 only

034. નીચેના પૈકી કયા વિધાનો સાચાં છે ?

1. લાલા લાજપતરાયે તેમના સામાજિક સુધારણા કાર્યક્રમોના ટેકામાં આર્યસમાજની વેદોની સર્વોપરિતાની અપીલનો વિરોધ કર્યો.
2. કેશવચંદ્ર સેન નીચે બ્રહ્મોસમાજે સ્ત્રીઓની કેળવણી માટે પ્રચાર કર્યો.
3. નિરાશ્રિતો/શરણાર્થીઓમાં કાર્ય કરવા માટે વિનોબા ભાવેએ સર્વોદય સમાજની સ્થાપના કરી.

(A) ફક્ત 1 અને 2

(B) ફક્ત 2 અને 3

(C) ફક્ત 1 અને 3

(D) 1, 2 અને 3

035. નીચેના પૈકી કયા વિધાનો સાચાં છે ?

1. નહપાનને રાજા ગૌતમીપુત્ર શાતકર્ણી દ્વારા ઉથલાવી નાખવામાં આવ્યાં હતાં.
2. મૈત્રક રાજવંશે વલ્લભી પ્રદેશ ઉપર સાતમી સદી અને આઠમી સદીના પૂર્વાર્ધમાં શાસન કર્યું.
3. સેનાપતિ ભાટાર્ક મૌર્ય સામ્રાજ્ય હેઠળ સૌરાષ્ટ્રનો લશ્કરી ગવર્નર હતો.

(A) 1, 2 અને 3

(B) ફક્ત 2 અને 3

(C) ફક્ત 1 અને 2

(D) ફક્ત 1 અને 3

036. શક બાબતે નીચેના પૈકી કયા વિધાનો સાચાં છે ?

1. શક શાસક સસ્તાન પશ્ચિમ ક્ષત્રપ રાજવંશનો રાજવી હતો જેણે ઉજજૈન ઉપર રાજ કર્યું હતું.
2. સમુદ્રગુપ્તે શક રાજા રૂદ્રસિમ્હા-III ને હરાવ્યો અને તેના રાજ્યનું જોડાણ કર્યું અને વિક્રમાદિત્યનો ખિતાબ ધારણ કર્યો.
3. શક રાજા રૂદ્રદમનનું સામ્રાજ્ય કોંકણ, નર્મદા ખીણ, કાઠિયાવાડ અને ગુજરાત તેમજ માળવાના અન્ય ભાગોનો સમાવેશ કરતું હતું.

(A) 1, 2 અને 3

(B) ફક્ત 1 અને 3

(C) ફક્ત 2 અને 3

(D) ફક્ત 1 અને 2

037. નીચેના પૈકી કયા વિધાનો સાચાં છે ?

1. બનારસ કોંગ્રેસ (1905)માં ઉદામવાદીઓ અને નમ્રવાદીઓ વચ્ચેના મતભેદો દેખીતીરીતે સપાટી ઉપર આવ્યાં.
2. 1907 ના અધિવેશન માટેનું મૂળ સ્થળ પૂના હતું.
3. સુરત અધિવેશનના પ્રમુખ તીલક બન્યા હતાં.
4. સુરત અધિવેશન (1907) માં ભારતીય રાષ્ટ્રીય કોંગ્રેસમાં ભાગલા પડ્યાં.

(A) 1, 2, 3 અને 4

(B) ફક્ત 1, 2 અને 4

(C) ફક્ત 3 અને 4

(D) ફક્ત 2, 3 અને 4



034. Which of the following statements are correct?

1. Lala Lajpat Rai opposed the appeal of Arya Samaj to the authority of Vedas in support of its social reform programmes.
2. Under Keshub Chandra Sen, the Brahmo Samaj campaigned for women's education.
3. Vinoba Bhave founded the Sarvodaya Samaj to work among refugees.

(A) 1 and 2 only

(B) 2 and 3 only

(C) 1 and 3 only

(D) 1, 2 and 3

035. Which of the following statements are correct?

1. Nahapana was overthrown by the King Goutami Putra Satakarni
2. Maitaraka dynasty ruled the Vallabhi region in the 7<sup>th</sup> and first half of the 8<sup>th</sup> century
3. Senapati (general) Bhatarka, was a military governor of Saurashtra under Mauryan Empire

(A) 1, 2 and 3

(B) 2 and 3 only

(C) 1 and 2 only

(D) 1 and 3 only

036. Which of the following statements are correct regarding Sakas?

1. Chastana was a Saka ruler of the Western Kshatrapas (Satraps) dynasty who ruled over Ujjain.
2. Samudragupta defeated the Saka king Rudrasimha III and annexed his kingdom and assumed the title Vikramaditya.
3. Saka ruler Rudradaman's kingdom included Konkan, Narmada valley, Kathiawar, other parts of Gujarat and Malwa

(A) 1, 2 and 3

(B) 1 and 3 only

(C) 2 and 3 only

(D) 1 and 2 only

037. Which of the following statements are correct?

1. It was the Banaras Congress (1905) that the differences between the extremists and the moderates surfaced noticeably
2. The original venue for 1907 session was Pune
3. Tilak became the President of the Surat congress
4. The Surat Congress (1907) saw the split in the Indian National Congress

(A) 1, 2, 3 and 4

(B) 1, 2 and 4 only

(C) 3 and 4 only

(D) 2, 3 and 4 only

038. કાન્તિવીર વાસુદેવ ફડકે બાબતે નીચેના પૈકી કયા વિધાનો સાચાં છે ?

1. તેઓએ સરકારી નોકરીમાંથી રાજીનામું આપ્યું અને છૂપી કાન્તિકારી સંસ્થાની સ્થાપના કરી.
2. તેઓએ રેલવે, પોસ્ટ ઓફિસો અને અન્ય સરકારી મિલ્કતોને નુકશાન કરવાની અને સરકારી અમલદારોની હત્યા કરવાની વ્યાપક યોજના ઘડી.
3. તેઓને 1880 માં ફાંસીની સજા આપવામાં આવી હતી.

(A) ફક્ત 1 અને 2

(B) ફક્ત 1 અને 3

(C) ફક્ત 2 અને 3

(D) ફક્ત 1, 2 અને 3

039. બિપિનચંદ્ર પાલ બાબતે નીચેના પૈકી કયા વિધાનો સાચાં છે ?

1. તેઓએ અંગ્રેજી સાપ્તાહિક 'ન્યૂ ઈન્ડિયા' શરૂ કર્યું હતું.
2. તેઓએ 'વંદેમાતરમ્' અંગ્રેજી સાપ્તાહિક સમાચારપત્ર શરૂ કર્યું અને તેમાં સરકાર સામે ઉગ્ર લેખો લખ્યાં.
3. ગાંધીજીના કહેવાથી તેઓએ 1920-21 માં શરૂ કરેલ અસહકારના આંદોલનને ટેકો આપ્યો.

(A) ફક્ત 1 અને 2

(B) ફક્ત 1 અને 3

(C) ફક્ત 2 અને 3

(D) 1, 2 અને 3

040. નીચેના પૈકી કઈ જોડી/જોડીઓ સાચી રીતે જોડાયેલી છે ?

અખબાર / સામયિક — સ્થાપક

1. બેંગાલી — સુરેન્દ્રનાથ બેનર્જી
2. અલ હિલાલ — મીર ઉસ્માન અલી
3. ગદર — સચિન્દ્રનાથ સાન્યાલ
4. નેશનલ હેરાલ્ડ — જવાહરલાલ નહેરૂ

(A) 1, 2 અને 3

(B) ફક્ત 1 અને 3

(C) ફક્ત 1 અને 4

(D) ફક્ત 4

041. નીચેના પૈકી કયું / કયા વિધાન / વિધાનો સાચું / સાચાં છે ?

(A) 1861 ના ધારા હેઠળની ધારાસભિતિની રચનાથી ભારતીયોની વહીવટીતંત્ર વિશેની ફરિયાદો સાંભળવાની સરકારને તક મળી.

(B) ધારાસભિતિમાં લેવાયેલાં સભ્યો સામાન્ય વર્ગનું પ્રતિનિધિત્વ ધરાવતાં હતાં.

(C) (A) અને (B) બંને

(D) (A) અને (B) બંને પૈકી એકપણ નહીં

038. Which of the following statements regarding revolutionary Vasudev Fadke are correct?

1. He resigned from government job and established a secret revolutionary organization.
2. He designed comprehensive plans to damage railway, post offices, and other government properties and kill government officers
3. He was given capital punishment in 1880

(A) 1 and 2 only

(B) 1 and 3 only

(C) 2 and 3 only

(D) 1, 2 and 3

039. Which of the following statements about Bipin Chandra Pal are correct?

1. He started the English weekly “New India”
2. He started English weekly newspaper “Vandemataram” and wrote fierce articles against the government
3. On being told by Gandhiji he supported the Non-Cooperation movements started in 1920-21

(A) 1 and 2 only

(B) 1 and 3 only

(C) 2 and 3 only

(D) 1, 2 and 3

040. Which of the following pair(s) is/are correctly matched?

Newspaper/ Journal	–	Founder
1. Bengalee	–	Surendranath Banarjee
2. Al Hilal	–	Mir Usman Ali
3. Gadar	–	Sachindranath Sanyal
4. National Herald	–	Jawaharlal Nehru

(A) 1, 2 and 3 only

(B) 1 and 3 only

(C) 1 and 4 only

(D) 4 only

041. Which of the following statement(s) is/are correct?

(A) The government got an opportunity to hear the grievances of Indians about the administrative system with the formation of legislative assembly under the 1861 Act

(B) The members included in the legislative assembly represented the general class.

(C) Both (A) and (B)

(D) Neither (A) nor (B)

042. નીચેના પૈકી કયા વિધાનો સાચાં છે ?

1. અલ્હાબાદમાં ભરાયેલ ચોથા અધિવેશન પ્રસંગે (1888) મહાસભાને પોતાની પ્રત્યે બદલાયેલી સરકારી નીતિનો પ્રથમ કડવો અનુભવ થયો.
2. ખોરાક મેળવવા બ્રાઈટ અને કોલ્ડનના નેતૃત્વ તળે 'એન્ટી કોર્ન લો લીગે' ઈંગ્લેન્ડમાં જેવું આંદોલન ચલાવ્યું હતું તેવું આંદોલન ભારતમાં શરૂ કરવાની હ્યુમે સરકારને ચીમકી આપી.
3. અલીગઢ કોલેજના અંગ્રેજ પ્રિન્સિપાલ થિયોડર બેકે મહાસભાને પોતાનો સંપૂર્ણ ટેકો જાહેર કર્યો.

(A) ફક્ત 1 અને 2

(B) ફક્ત 1 અને 3

(C) ફક્ત 2 અને 3

(D) 1, 2 અને 3

043. લૉર્ડ કર્ઝન બાબતે નીચેના પૈકી કયા વિધાનો સાચાં છે ?

1. લૉર્ડ કર્ઝને પ્રથમ વખત ખેતી સુધારણા માટેના વૈજ્ઞાનિક પ્રયોગો અમલમાં મૂક્યાં.
2. તેઓએ જમીન મહેસૂલ ઠરાવવાના અને એકત્ર કરવાની પદ્ધતિમાં ખેડૂતોને લાભદાયક એવાં મહત્વના સુધારા કર્યાં.
3. તેઓએ અસાધારણ સંજોગો સિવાય જમીન મહેસૂલની વધારે આંકણી નહિ કરવાનો તથા તે કડક રીતે વસૂલ નહિ કરવાનો મહેસૂલ અધિકારીઓને આદેશ આપ્યો.

(A) ફક્ત 1 અને 2

(B) ફક્ત 2 અને 3

(C) 1, 2 અને 3

(D) ઉપરોક્ત પૈકી કોઈ નહીં

044. સરકારની દમનકારી નીતિનો વિરોધ કરવા માટે 14મી અને 15મી એપ્રિલ, 1906 માં બેરિસ્ટર અબ્દુલ રસુલના પ્રમુખપદે ..... ખાતે પ્રાંતિક પરિષદ યોજવામાં આવી હતી. જેમાં અબ્દુલ રસુલ અને સુરેન્દ્રનાથ બેનરજીની આગેવાની હેઠળ 'વંદેમાતરમ્' ગીત ગાતું સરઘસ સભાસ્થળે પહોંચ્યું.

(A) રંગપુર

(B) બરિસાલ

(C) કલકત્તા

(D) કાનપુર

045. મોર્લે-મિન્ટોના સુધારાઓ બાબતે નીચેના પૈકી કયા વિધાનો સાચાં છે ?

1. આ સુધારાઓએ પંપાળવાની અને ફટકારવાની નીતિ અખત્યાર કરી.
2. મુસ્લિમો તથા જમીનદારોને અલગ મતદારમંડળો આપવામાં આવ્યાં.
3. શીખ અને લઘુમતીઓને ફાયદાકારક થાય એવાં ધારાધોરણો પણ સુધારામાં મૂકવામાં આવ્યાં.

(A) ફક્ત 1 અને 2

(B) ફક્ત 1 અને 3

(C) ફક્ત 2 અને 3

(D) 1, 2 અને 3

046. ડૉ. એની બેસન્ટે નીચેના પૈકી કયાં અખબાર / અખબારોમાં હોમરુલ લીગનો પ્રચાર કર્યો ?

(A) ન્યુ ઈન્ડિયા

(B) કોમનવીલ

(C) (A) અને (B) બંને

(D) (A) અને (B) બંને પૈકી એકપણ નહીં

042. Which of the following statements are correct?

1. The Mahasabha had its first bitter experience of the changed government policy towards it at the occasion of the fourth session (1888) at Allahabad
2. Hume warned the government to start a movement like Anti corn Law League started in England under the leadership of Bright and Cobden to get food
3. Theodor Beck, the English principal of Aligarh College declared his complete support to Mahasabha

(A) 1 and 2 only

(B) 1 and 3 only

(C) 2 and 3 only

(D) 1, 2 and 3

043. Which of the following statements about Lord Curzon are correct?

1. Lord Curzon implemented the scientific experiments for Agricultural reforms for the first time
2. He made important reforms beneficial to the farmers in the method of deciding land revenue and collection
3. He ordered the revenue officials not to assess more land revenue except extraordinary circumstances and not to make a strict recovery

(A) 1 and 2 only

(B) 2 and 3 only

(C) 1, 2 and 3

(D) None of the above

044. The regional conference under the chairmanship of Barrister Abdul Rasul was held on 14<sup>th</sup> and 15<sup>th</sup> April 1906 at \_\_\_\_\_ to oppose the oppressive policy of government wherein the procession reached the location of meeting place singing Vandemataram under the leadership of Abdul Rasul and Surendranath Banarjee

(A) Rangpur

(B) Barisal

(C) Calcutta

(D) Kanpur

045. Which of the following statements are correct about Morley–Minto Reforms?

1. These reforms adopted the policy of Carrot and Stick
2. Muslims and landlords were given separate electorates
3. Rules and regulations beneficial to Sikhs and minorities were also included in the reforms

(A) 1 and 2 only

(B) 1 and 3 only

(C) 2 and 3 only

(D) 1, 2 and 3

046. In which of the following newspapers did Dr. Annie Besant make the propaganda of Home Rule League?

(A) New India

(B) Commonweal

(C) Both (A) and (B)

(D) Neither (A) nor (B)

047. દાંડી સત્યાગ્રહના આગળના કાર્યક્રમ તરીકે ગાંધીજીએ નીચેના પૈકી કયા સ્થળે / સ્થળોએ મીઠાના અગરો કબજે કરવાનો નિર્ધાર કર્યો ?
- (A) ધરાસણા (B) વડાળા  
(C) (A) અને (B) બંને (D) (A) અને (B) બંને પૈકી એકપણ નહીં
048. સ્વરાજ્યની પ્રાપ્તિ બાદ હિન્દ સાથે દેશી રાજ્યોના એકીકરણ બાબતે નીચેના પૈકી કયા વિધાનો સાચાં છે ?
1. હૈદરાબાદના નિઝામે પોતાના રાજ્યને 15મી ઓગસ્ટના રોજ સ્વતંત્ર જાહેર કર્યું.  
2. હૈદરાબાદે પાકિસ્તાન સાથે 'સ્ટેન્ડ સ્ટીલ'નો કરાર કર્યો.  
3. હૈદરાબાદે ભારત વિરુદ્ધ સંયુક્ત રાષ્ટ્રસંઘમાં ફરિયાદ દાખલ કરી.
- (A) ફક્ત 1 અને 2 (B) ફક્ત 1 અને 3  
(C) ફક્ત 2 અને 3 (D) 1, 2 અને 3
049. લીંબડી સત્યાગ્રહ બાબતે નીચેના પૈકી કયા વિધાનો સાચાં છે ?
1. 24મી ડિસેમ્બર, 1938 ના રોજ વિક્રલભાઈ પટેલના નેતૃત્વ હેઠળ 'લીંબડી પ્રજામંડળ'ની સ્થાપના કરાઈ.  
2. લીંબડીના યુવરાજ લીંબડી શહેરનો વહીવટ પ્રજાના પ્રતિનિધિઓને સોંપવા તૈયાર હતાં પરંતુ લીંબડી રાજ્યના ગામોમાં આવી છૂટ આપવા તૈયાર ન હતાં.  
3. લીંબડી પ્રજામંડળે સમગ્ર હિંદમાં લીંબડી રાજ્યના રૂનો બહિષ્કાર કરવાનું એલાન આપ્યું હતું.
- (A) ફક્ત 1 અને 2 (B) ફક્ત 1 અને 3  
(C) ફક્ત 2 અને 3 (D) 1, 2 અને 3
050. સિધ્ધરાજ જયસિંહ બાબતે નીચેના પૈકી કયા વિધાનો સાચાં છે ?
1. તેણે પોતાના નામનો 'સિંહ સંવત' શરૂ કર્યો.  
2. સિધ્ધરાજે પરમાર નરેશ યશોવર્મા સાથેના યુધ્ધમાં સમજૂતીના ભાગરૂપે મેવાડ, ડુંગરપુર અને વાંસવાડાના પ્રદેશો શાર્કભરીના ચાહમાન રાજા અણોરાજને સોંપ્યા.  
3. સિદ્ધરાજ જયસિંહ પરમ માહેશ્વર (શેવ) હતો.
- (A) ફક્ત 1 અને 2 (B) ફક્ત 1 અને 3  
(C) ફક્ત 2 અને 3 (D) 1, 2 અને 3
051. ગ્રીકો-ભારતીય કલા બાબતે નીચેના પૈકી કયું / કયા વિધાન / વિધાનો સાચું / સાચાં છે ?
1. વાદળી-ભૂખરાં રેતીના પથ્થરનો ઉપયોગ  
2. બૌદ્ધ અને જૈન ધર્મના વિષયવસ્તુ ઉપર આધારિત  
3. સાતવાહન રાજવીઓ દ્વારા આશ્રય-ઉત્તેજન
- (A) ફક્ત 1 (B) ફક્ત 1 અને 2  
(C) ફક્ત 2 અને 3 (D) 1, 2 અને 3

047. At which of the following places did Gandhiji decide to take the possession of Salt works as the next programme of Dandi Satyagrah?

(A) Dharasana

(B) Vadala

(C) Both (A) and (B)

(D) Neither (A) nor (B)

048. Which of the following statements are correct regarding the integration of princely states with India after attaining Independence?

1. The Nizam of Hyderabad declared his state independent on 15<sup>th</sup> August

2. Hyderabad signed standstill agreement with Pakistan

3. Hyderabad filed a complaint against India at United Nations Organization

(A) 1 and 2 only

(B) 1 and 3 only

(C) 2 and 3 only

(D) 1, 2 and 3

049. Which of the following statements about Limbdi Satyagrah are correct?

1. Limbdi Prajamandal was established on 24<sup>th</sup> December 1938 under the leadership of Vitthalbhai Patel

2. The Prince of Limbdi was ready to handover the administration of Limbdi city to the representatives of the people but was not ready to give such relaxation in the villages of the Limbdi State

3. The Limbdi Prajamandal had announced to boycott the cotton of Limbdi state in entire India

(A) 1 and 2 only

(B) 1 and 3 only

(C) 2 and 3 only

(D) 1, 2 and 3

050. Which of the following statements about Siddharaj Jaysinh are correct?

1. He started "Sinha Samvant" in his name

2. Siddharaj handed over the regions of Mewar, Dungarpur and Banswada to Chawda King Arnoraja of Saakambari as a part of treaty in the war with Parmar king Yashoverma

3. Siddharaj Jaysinh was an absolute Maheshwar (Shaiv)

(A) 1 and 2 only

(B) 1 and 3 only

(C) 2 and 3 only

(D) 1, 2 and 3

051. Which of the following statement(s) is/are correct regarding Greeco-Indian Art?

1. Use of bluish-gray sandstone

2. Theme based on Buddhism and Jainism.

3. Patronised by Satavahana rulers.

(A) 1 only

(B) 1 and 2 only

(C) 2 and 3 only

(D) 1, 2 and 3

052. વિવિધ કૃતિઓ બાબતે નીચેના પૈકી કયા વિધાનો સાચાં છે ?

1. “રત્નાવલી” એ રત્નાવલી નામની એક સુંદર રાજકુમારી અને હર્ષવર્ધન નામના એક મહાન રાજા વિશેનું એક સંસ્કૃત નાટક છે.
2. “નાગાનન્દ” એ પાંચ અંકોમાં એક નાટક છે કે જે વિદ્યાધરના રાજકુમાર જીમૂતવાહનના સ્વબલિદાનની હકીકતો રજૂ કરે છે.
3. “પ્રિયદર્શિકા” પણ ઉદયન અને પ્રિયદર્શિકાના મિલનની વિષયવસ્તુ ધરાવતી ચાર અંકોમાં નાટિકા છે.

(A) ફક્ત 1 અને 3

(B) ફક્ત 2 અને 3

(C) ફક્ત 1 અને 2

(D) 1, 2 અને 3

053. બશૌલી ચિત્રશૈલી બાબતે નીચેના પૈકી કયા વિધાનો સાચાં છે ?

1. રાજા કિપાલ પાલના આશ્રય હેઠળ ચિત્રકલાનો વિકાસ થયો.
2. મજબૂત અને વિરોધાભાસી રંગોનો ઉપયોગ એ બશૌલી ચિત્રકલાનું એક અગત્યનું લક્ષણ છે.
3. ચિત્રકલાની શૈલી ઉપર મુઘલ ચિત્રકલાની અસર છે.

(A) ફક્ત 1 અને 3

(B) ફક્ત 2 અને 3

(C) ફક્ત 1 અને 2

(D) 1, 2 અને 3

054. નીચેના વિધાનોની મદદથી નૃત્યનો પ્રકાર ઓળખી બતાવો.

1. તે ભારતના પશ્ચિમ ભાગોમાં સ્ત્રીઓ દ્વારા કરવામાં આવતું લોકનૃત્ય છે.
2. આ નૃત્ય સ્ત્રીઓ દ્વારા પહેરવામાં આવતાં લહેરાતા ઘાઘરાના અદભૂત રંગો દર્શાવે છે.
3. નૃત્ય કરનારાઓ માટીનો ઘડો રાખે છે અને હાથ અને પગની ચપળ હિલચાલ સાથે નૃત્ય કરે છે.
4. આ મૂળભૂત રીતે સામુદાયિક નૃત્ય છે અને શુભ પ્રસંગો પર કરવામાં આવે છે.

(A) કાલબેલિયા

(B) ધૂમર

(C) ગરબા

(D) કચ્છીઘોડી

055. ગાંધાર કલાશૈલી બાબતે નીચેના પૈકી કયા વિધાનો સાચાં છે ?

1. તે માનવસ્વરૂપમાં બુદ્ધના પ્રથમ શિલ્પ નિદર્શનો માટે ઓળખાય છે.
2. ગાંધાર કલા અને શિલ્પ શૈલી નિર્માણ માટે ટપકીવાળાં લાલ રેતીના પથ્થરનો ઉપયોગ કરે છે.
3. ગાંધર્વ શૈલીની કલા મુખ્યત્વે મહાયાન હતી અને તે ગ્રીકો-રોમન પ્રભાવ દર્શાવે છે.

(A) ફક્ત 1 અને 2

(B) ફક્ત 1 અને 3

(C) ફક્ત 2 અને 3

(D) 1, 2 અને 3



052. Which of the following statements are correct regarding various works?

1. “Ratnavali” is a Sanskrit drama about a beautiful princess named Ratnavali, and a great king named Harshavardhana
2. The “Nagananda” is a play in five acts that details the self-sacrifice of Jimutavahana, prince of Vidyadharas.
3. The “Priyadarshika” is also a natika in four acts, having the theme – the union of Udayana and Priyadarshini

(A) 1 and 3 only

(B) 2 and 3 only

(C) 1 and 2 only

(D) 1, 2 and 3

053. Which of the following statements are correct regarding Basholi School of paintings?

1. The painting flourished under the patronage of Raja Kripal Pal.
2. Use of strong and contrasting colours is an important feature of Basholi School of painting.
3. The style of painting is influenced by the Mughal painting.

(A) 1 and 3 only

(B) 2 and 3 only

(C) 1 and 2 only

(D) 1, 2 and 3

054. Identify the dance form with the help of following statements.

1. It is a folk dance performed by women in the western parts of India.
2. The dance displays the spectacular colours of the flowing ‘ghaghra’ worn by women.
3. The performers carry earthen pots and dance with slick movements of the hands and feet.
4. This is basically a community dance and performed on auspicious occasions.

(A) Kalbelia

(B) Ghoomar

(C) Garba

(D) Kutchigodi

055. Which of the following statements are correct regarding Gandhara School of Art?

1. It is recognised for the first sculptural demonstrations of the Buddha in human form.
2. The Gandhara School of Art & Sculpture used spotted red sandstone for construction.
3. The art of the Gandhara School was chiefly Mahayana and shows Greco-Roman impact.

(A) 1 and 2 only

(B) 1 and 3 only

(C) 2 and 3 only

(D) 1, 2 and 3

056. યાદી-I ને યાદી-II સાથે જોડો.

યાદી-I

a) ભારવિ

b) કાલિદાસ

c) દણ્ડી

d) વિષ્ણુશર્મા

(A) a - 4, b - 1, c - 2, d - 3

(C) a - 1, b - 3, c - 4, d - 2

યાદી-II

1. કુમારસંભવમ્

2. દશકુમારચરિત્ર

3. પંચતંત્ર

4. કિરાતાર્જુનીયમ્

(B) a - 3, b - 2, c - 4, d - 1

(D) a - 2, b - 4, c - 1, d - 3

057. નીચેના પૈકી કઈ જોડીઓ સાચી છે ?

1. આલવર — વૈષ્ણવ સંતો

2. નયનાર — શૈવ સંતો

3. વારકરી — વિઠોબા સંપ્રદાયના સંતો

(A) 1, 2 અને 3

(B) ફક્ત 1 અને 2

(C) ફક્ત 2 અને 3

(D) ફક્ત 1 અને 3

058. પ્રખ્યાત સત્રીય નૃત્ય બાબતે નીચેના પૈકી કયા વિધાનો સાચાં છે ?

1. સત્રીય સંગીત, નૃત્ય અને નાટકનું સંયોજન છે.

2. તે આસામના વૈષ્ણવોની સદીઓ જૂની જીવંત પરંપરા છે.

3. તે તુલસીદાસ, કબીર અને મીરાબાઈ દ્વારા રચાયેલા ભક્તિગીતોના રાગ અને તાલ ઉપર આધારિત છે.

(A) ફક્ત 1 અને 2

(B) ફક્ત 2 અને 3

(C) ફક્ત 1 અને 3

(D) 1, 2 અને 3

059. નીચેના પૈકી કયા વિધાનો સાચાં છે ?

1. સિદી અથવા સિદી એ ગુજરાતના કેટલાક જિલ્લાઓના મુખ્ય આદિવાસી સમુદાયો પૈકીનું એક છે.

2. સિદી ઝારખંડ અને મધ્યપ્રદેશના રાજ્યોના કેટલાક ભાગોમાં પણ રહે છે.

3. ધમાલનૃત્ય સિદી દ્વારા કરવામાં આવે છે, તે શિકાર કરવા માટે સિદીના જુસ્સાના જુસ્સાને પ્રતિબિંબિત કરે છે.

(A) ફક્ત 1 અને 2

(B) ફક્ત 2 અને 3

(C) ફક્ત 1 અને 3

(D) 1, 2 અને 3

056. Match List-I with List-II

List-I

- a) Bharavi
- b) Kalidas
- c) Dandin
- d) Vishnu Sharma

(A) a - 4, b - 1, c - 2, d - 3

(C) a - 1, b - 3, c - 4, d - 2

List-II

- 1. Kumar Sambhavam
- 2. Dashakumara Charita
- 3. Panchatantra
- 4. Kiratarjuniyam

(B) a - 3, b - 2, c - 4, d - 1

(D) a - 2, b - 4, c - 1, d - 3

057. Which of the following pairs are correct?

- 1. Alwars – Vaishnavite Saints
- 2. Naynars – Shaivite Saints
- 3. Varakari – Saints of Vithoba Cult

(A) 1, 2 and 3

(B) 1 and 2 only

(C) 2 and 3 only

(D) 1 and 3 only

058. Which of the following statements are correct regarding the famous Sattriya dance?

- 1. Sattriya is a combination of music, dance and drama.
- 2. It is a centuries-old living tradition of Vaishnavites of Assam.
- 3. It is based on classical Ragas and Talas of devotional songs composed by Tulsidas, Kabir and Mirabai.

(A) 1 and 2 only

(B) 2 and 3 only

(C) 1 and 3 only

(D) 1, 2 and 3

059. Which of the following statements are correct?

- 1. Siddi or Sheedi is one of the major tribal communities of some districts of Gujarat.
- 2. Siddi are also living in parts of state of Jharkhand and Madhya Pradesh.
- 3. Dhamal dance is performed by the Siddi, it reflects the Siddi's passion for hunting.

(A) 1 and 2 only

(B) 2 and 3 only

(C) 1 and 3 only

(D) 1, 2 and 3

060. હરીશ મીનાશ્રુ બાબતે નીચેના પૈકી કયા વિધાનો સાચાં છે ?

1. હરીશ મીનાશ્રુએ 2020નો ગુજરાતી ભાષામાં સાહિત્ય અકાદમી પુરસ્કાર પ્રાપ્ત કર્યો છે.
  2. તેઓ કાવ્ય સંગ્રહ ‘બનારસ ડાયરી’ (2016)ના કર્તા છે.
  3. તેઓ અન્ય અગત્યની કૃતિઓ જેવી કે “ધ્રીભાંગ સુંદર એની પેરે ડોલ્યા” અને “સુનો ભાઈ સાધો”ના પણ કર્તા છે.
- (A) ફક્ત 1 અને 3 (B) ફક્ત 2 અને 3  
(C) ફક્ત 1 અને 2 (D) 1, 2 અને 3

061. બ્રહ્મો સમાજ બાબતે નીચેના પૈકી કયું / કયાં વિધાન / વિધાનો સાચું / સાચાં છે ?

1. તેણે મૂર્તિપૂજાનો વિરોધ કર્યો.
  2. તેણે ધાર્મિક ગ્રંથોના અર્થઘટન માટે પુરોહિત વર્ગની જરૂરિયાતને નકારી કાઢી.
  3. વેદો અચૂક છે એ સિધ્ધાંતને તેમણે લોકપ્રિય બનાવ્યો.
- (A) ફક્ત 1 (B) ફક્ત 1 અને 2  
(C) ફક્ત 3 (D) 1, 2 અને 3

062. નીચેના પૈકી કયું / કયા વિધાન / વિધાનો સાચું / સાચાં છે ?

1. પીછવાઈ એ ભગવાનની મૂર્તિની પાછળ પૃષ્ઠભૂમિ તરીકે ઉપયોગમાં લેવામાં આવતું મંદિર-દિવાલનું લટકણીયું છે.
  2. પીછવાઈ એ કાપડ પરનું ચિત્રકામ છે.
  3. પીછવાઈઓમાં ઉત્સવો અને ઉજવણીઓ જેવી કે શરદપૂર્ણિમા, રાસ-લીલા, ગોવર્ધન પૂજા, જન્માષ્ટમી, ગોપાષ્ટમી, દિવાળી અને હોળીનું અવારનવાર નિરૂપણ કરવામાં આવે છે.
- (A) 1, 2 અને 3 (B) ફક્ત 2 અને 3  
(C) ફક્ત 1 અને 3 (D) ફક્ત 3

063. નીચેના પૈકી કયા વિધાનો સાચાં છે ?

1. ભારતમાં આયાત કરેલી વિદેશી ફિલ્મ માટે CBFC પ્રમાણપત્ર જરૂરી નથી.
  2. એક ભાષામાંથી બીજી ભાષામાં ડબ કરેલી ફિલ્મ માટે CBFC પ્રમાણપત્ર જરૂરી છે.
  3. S વર્ગ પ્રમાણપત્રવાળી ફિલ્મો વિશિષ્ટ પ્રેક્ષકો પૂરતી મર્યાદિત છે.
- (A) 1, 2 અને 3 (B) ફક્ત 2 અને 3  
(C) ફક્ત 1 અને 2 (D) ફક્ત 1 અને 3

060. Which of the following statements are correct regarding Harish Meenashru?

1. Harish Meenashru has received the 2020 Sahitya Akademi Award in Gujarati language.
2. He is an author of poetry collection of Banaras Diary (2016).
3. He is also an author of other significant works such as '*Dhribaangsundar Eni Pere Dolya*' and '*Suno Bhai Sadho*'

(A) 1 and 3 only

(B) 2 and 3 only

(C) 1 and 2 only

(D) 1, 2 and 3

061. Which of the following statement(s) is/are correct regarding Brahmosamaj?

1. It opposed Idolatry
2. It denied the need of a priestly class for interpreting the religious texts.
3. It popularised the doctrine that the Vedas are infallible.

(A) 1 only

(B) 1 and 2 only

(C) 3 only

(D) 1, 2 and 3

062. Which of the following statement(s) is/are correct?

1. Pichvai is the temple wall hanging used as a backdrop of the God's idol.
2. Pichvai is cloth painting.
3. Festivals and celebrations such as Sharad Purnima, Raas Leela, Goverdhan Puja, Janmashtami, Gopashtami, Diwali and Holi are frequently depicted in Pichvais.

(A) 1, 2 and 3

(B) 2 and 3 only

(C) 1 and 3 only

(D) 3 only

063. Which of the following statements are correct?

1. A foreign film imported to India does not need a CBFC certification
2. Dubbed film from one language to another needs CBFC certification.
3. S category certificate films are restricted to specialized audiences.

(A) 1, 2 and 3

(B) 2 and 3 only

(C) 1 and 2 only

(D) 1 and 3 only

064. યાદી-I ને યાદી-II સાથે જોડો.

ઉપનામ

1. મકરંદ

2. સુકાની

3. મુમુક્ષુ

4. વનમાળી

(A) 1 - b, 2 - c, 3 - d, 4 - a

(C) 1 - a, 2 - d, 3 - c, 4 - b

કર્તા

a) રમણભાઈ મહીપતરામ નિલકંઠ

b) ઝવેરચંદ મેઘાણી

c) આનંદશંકર ધ્રુવ

d) કેશવલાલ ધ્રુવ

(B) 1 - a, 2 - b, 3 - c, 4 - d

(D) 1 - c, 2 - b, 3 - a, 4 - d

065. યાદી-I ને યાદી-II સાથે જોડો.

સ્તુપ

1. ચૌખંડી સ્તુપ

2. રામભર સ્તુપ

3. કેસરીયા સ્તુપ

4. અનિમેષ લોચન સ્તુપ

(A) 1 - b, 2 - c, 3 - d, 4 - a

(C) 1 - c, 2 - b, 3 - a, 4 - d

સ્થળ

a) પૂર્વ ચંપારણ

b) કુશીનગર

c) સારનાથ

d) બૌદ્ધ ગયા

(B) 1 - a, 2 - b, 3 - d, 4 - c

(D) 1 - a, 2 - b, 3 - c, 4 - d

066. નીચેના પૈકી કયા વિધાનો સાચાં છે ?

1. નળ સરોવરની નજીક રહેતા માછીમાર સમુદાય દ્વારા પઢારનૃત્ય કરવામાં આવે છે.

2. તેઓ હિંદુ ધર્મના અનુયાયીઓ છે અને દેવી દુર્ગાની વિવિધ સ્વરૂપોમાં પૂજા કરે છે.

3. નૃત્ય કરતી વખતે નૃત્યકરનાર તેમના હાથમાં નાની લાકડીઓ પકડી રાખે છે અને પાણી સાથે સંકળાયેલા ગીતો ગાતાં ગાતાં હોડીઓ હાંકવાનો અભિનય કરે છે.

4. પહેરવેશનો એક અગત્યનો ભાગ છે સુંદર ભરતકામની ભાત સાથેની છત્રી તથા તેની ઝીણી ફીત અને આભલાકામ અદભૂત હોય છે.

(A) ફક્ત 2, 3 અને 4

(B) ફક્ત 1, 2 અને 3

(C) ફક્ત 1, 3 અને 4

(D) 1, 2, 3 અને 4

067. વડનગર બૌદ્ધ મઠ બાબતે નીચેના પૈકી કયા વિધાનો સાચાં છે ?

1. બીજી થી સાતમી સદીનું આ બૌદ્ધ મઠ વડનગરના કિલ્લેબંધ વિસ્તારની અંદર આવેલું છે.

2. મઠને બે સાંકેતિક સ્તુપો (votive stupas) અને એક ખુલ્લું યોગાન હતું જેની આજુબાજુ શરૂઆતમાં નવ એકમોનું નિર્માણ કરાયું હતું.

3. મધ્યસ્થ યોગાનની આજુબાજુના એકમોની ગોઠવણ સ્વસ્તિક જેવી રચના બનાવે છે.

(A) ફક્ત 1 અને 2

(B) ફક્ત 2 અને 3

(C) ફક્ત 1 અને 3

(D) 1, 2 અને 3

064. Match the following List-I with List-II

Pen Name

1. Makrand

2. Sukani

3. Mumukshu

4. Vanmali

(A) 1 - b, 2 - c, 3 - d, 4 - a

(C) 1 - a, 2 - d, 3 - c, 4 - b

Author

a) Ramanbhai Mahipatram Nilkanth

b) Zaverchand Meghani

c) Anandshankar Dhruv

d) Keshavlal Dhruv

(B) 1 - a, 2 - b, 3 - c, 4 - d

(D) 1 - c, 2 - b, 3 - a, 4 - d

065. Match the following List-I with List-II

Stupa

1. Chaukhandi Stupa

2. Ramabhar Stupa

3. Kesariya Stupa

4. Animesh Lochan Stupa

(A) 1 - b, 2 - c, 3 - d, 4 - a

(C) 1 - c, 2 - b, 3 - a, 4 - d

Location

a) East Champaran

b) Kushinagar

c) Sarnath

d) Bodh Gaya

(B) 1 - a, 2 - b, 3 - d, 4 - c

(D) 1 - a, 2 - b, 3 - c, 4 - d

066. Which of the following statements are correct?

1. Padhar dance is performed by the fishermen community who lives nearby the Nal lake.

2. They are the followers of Hinduism and worship Goddess Durga in various forms.

3. The performer holds small sticks in their hands while dancing and enacts the rowing of boats while singing songs associated with water.

4. One interesting part of the costume is the presence of an umbrella with beautiful embroidered pattern and its fine lace and mirror work is simply stunning.

(A) 2, 3 and 4 only

(B) 1, 2 and 3 only

(C) 1, 3 and 4 only

(D) 1, 2, 3 and 4

067. Which of the following statements are correct regarding Vadnagar Buddhist Monastery?

1. This Buddhist Monastery belonging to the 2nd-7th century AD is within the fortified area of Vadnagar.

2. The monastery had two votive stupas and an open central courtyard around which initially nine cells were constructed.

3. The arrangement of cells around the central courtyard creates a swastika-like pattern.

(A) 1 and 2 only

(B) 2 and 3 only

(C) 1 and 3 only

(D) 1, 2 and 3

068. ગુજરાતમાં આવેલા મગદેરું મંદિર બાબતે નીચેના પૈકી કયા વિધાનો સાચાં છે ?
1. મગદેરું મંદિર દેવભૂમિ દ્વારકા જિલ્લાના ધ્રાસણવેલ ગામ નજીક આવેલું મૈત્રકકાળનું 8મી સદીનું મંદિર છે.
  2. મંદિર તેની અંદર જાળીકામ ધરાવતું એક શિખર સાથેનું ઈન્ડો-યુરોપીયન શૈલીના મંદિરો વખતનું છે.
  3. લંબચોરસ ઉત્તરમુખી મંદિર સપ્તયન પ્રકારનું છે જેમાં એક કેન્દ્રીય વિશાળ મંદિર છ નાના મંદિરોથી ઘેરાયેલું છે.
- (A) ફક્ત 1 અને 2 (B) ફક્ત 2 અને 3  
(C) ફક્ત 1 અને 3 (D) 1, 2 અને 3
069. શંખેશ્વર જૈન મંદિર બાબતે નીચેના પૈકી કયું / કયાં વિધાન / વિધાનો સાચું / સાચાં છે ?
- (A) સજ્જન શાહે બનાસ નદીના કાંઠે શંખેશ્વર પાર્શ્વનાથ જૈન મંદિર બંધાવ્યું.  
(B) વસ્તુપાલ તેજપાલે વર્ધમાનસૂરિના આદેશ હેઠળ આ જૈન મંદિરનો જીર્ણોદ્ધાર કરાવ્યો.  
(C) (A) અને (B) બંને  
(D) (A) અને (B) બંને પૈકી એકપણ નહીં
070. પાલ ચિત્ર શૈલી બાબતે નીચેના પૈકી કયા વિધાનો સાચાં છે ?
1. આ ચિત્ર શૈલીની વિષયવસ્તુ ઉપર હીનયાન બૌદ્ધ ધર્મની અસર જોવા મળે છે.
  2. આ ચિત્ર ભીંતચિત્રો અને તાડપર્ણ હસ્તપ્રતો ઉપર જોવા મળે છે.
  3. આ ચિત્રની શૈલી અજંતા અને બાઘ ભીંતચિત્રો શૈલીઓ સાથે સામ્યતા ધરાવે છે.
- (A) ફક્ત 1 અને 2 (B) ફક્ત 2 અને 3 (C) ફક્ત 1 અને 3 (D) 1, 2 અને 3
071. હરપ્પા સંસ્કૃતિમાં બનાવવામાં આવતાં કાંસ્ય મૂર્તિઓ જે પ્રક્રિયા દ્વારા બનાવવામાં આવતા હતાં તેને ..... કહે છે.
- (A) લોસ્ટ વેક્સ પ્રોસેસ (Lost Wax Process)  
(B) હોટ વેક્સ પ્રોસેસ (Hot Wax Process)  
(C) બ્રોન્ઝ વેક્સ પ્રોસેસ (Bronze Wax Process)  
(D) બ્લેક એન્ડ રેડ વેક્સ પ્રોસેસ (Black અને Red Wax Process)
072. ચાડીયાનો મેળો મુખ્યત્વે ..... દ્વારા ઉજવાતો તહેવાર છે.
- (A) પંચમહાલ જિલ્લાના આદિવાસીઓ (B) ડાંગ જિલ્લાના આદિવાસીઓ  
(C) સુરત જિલ્લાના આદિવાસીઓ (D) બનાસકાંઠા જિલ્લાના આદિવાસીઓ
073. ભારત સરકાર દ્વારા ભારતરત્ન પુરસ્કાર બાબતે નીચેના પૈકી કયા વિધાનો સાચાં છે ?
1. ભારતરત્ન પુરસ્કાર મેળવનારાઓને પીપળાના પર્ણ આકારનો ચંદ્રક અને પ્રમાણપત્ર આપવામાં આવે છે.
  2. દર વર્ષે રાષ્ટ્રપતિ ત્રણથી વધુ નહીં એટલા લોકોને ભારતરત્ન પુરસ્કાર મેળવનારાઓ તરીકે પસંદ કરે છે.
  3. ભારતરત્ન પુરસ્કાર મેળવનારાઓ દરેકને રૂપિયા 10 લાખ આપવામાં આવે છે.
- (A) 1, 2 અને 3 (B) ફક્ત 1 અને 3  
(C) ફક્ત 1 અને 2 (D) ફક્ત 2 અને 3



068. Which of the following statements are correct regarding Magderu temple in Gujarat?
1. Magderu is an 8<sup>th</sup>-century temple of Maitraka period located near Dhrasanvel village of Devbhoomi Dwaraka District
  2. The temple belongs to early Indo European style temples with single spire with lattice work (*sajala*) in it.
  3. The rectangular, north-facing temple is *saptayatana* (seven shrine) type with one central large shrine surrounded by six smaller shrines.
- (A) 1 and 2 only (B) 2 and 3 only  
(C) 1 and 3 only (D) 1, 2 and 3
069. Which of the following statement(s) is/are correct regarding Shankeshwar Jain temple?
- (A) Sajjan Shah built the Shankeshwar Parshwanath Jain Temple on the banks of the Banas river  
(B) Vastupal Tejpal renovated this temple under the instructions of Vardhamansuri.  
(C) Both (A) and (B)  
(D) Neither (A) nor (B)
070. Which of the following statements are correct regarding Pala Painting Style?
1. The content of this style of painting was influenced by Hinayana Buddhism
  2. This painting is found on murals and palm leaf manuscripts
  3. This style of painting has resemblance with Ajanta and Bagh Mural painting styles
- (A) 1 and 2 only (B) 2 and 3 only  
(C) 1 and 3 only (D) 1, 2 and 3
071. The Bronze figurines that were produced in the Harappan Civilisation were made through a process known as \_\_\_\_\_.  
(A) Lost Wax Process (B) Hot Wax Process  
(C) Bronze Wax Process (D) Black and Red Wax Process
072. 'Chadia' fair is a festival celebrated mainly by \_\_\_\_\_.  
(A) Adivasis of Panchmahal District (B) Adivasis of Dang District  
(C) Adivasis of Surat District (D) Adivasis of Banskantha District
073. Which of the following statements are correct regarding Bharat Ratna Award by Government of India?
1. Bharat Ratna awardees are given a peepal leaf shaped medal and a certificate
  2. President chooses not more than three people as the Bharat Ratna awardees every year.
  3. Rs. 10 lakhs each is given to Bharat Ratna Awardees.
- (A) 1, 2 and 3 (B) 1 and 3 only  
(C) 1 and 2 only (D) 2 and 3 only

074. આદિવાસી તહેવારો બાબતે નીચેના પૈકી કયા વિધાનો સાચાં છે ?

1. અખાત્રીજનો મેળો – સ્ત્રીઓ તેમના માથા ઉપર ઘાસની ટોપલીઓ સાથે નૃત્ય કરે છે અને પુરૂષો તેમને ઢોલ સાથે સાથ આપે છે.
2. નાગધરાનો મેળો – ગુજરાતના ભીલ ગરાસીયાઓ અને રાજસ્થાન અને મધ્યપ્રદેશથી અન્ય આદિવાસીઓની મેદની.
3. ભંગુરીયો – હોળી પછીના બીજા દિવસે રાઠવા આદિજાતિ દ્વારા ઉજવવામાં આવે છે.

(A) 1, 2 અને 3

(B) ફક્ત 2 અને 3

(C) ફક્ત 1 અને 2

(D) ફક્ત 1 અને 3

075. નીચેના પૈકી કયું એક પરંપરાગત સંગીતમય નાટક તેમજ મધ્યયુગીન ગુજરાતી કાવ્ય શૈલી છે ?

(A) નાદરંગ (Nadrang)

(B) આખ્યાન (Akhyani)

(C) હૂડો (Hudo)

(D) રામલીલા (Ramlila)

076. ગુજરાતના નીચેના પૈકી કયા સ્થળે પાર્વતી અને નૃત્ય કરતા ગણેશનું શિલ્પ આવેલું છે ?

(A) શામળાજી

(B) કોટયાર્ક

(C) કઠલાલ

(D) ટીંટોઈ

077. ચિત્રકળા બાબતે નીચેના પૈકી કયા વિધાનો સાચાં છે ?

1. લીલાછમ વનસ્પતિ અને નાટકીય રાત્રિ આકાશ પ્રત્યેનો લગાવ બુંદી ચિત્રકામ શૈલીની લાક્ષણિકતા છે.
2. ‘મૃત્યુ પછી માનવજીવનનું શું થાય છે’ – એ પૈતૃક ચિત્રકલાના ઉપયોગમાં લેવાતી વિષયવસ્તુ છે.
3. જૈન લઘુચિત્રકલામાં ફક્ત સફેદ અને કાળા રંગોનો ઉપયોગ થાય છે.
4. મંજૂષા ચિત્રકલાને સર્પ ચિત્રકલા (snake painting) પણ કહે છે.

(A) 1, 2, 3 અને 4

(B) ફક્ત 2, 3 અને 4

(C) ફક્ત 2 અને 3

(D) ફક્ત 1, 2 અને 4

078. જોડકાં જોડો.

યાદી-I

યાદી-II

a) ગદાધર મંદિર, શામળાજી

1. સલ્તનત કાળ

b) રણછોડજી મંદિર, ડાકોર

2. અંગ્રેજ કાળ

c) શત્રુંજય જૈન મંદિર, પાલીતાણા

3. મરાઠા કાળ

d) હાટકેશ્વર મંદિર, વડનગર

4. મુઘલ કાળ

(A) a - 1, b - 2, c - 3, d - 4

(B) a - 4, b - 3, c - 2, d - 1

(C) a - 3, b - 4, c - 1, d - 2

(D) a - 4, b - 2, c - 3, d - 1

074. Which of the following statements are correct regarding Tribal Festivals?

1. Akhatrij no Melo - The women dance with grass baskets on their heads as the men accompany them with drums
2. Nagdhara no Melo - A congregation of Bhil Garasias of Gujarat and other tribes from Rajasthan and Madhya Pradesh
3. Bhanguriyu - Celebrated by the Rathwa tribe on the second day after Holi.

(A) 1, 2 and 3

(B) 2 and 3 only

(C) 1 and 2 only

(D) 1 and 3 only

075. Which one of the following is the traditional musical theatre as well as medieval genre of Gujarati poetry?

(A) Nadrang

(B) Akhyan

(C) Hudo

(D) Ramlila

076. In which of the following places of Gujarat, have the sculpture of Parvati and dancing Ganesha?

(A) Shamalaji

(B) Kotyark

(C) Kathalal

(D) Tintoi

077. Which of the following statements are correct regarding Paintings?

1. Bundi School of paintings is characterized by a fondness for lush vegetation and dramatic night skies
2. "What happens to human life after death" is a theme used in Paitkar paintings.
3. Jain miniature paintings employed only White and Black colors.
4. Manjusha Paintings also known as Snake paintings

(A) 1, 2, 3 and 4

(B) 2, 3 and 4 only

(C) 2 and 3 only

(D) 1, 2 and 4 only

078. Match the following:

List-I

List-II

a) Gadadhar Temple Shamalaji

1. Sultanate period

b) Ranchhodji Temple Dakor

2. British period

c) Shatrunjay jain Temple Palitana

3. Maratha period

d) Hatkeshwar Temple Vadnagar

4. Mughal period

(A) a - 1, b - 2, c - 3, d - 4

(B) a - 4, b - 3, c - 2, d - 1

(C) a - 3, b - 4, c - 1, d - 2

(D) a - 4, b - 2, c - 3, d - 1

079. નીચેના પૈકી કયા વિધાનો સાચાં છે ?

1. આનર્ત પરંપરાને સામ્ય એવા માટીના પાત્રો સૌ પ્રથમ સાથે સૂરકોટડાથી મળી આવ્યાં છે.
2. આનર્ત પરંપરા અથવા આનર્ત પાત્રો તામ્રપાષાણયુગની સંસ્કૃતિનો ભાગ છે.
3. ગુજરાતના બનાસકાંઠા અને સાબરકાંઠા જિલ્લાઓમાં આનર્ત પાત્રો મળી આવે છે.

(A) 1, 2 અને 3

(B) ફક્ત 2 અને 3

(C) ફક્ત 1 અને 3

(D) ફક્ત 1 અને 2

080. નીચેના પૈકી કઈ જોડી / જોડીઓ ખોટી રીતે જોડાયેલી છે ?

1. ભંગુરીયુ – રાઠવા
2. નાગધરાનો મેળો – ભીલ ગરાસિયાઓ
3. ગોળઘોડીનો મેળો – કુંકણા

(A) ફક્ત 3

(B) ફક્ત 1

(C) ફક્ત 1 અને 2

(D) 1, 2 અને 3

081. ગુજરાતના ટાંગલીયા કામ બાબતે નીચેના પૈકી કયા વિધાનો સાચાં છે ?

1. ટાંગલીયા વણાટને દાણાવણાટ પણ કહેવામાં આવે છે.
2. કચ્છ જિલ્લામાં તેનું કામ પ્રખ્યાત રીતે થાય છે.
3. તેનું કામ મુખ્યત્વે ડાંગસીયા સમુદાય દ્વારા કરવામાં આવે છે.

(A) ફક્ત 1 અને 3

(B) ફક્ત 2 અને 3

(C) ફક્ત 1 અને 2

(D) 1, 2 અને 3

082. નીચેના પૈકી કયા વિધાનો સાચાં છે ?

1. ગુપ્ત સમ્રાટોના શિલાલેખો, તામ્રપત્રલેખો તથા સિક્કાલેખો શુદ્ધ સંસ્કૃતમાં લખાયાં છે.
2. મહાકાવ્યોમાં ભાસનાં ‘કુમારસંભવ’ અને ‘રઘુવંશ’ પ્રખ્યાત હતાં.
3. વરાહમિહિરે ‘પંચસિધ્ધાન્તિકા’માં પાંચ જ્યોતિષ-સિધ્ધાંતો (પરંપરાઓ)નો પરિચય આપ્યો.

(A) ફક્ત 1 અને 2

(B) ફક્ત 1 અને 3

(C) ફક્ત 2 અને 3

(D) 1, 2 અને 3

083. નીચેના પૈકી કયા વિધાનો સાચાં છે ?

1. દ્રાવિડ શૈલીના મંદિરોમાં ચોરસ ગર્ભને ફરતો ઢાંકેલો પ્રદક્ષિણાપથ રાખીને તેને ફરતો મોટો ચોરસ રાખવામાં આવે છે અને એની દીવાલની બહારની બાજુમાં અર્ધસ્તંભો વડે ગોખલા કાઢવામાં આવે છે.
2. દ્રાવિડ શૈલીના શિખર ઉપર જતા સાંકડા થતા જતાં અલગ અલગ મજલાઓનું બનેલું હોય છે.
3. નાગર શૈલીના શિખરનો ઝોખ આડો હોય છે, જ્યારે દ્રાવિડ શૈલીના શિખરનો ઝોખ ઊભો હોય છે.

(A) ફક્ત 1 અને 2

(B) ફક્ત 1 અને 3

(C) ફક્ત 2 અને 3

(D) 1, 2 અને 3

079. Which of the following statements are correct?

1. The ceramics similar to the Anarta tradition was first reported from Surkotada
2. The Anarta tradition or Anarta ware is a chalcolithic culture
3. The Anarta ware found from Banaskantha and Sabarkantha districts of Gujarat

(A) 1, 2 and 3

(B) 2 and 3 only

(C) 1 and 3 only

(D) 1 and 2 only

080. Which of the following pair(s) is/are incorrectly matched?

1. Bhanguriyu – Rathwa
2. Nagdharo no melo – Bhil Garasias
3. Golghodi no melo – Kukna

(A) 3 only

(B) 1 only

(C) 1 and 2 only

(D) 1, 2 and 3

081. Which of the following statements are correct regarding Tangaliya Work of Gujarat?

1. Tangaliya weaving, also known as Daana weaving
2. This is famously practised in the Kutchh District
3. This is mainly practised by the Dangasia community

(A) 1 and 3 only

(B) 2 and 3 only

(C) 1 and 2 only

(D) 1, 2 and 3

082. Which of the following statements are correct?

1. The stone inscriptions, copper plates and coin writings of Gupta kings were written in pure Sanskrit
2. “Kumarsambhav” and “Raguvansh” of Bhasha were famous in epics
3. Varamihir gave introduction of five astrology principles (traditions) in Panchasiddhantika

(A) 1 and 2 only

(B) 1 and 3 only

(C) 2 and 3 only

(D) 1, 2 and 3

083. Which of the following statements are correct?

1. In Dravidian style temples, a covered ambulatory is kept encircling the square sanctum with a large square encircling it and niches are projected by the pilasters on the outer side of the wall
2. The spires of the Dravidian style are made up of different stories getting narrower while going upwards
3. The thrust of Nagara Style spire is horizontal whereas the thrust of Dravidian style spire is vertical

(A) 1 and 2 only

(B) 1 and 3 only

(C) 2 and 3 only

(D) 1, 2 and 3

084. જોડકાં જોડો.

કર્તા

1. કાલિદાસ
2. વિશાખાદત્ત
3. ભટ્ટી
4. ચંદ્રગોમિન

(A) 1 - a, 2 - b, 3 - c, 4 - d

(C) 1 - d, 2 - c, 3 - b, 4 - a

કૃતિ

- a. દેવીચંદ્રગુપ્તમ્
- b. વિક્રમોર્વશીયમ્
- c. ચાંદ્ર વ્યાકરણ
- d. રાવણવધ

(B) 1 - b, 2 - a, 3 - d, 4 - c

(D) 1 - a, 2 - b, 3 - d, 4 - c

085. ગુપ્તકાલીન ગુફા-મંદિરોનું વર્ગીકરણ નીચેના પૈકી કેટલા વિભાગમાં કરી શકાય ?

(A) બ્રાહ્મણ ગુફા-મંદિર

(B) બૌદ્ધ ગુફા-મંદિર

(C) (A) અને (B) બંને

(D) (A) અને (B) બંને પૈકી એકપણ નહીં

086. અજંતાની ગુફાઓ બાબતે નીચેના પૈકી કયા વિધાનો સાચાં છે ?

1. પહાડ કોતરીને 26 ગુફાઓ બનાવવામાં આવી છે.

2. આ ગુફામાં ચિત્રો જુદા જુદા સમયે બનાવેલાં છે.

3. ગૌતમ બુદ્ધના જન્મના ચિત્રો, મહાભિનિષ્ક્રમણ અને મહાપરિનિર્વાણના દેશ્યો બતાવવામાં આવ્યાં છે.

(A) ફક્ત 1 અને 2

(B) ફક્ત 1 અને 3

(C) ફક્ત 2 અને 3

(D) 1, 2 અને 3

087. જોડકાં જોડો.

કર્તા

1. દિનકર જોષી
2. સરોજ પાઠક
3. હસુ યાજ્ઞિક
4. લાભશંકર ઠાકર

(A) 1 - a, 2 - b, 3 - c, 4 - d

(C) 1 - d, 2 - c, 3 - a, 4 - b

કૃતિ

- a. અકસ્માત
- b. દીવાલ પાછળની દુનિયા
- c. ટાઈમ બોમ્બ
- d. ગઈકાલ વિનાની આવતી કાલ

(B) 1 - b, 2 - a, 3 - c, 4 - d

(D) 1 - d, 2 - c, 3 - b, 4 - a

088. નીચેના પૈકી કયા વિધાનો સાચાં છે ?

1. નિર્ગુણ માર્ગી સંતોમાં તુલસીદાસ અને મીરાંબાઈનો સમાવેશ થાય છે.

2. સગુણ ભક્તિધારામાં રામભક્તિ અને કૃષ્ણભક્તિ એમ બે શાખાઓ પ્રચલિત થઈ.

3. સૂરદાસની વાણીમાં પુષ્ટીમાર્ગી વિચારધારા વ્યક્ત થઈ છે.

(A) ફક્ત 1 અને 2

(B) ફક્ત 1 અને 3

(C) ફક્ત 2 અને 3

(D) 1, 2 અને 3

084. Match the column:

Author

1. Kalidas

2. Vishakadutt

3. Bhatti

4. Chandra Gomin

(A) 1 - a, 2 - b, 3 - c, 4 - d

(C) 1 - d, 2 - c, 3 - b, 4 - a

Work

a. Devichandraguptam

b. Vikramorvashiyam

c. Chandra Vyakarana

d. Ravan Vaddha

(B) 1 - b, 2 - a, 3 - d, 4 - c

(D) 1 - a, 2 - b, 3 - d, 4 - c

085. In how many of the following divisions can the cave temples of the Gupta period be classified?

(A) Brahmin cave temple

(B) Buddhist cave temple

(C) Both (A) and (B)

(D) Neither (A) nor (B)

086. Which of the following statements regarding Ajanta caves are correct?

1. 26 caves have been made by carving out the mountain

2. The paintings in these caves have been made at different periods

3. The pictures of the birth of Gautam Buddha, Mahabhinishkraman and Mahaparinivarana have been depicted in the paintings

(A) 1 and 2 only

(B) 1 and 3 only

(C) 2 and 3 only

(D) 1, 2 and 3

087. Match the column:

Author

1. Dinker Joshi

2. Saroj Pathak

3. Hasu Yagnik

4. Labhshankar Thaker

(A) 1 - a, 2 - b, 3 - c, 4 - d

(C) 1 - d, 2 - c, 3 - a, 4 - b

Work

a. Akasmat

b. Diwal pachal ni duniya

c. Time bomb

d. Gai kaal vina ni Aavatikal

(B) 1 - b, 2 - a, 3 - c, 4 - d

(D) 1 - d, 2 - c, 3 - b, 4 - a

088. Which of the following statements are correct?

1. Tulsidas and Mirabai are included in the Nirguna sect of saints

2. Two branches, Ram Bhakti and Krishna Bhakti, became popular in Saguna Bhaktidhara

3. Pustimargiya thought is depicted in the speech/words of Surdas

(A) 1 and 2 only

(B) 1 and 3 only

(C) 2 and 3 only

(D) 1, 2 and 3

089. ગુજરાતના લોકસમુદાયના વિશિષ્ટ ઉત્સવો બાબતે નીચેના પૈકી કયા વિધાનો સાચાં છે ?

1. સૌરાષ્ટ્રના કારડિયા રાજપૂતો હોળીના દિવસે 'આંબલી કાઢવી'ની રમતો રમે છે.
2. દિવાસો તહેવાર શ્રાવણ સુદ સાતમના રોજ દક્ષિણ ગુજરાતમાં વિશિષ્ટ રીતે ઉજવાય છે.
3. સામા પાંચમના દિવસે ખેડ્યા વિના ઉગાડેલું અનાજ ખાવાનો મહિમા છે.

(A) ફક્ત 1 અને 2

(B) ફક્ત 1 અને 3

(C) ફક્ત 2 અને 3

(D) 1, 2 અને 3

090. જોડકાં જોડો.

ધોધ

જિલ્લો

1. ઝાંઝરી ધોધ

a. નર્મદા

2. ઝરવાણી ધોધ

b. અરવલ્લી

3. ગિરમાળ ધોધ

c. તાપી

4. ચિમેર ધોધ

d. ડાંગ

(A) 1 - a, 2 - b, 3 - c, 4 - d

(B) 1 - a, 2 - b, 3 - d, 4 - c

(C) 1 - b, 2 - a, 3 - d, 4 - c

(D) 1 - d, 2 - c, 3 - b, 4 - a

091. જોડકાં જોડો.

સંગ્રહાલય

સ્થળ

1. સરદાર વલ્લભભાઈ પટેલ રાષ્ટ્રીય સંગ્રહાલય

a. માંડવી

2. ભારતીય સંસ્કૃતિદર્શન સંગ્રહાલય

b. રાજકોટ

3. રોટરી ડોલ સંગ્રહાલય

c. ભૂજ

4. શ્યામજી કૃષ્ણ વર્મા મેમોરીયલ

d. અમદાવાદ

(A) 1 - a, 2 - b, 3 - c, 4 - d

(B) 1 - a, 2 - b, 3 - d, 4 - c

(C) 1 - d, 2 - c, 3 - a, 4 - b

(D) 1 - d, 2 - c, 3 - b, 4 - a

092. ભારતીય સંસદમાં ભાષા બાબતે નીચેના પૈકી કયા વિધાનો સાચાં છે ?

1. બંધારણે સંસદમાં હિન્દી અને અંગ્રેજી ભાષાઓ કામકાજ માટે જાહેર કરી છે.
2. જો ગૃહમાં કોઈ સભ્યએ તેઓની માતૃભાષામાં સંબોધન કરવું હોય તો તેઓએ પ્રિસાઈડીંગ ઓફીસર મારફતે રાષ્ટ્રપતિ પાસેથી ખાસ પરવાનગી લેવી પડે છે.
3. રાજભાષા અધિનિયમ, 1963 એ અંગ્રેજીને હિન્દી સાથે ચાલુ રાખવાની પરવાનગી આપી છે.

(A) 1, 2 અને 3

(B) ફક્ત 2 અને 3

(C) ફક્ત 1 અને 2

(D) ફક્ત 1 અને 3



089. Which of the following statements are correct regarding the exclusive festivals of the community of Gujarat?

1. The Karadiya Rajputs of Saurashtra play the games of *Aambali Kaadhvi* on the day of Holi
2. The Diwaso festival is specially celebrated on Shravan Sood Saatam in South Gujarat
3. It is a grandeur to eat grain grown without plowing on the day of Samapancham

(A) 1 and 2 only

(B) 1 and 3 only

(C) 2 and 3 only

(D) 1, 2 and 3

090. Match the column:

Waterfall

District

1. Zanzhari Waterfall

a. Narmada

2. Zharwani Waterfall

b. Aravalli

3. Girmall Waterfall

c. Tapi

4. Chimer Waterfall

d. Dangs

(A) 1 - a, 2 - b, 3 - c, 4 - d

(B) 1 - a, 2 - b, 3 - d, 4 - c

(C) 1 - b, 2 - a, 3 - d, 4 - c

(D) 1 - d, 2 - c, 3 - b, 4 - a

091. Match the column:

Museum

Place

1. Sardar Vallabhbhai Patel Museum

a. Madvi

2. Bharatiya Sanskruti Darshan Museum

b. Rajkot

3. Rotary Dolls Museum

c. Bhuj

4. Shaymji Krishnaverma Memorial

d. Ahmedabad

(A) 1 - a, 2 - b, 3 - c, 4 - d

(B) 1 - a, 2 - b, 3 - d, 4 - c

(C) 1 - d, 2 - c, 3 - a, 4 - b

(D) 1 - d, 2 - c, 3 - b, 4 - a

092. Which of the following statements are correct regarding Language in Indian Parliament?

1. The constitution has declared Hindi and English to be the languages for transacting business in Parliament
2. If any member wants to address the House in his/her mother tongue, they need to take special permission from the President through presiding officer
3. The Official Languages Act of 1963 allowed English to be continued along with Hindi

(A) 1, 2 and 3

(B) 2 and 3 only

(C) 1 and 2 only

(D) 1 and 3 only

093. સંસદમાં સત્ર સમાપ્તિ બાબતે નીચેના પૈકી કયાં વિધાનો સાચાં છે ?

1. સત્ર સમાપ્તિ ફક્ત બેઠકનો અંત નથી લાવતું પરંતુ ગૃહના સત્રનો પણ અંત લાવે છે.
2. સત્ર સમાપ્તિ ગૃહ સમક્ષ બાકી ખરડાઓ અથવા અન્ય કોઈ કામકાજ ઉપર અસર કરતું નથી.
3. સત્ર સમાપ્તિ તમામ બાકી નોટીસ (ખરડાઓ રજૂ કરવા માટેની સિવાય) રદ થવા તરફ દોરી જાય છે.

(A) 1, 2 અને 3 (B) ફક્ત 2 અને 3 (C) ફક્ત 1 અને 2 (D) ફક્ત 1 અને 3

094. ભારતીય સંસદ બાબતે નીચેના પૈકી કયા વિધાનો સાચાં છે ?

1. કાયદો બનાવતી સર્વોચ્ચ સંસ્થા તરીકે કાર્યરત હોવા ઉપરાંત ભારતીય સંસદે રાષ્ટ્રની એક “ભવ્ય પૂછ-પરછ” (grand inquest) અને ‘ચોકીદાર’ (watchdog) તરીકે પણ કાર્ય કર્યું છે.
2. ભારતની સંસદ ત્રણ ઘટકો ધરાવે છે, ભારતના રાષ્ટ્રપતિ, રાજ્યસભા અને લોકસભા.
3. સંસદના બે ગૃહો 1950માં અસ્તિત્વમાં આવ્યાં.

(A) 1, 2 અને 3 (B) ફક્ત 1 અને 2 (C) ફક્ત 2 અને 3 (D) ફક્ત 1 અને 3

095. ભારતના કંમ્ટ્રોલર અને ઓડીટર જનરલ (CAG) બાબતે નીચેના પૈકી કયા વિધાનો સાચાં છે ?

1. કંમ્ટ્રોલર અને ઓડીટર જનરલની કચેરીનું વહીવટી ખર્ચ જેમાં તમામ પગાર, ભથ્થાઓનો સમાવેશ થાય છે, તે એકત્રિત ફંડ ખાતે ઉધારવામાં આવશે.
2. કંમ્ટ્રોલર અને ઓડીટર જનરલ ભારત સરકાર હેઠળના અથવા કોઈ રાજ્ય સરકાર હેઠળના બીજા કોઈ હોદ્દા માટે પાત્ર ગણાશે નહીં.
3. રાજ્યના હિસાબો સંબંધી ભારતના કંમ્ટ્રોલર અને ઓડીટર જનરલના રીપોર્ટો રાષ્ટ્રપતિની મંજૂરી બાદ જ રાજ્યના રાજ્યપાલને સુપ્રત કરવાના રહેશે.
4. તમામ કેન્દ્રશાસિત પ્રદેશોના કંમ્ટ્રોલર અને ઓડીટર જનરલના ઓડીટ રીપોર્ટો ભારતના રાષ્ટ્રપતિને સુપ્રત કરવાના રહેશે.

(A) 1, 2, 3 અને 4 (B) ફક્ત 1, 2 અને 3 (C) ફક્ત 1 અને 2 (D) ફક્ત 3 અને 4

096. ભારતની સર્વોચ્ચ અદાલત બાબતે નીચેના પૈકી કયાં વિધાનો સાચાં છે ?

1. 1950ના મૂળ બંધારણ એક સર્વોચ્ચ અદાલતની કલ્પના કરે છે કે જેમાં એક મુખ્ય ન્યાયાધીશ અને 7 ઉત્તરતા દરજ્જાના ન્યાયાધીશો (puisne judges) હોય છે અને આ સંખ્યામાં વધારો કરવાનું સંસદ ઉપર હોડે છે.
2. ફક્ત રેકર્ડ ઉપરના વકીલો (Advocates on record) જ સર્વોચ્ચ અદાલત સમક્ષ કોઈ બાબત અથવા દસ્તાવેજ ફાઈલ કરવા માટે હકદાર છે.
3. સર્વોચ્ચ અદાલતમાં રેકર્ડ ઉપરના વકીલ (Advocate on record) સિવાય વરિષ્ઠ વકીલો (senior advocates) (સર્વોચ્ચ અદાલત દ્વારા નિયુક્ત થયા પ્રમાણે) ઉપસ્થિત રહેવા માટે હકદાર છે.
4. સર્વોચ્ચ અદાલતમાં અન્ય વકીલો (રાજ્યના બાર (bar)ની બાર કાઉન્સિલ (bar council)માં નામ દાખલ થયેલું હોય) ઉપસ્થિત રહી શકે છે અને દલીલ કરી શકે છે પરંતુ તેઓ કોઈ દસ્તાવેજ ફાઈલ કરી શકતા નથી.

(A) 1, 2, 3 અને 4 (B) ફક્ત 1, 2 અને 3  
(C) ફક્ત 2, 3 અને 4 (D) ફક્ત 1, 2 અને 4

093. Which of the following statements are correct regarding Prorogation in Parliament?

1. The Prorogation not only terminates a sitting but also a session of the House
2. The prorogation does not affect the Bills or any other business pending before the House
3. The prorogation leads to lapse of all pending notices (other than those for introducing Bills).

(A) 1, 2 and 3

(B) 2 and 3 only

(C) 1 and 2 only

(D) 1 and 3 only

094. Which of the following statements are correct regarding Indian Parliament?

1. Besides functioning as the highest law making body, Indian Parliament has also functioned as the 'grand inquest' and 'watchdog' of the nation.
2. The Parliament of India has three constituents, namely, the President of India, the Rajya Sabha (Council of States) and the Lok Sabha (House of the People).
3. The two Houses of Parliament came into being in 1950

(A) 1, 2 and 3

(B) 1 and 2 only

(C) 2 and 3 only

(D) 1 and 3 only

095. Which of the following statements are correct regarding Comptroller and Auditor-General (CAG) of India?

1. The administrative expenses of the office of the Comptroller and Auditor-General including all salaries, allowances shall be charged upon the Consolidated Fund.
2. The Comptroller and Auditor-General shall not be eligible for further office either under the Government of India or under the Government of any State
3. The reports of the CAG of India relating to the accounts of a State shall be submitted to the Governor of the State only after the permission of the President
4. The Audit reports by CAG of all Union Territories will be submitted to the President of India

(A) 1, 2, 3 and 4

(B) 1, 2 and 3 only

(C) 1 and 2 only

(D) 3 and 4 only

096. Which of the following statements are correct regarding Supreme Court of India?

1. The original Constitution of 1950 envisaged a Supreme Court with a Chief Justice and 7 puisne Judges - leaving it to Parliament to increase this number.
2. Only Advocates on records are entitled to file any matter or document before the Supreme Court.
3. The senior advocates (as designated by the Supreme Court) are entitled to appear without an Advocate on record in the Supreme Court.
4. Other Advocates (names entered in the bar of state bar council) can appear and argue in Supreme Court but they cannot file any documents.

(A) 1, 2, 3 and 4

(B) 1, 2 and 3 only

(C) 2, 3 and 4 only

(D) 1, 2 and 4 only

097. આંતરરાષ્ટ્રીય શાંતિ અને સલામતીની અભિવૃદ્ધિ કરવા માટે નીચેના પૈકી કયા વિધાનોનો ભારતીય બંધારણમાં રાજ્યનીતિના માર્ગદર્શક સિધ્ધાંતોના ભાગ તરીકે ઉલ્લેખ કરવામાં આવ્યો છે ?
1. આંતરરાષ્ટ્રીય શાંતિ અને સલામતીની અભિવૃદ્ધિ કરવી.
  2. રાષ્ટ્રો વચ્ચે ન્યાયી તથા માનભર્યા સંબંધો નિભાવવા.
  3. સંગઠિત પ્રજાઓના એકબીજા સાથેના વ્યવહારમાં આંતરરાષ્ટ્રીય કાયદા અને સંધિઓને લગતી ફરજો પ્રત્યેનો આદર વધારવો.
  4. લવાદી દ્વારા આંતરરાષ્ટ્રીય તકરારોની પતાવટ કરવાને ઉત્તેજન આપવું.
- (A) 1, 2, 3 અને 4 (B) 2, 3 અને 4 (C) 1, 2 અને 3 (D) 1, 3 અને 4
098. ભારતીય સંસદને ..... ને લાગુ પડતી બાબત ભારતના બંધારણના ભાગ-III દ્વારા આપવામાં આવેલા હક્કોમાં સુધારો કરવાની સત્તા છે.
1. સશસ્ત્ર દળોના સભ્યો
  2. જાહેર વ્યવસ્થા જાળવાવાની કામગીરી સંભાળનાર દળોના સભ્યો
  3. ખાતમીના હેતુઓ માટે રાજ્યએ સ્થાપેલાં કોઈ બ્યુરો અથવા અન્ય સંગઠનમાં કામે રાખેલી વ્યક્તિઓ
  4. પરંતુ જ્યારે કોઈ વિસ્તારમાં લશ્કરી કાયદો અમલમાં હોય તે દરમિયાન, ભાગ-III દ્વારા આપવામાં આવેલાં હક્કો ઉપર કોઈ પ્રતિબંધ નથી.
- (A) ફક્ત 2, 3 અને 4 (B) ફક્ત 1, 2 અને 3 (C) ફક્ત 1, 3 અને 4 (D) 1, 2, 3 અને 4
099. ભારતના રાષ્ટ્રપતિ બાબતે નીચેના પૈકી કયું / કયાં વિધાન / વિધાનો સાચું / સાચાં છે ?
- (A) ભારત સરકાર અને રાજ્ય સરકારો હેઠળ કોઈ લાભદાયક હોદ્દો ધરાવતી વ્યક્તિ રાષ્ટ્રપતિ તરીકે ચૂંટાવા પાત્ર ગણાશે નહીં પરંતુ તે સ્થાનિક સરકારો હેઠળ હોદ્દો ધરાવી શકશે.
- (B) મહાભિયોગ પ્રસ્તાવ રજૂ કરવા માટે ગૃહના સભ્યોની કુલ સંખ્યાના ઓછામાં ઓછા એક ચતુર્થાંશ સભ્યોએ પોતાનો ઈરાદો રજૂ કરવો પડશે.
- (C) (A) અને (B) બંને
- (D) (A) અને (B) બંને પૈકી એકપણ નહીં
100. નીચેના પૈકી કઈ જોડીઓ સાચી રીતે જોડાયેલી છે ?
1. લેખાનુદાન (Vote on Account) – અનુદાનની માંગણીઓ માટે મતદાન થાય અને વિનિયોગ વિધેયક અને નાણા વિધેયક મંજૂર થાય ત્યાં સુધી સરકારને ચલાવવા માટે અગાઉથી આપવામાં આવતું અનુદાન.
  2. અપવાદરૂપ અનુદાન (Exceptional Grant) – કોઈ નાણાકીય વર્ષ દરમિયાન કોઈ સેવા ખાતે થયેલું ખર્ચ તે સેવા ખાતે તે વર્ષ માટે મંજૂર કરેલી રકમ કરતાં વધુ થયું હોય ત્યારે આપવામાં આવતું અનુદાન.
  3. વિશ્વાસ પર મંજૂર કરવા માટેનું અનુદાન (Vote of Credit) – ભારતની સાધનસામગ્રી ઉપર અણધારી માંગ ઊભી થાય તેને પહોંચીવળવા માટે આપવામાં આવતું અનુદાન.
  4. અધિક અનુદાન (Excess Grant) – કોઈ નાણાકીય વર્ષની ચાલુ સેવામાં ભાગરૂપ ન હોય અને ખાસ હેતુ માટે આપવામાં આવતું અનુદાન.
- (A) 1, 2, 3 અને 4 (B) ફક્ત 1 અને 3 (C) ફક્ત 1 અને 2 (D) ફક્ત 1, 2 અને 3

097. Which of the following statements are mentioned in Indian Constitution under promotion of International Peace and Security as part of Directive Principles of State policy?
1. Promote international peace and security
  2. Maintain just and honorable relations between nations
  3. Foster respect for international law and treaty obligations in the dealings of organised people with one another
  4. Encourage settlement of international disputes by arbitration.
- (A) 1, 2, 3 and 4 (B) 2, 3 and 4 only  
(C) 1, 2 and 3 only (D) 1, 3 and 4 only
098. The Indian Parliament has the power to modify the rights conferred by Part III of the Constitution of India in their application to \_\_\_\_\_.
1. The members of the Armed Forces
  2. The members of the Forces charged with the maintenance of public order
  3. Persons employed in any bureau or other organisation established by the State for purposes of intelligence
  4. But there is no restriction on rights conferred by Part III, while martial law is in force in any area
- (A) 2, 3 and 4 only (B) 1, 2 and 3 only  
(C) 1, 3 and 4 only (D) 1, 2, 3 and 4
099. Which of the following statement(s) is/are correct regarding the President of India?
- (A) A person shall not be eligible for election as President if he holds any office of profit under the Union and state governments but he can have under Local governments.
- (B) Not less than one-fourth of the total number of members of the House has been given of their intention to move an impeachment motion.
- (C) Both (A) and (B)
- (D) Neither (A) nor (B)
100. Which of the following pairs are correctly matched?
1. Vote on Account: A grant in advance to enable the government to carry on until the voting of demands for grants and the passing of the Appropriation and Finance Bill
  2. Exceptional Grant: Granted when money has been spent on any service during a financial year in excess of the amount granted for that service in the budget for that year
  3. Vote of Credit: It is granted for meeting an unexpected demand upon the resources of India
  4. Excess Grant: It is granted for a special purpose and forms no part of the current service of any financial year.
- (A) 1, 2, 3 and 4 (B) 1 and 3 only  
(C) 1 and 2 only (D) 1, 2 and 3 only

101. રાજ્યના એડવોકેટ જનરલ બાબતે નીચેના પૈકી કયું / કયાં વિધાન / વિધાનો સાચું / સાચાં છે ?

1. દરેક રાજ્યના રાજ્યપાલ, ઉચ્ચ ન્યાયાલયના ન્યાયાધીશ નીમાવાને લાયક હોય તેવી વ્યક્તિને રાજ્ય માટે એડવોકેટ-જનરલ તરીકે નીમશે.
2. ભારતના એટર્ની જનરલની જેમ રાજ્યના એડવોકેટ જનરલ રાજ્યની વિધાનસભાની કાર્યવાહીમાં મત આપવાના અધિકાર વિના ભાગ લઈ શકશે.
3. એડવોકેટ જનરલ રાજ્યપાલની મરજી હોય ત્યાં સુધી હોદ્દો ધરાવશે અને તેમને રાજ્યની વિધાનસભા નક્કી કરે તે મહેનતાણું મળશે.

(A) ફક્ત 1

(B) ફક્ત 1 અને 2

(C) ફક્ત 1 અને 3

(D) 1, 2 અને 3

102. ઉચ્ચ ન્યાયાલયના ન્યાયાધીશો બાબતે નીચેના પૈકી કયાં વિધાનો સાચાં છે ?

1. ઉચ્ચ ન્યાયાલયના ન્યાયાધીશ સર્વોચ્ચ અદાલતના મુખ્ય ન્યાયાધીશને લખાણથી પોતાના હોદ્દાનું રાજીનામું આપી શકશે.
2. (ઉચ્ચ ન્યાયાલયના ન્યાયાધીશ ઉપરના આરોપોની તપાસ માટેની) સંસદની તપાસ સમિતિ સર્વોચ્ચ ન્યાયાલયના મુખ્ય ન્યાયાધીશ અથવા ન્યાયાધીશનો સમાવેશ કરે છે.
3. તપાસ સમિતિ ઉચ્ચ ન્યાયાલયના ન્યાયાધીશ જે રાજ્યના ઉચ્ચ ન્યાયાલયના હોય તેના મુખ્ય ન્યાયાધીશનો પણ સમાવેશ કરે છે.
4. તપાસ સમિતિ પ્રતિષ્ઠિત ન્યાયશાસ્ત્રી (jurist) અથવા ભારત સરકારના કાયદામંત્રીનો પણ સમાવેશ કરે છે.

(A) 1, 2, 3 અને 4

(B) ફક્ત 1 અને 2

(C) ફક્ત 3 અને 4

(D) ફક્ત 1, 2 અને 3

103. વહીવટી ટ્રીબ્યુનલો બાબતે નીચેના પૈકી કયાં વિધાનો સાચાં છે ?

1. અનુચ્છેદ 323 A અનુસાર સંસદે 1985 માં વહીવટી ટ્રીબ્યુનલ અધિનિયમ પસાર કર્યો.
2. કેન્દ્રીય વહીવટી ટ્રીબ્યુનલમાં એક અધ્યક્ષ, ઉપાધ્યક્ષ અને 25 સભ્યો રહેશે.
3. અધ્યક્ષની નિયુક્તિ ભારત સરકારના ગૃહવિભાગ દ્વારા થશે.
4. રાજ્ય વહીવટી ટ્રીબ્યુનલના અધ્યક્ષ અને સભ્યોની નિયુક્તિ જે તે રાજ્યના રાજ્યપાલ સાથે સલાહ વિચારણા કર્યા બાદ રાષ્ટ્રપતિ દ્વારા કરવામાં આવે છે.

(A) 1, 2, 3 અને 4

(B) ફક્ત 1, 2 અને 3

(C) ફક્ત 1 અને 4

(D) ફક્ત 1, 2 અને 4

104. રાષ્ટ્રીય કાનૂની સેવા સત્તામંડળ હેઠળ મફત કાનૂની સેવાઓ બાબતે નીચેના પૈકી કયાં વિધાનો સાચાં છે ?

1. મફત કાનૂની સેવા કાનૂની કાર્યવાહીઓમાં દસ્તાવેજોનું પ્રીન્ટીંગ અને ભાષાંતર સહિત અપીલ, પેપરબુક તૈયાર કરવાનો સમાવેશ કરે છે.
2. ઔદ્યોગિક કામદારો મફત કાનૂની સેવાઓ પ્રાપ્ત કરવા માટે પાત્ર છે.
3. જે વ્યક્તિઓની વાર્ષિક આવક પાંચ લાખ કરતાં વધુ નથી તેઓ મફત કાનૂની સેવાઓ માટે પાત્ર છે.

(A) 1, 2 અને 3

(B) ફક્ત 1 અને 3

(C) ફક્ત 1 અને 2

(D) ફક્ત 2 અને 3

101. Which of the following statement(s) is/are correct regarding Advocate General of a State?

1. Governor of each State shall appoint a person who is qualified to be appointed as Judge of a High Court to be Advocate-General for the State
2. Like Attorney General of India, Advocate General of a state can take part in the proceedings of state legislature without the right to vote.
3. Advocate-General shall hold office during the pleasure of the Governor, and shall receive such remuneration as the state legislature may determine.

(A) 1 only

(B) 1 and 2 only

(C) 1 and 3 only

(D) 1, 2 and 3

102. Which of the following statements are correct regarding the Judges of a High Court?

1. A judge of a High Court can resign his office by writing it to the Chief Justice of the Supreme Court
2. The investigate committee of Parliament (for the investigation of charges on a high court judge) consists of Chief justice or a judge of Supreme Court
3. The committee also consists of Chief Justice of concerned state high court where the judge of the high court belongs
4. The committee also consists of a distinguished jurist or Minister of Law, GOI

(A) 1, 2, 3 and 4

(B) 1 and 2 only

(C) 3 and 4 only

(D) 1, 2 and 3 only

103. Which of the following statements are correct regarding Administrative Tribunals?

1. In pursuance of the Article 323A, the Parliament has passed the Administrative Tribunals Act in 1985.
2. There will be a Chairman, Vice-Chairman and 25 members in the Central Administrative Tribunal
3. The Chairman will be appointed by the Ministry of Home, GOI
4. The Chairman, and members of the State Administrative Tribunals are appointed by the President after consultation with the concerned state governor

(A) 1, 2, 3 and 4

(B) 1, 2 and 3 only

(C) 1 and 4 only

(D) 1, 2 and 4 only

104. Which of the following statements are correct regarding Free Legal services under National Legal Services Authority?

1. Free legal service includes preparation of appeal, paper book including printing and translation of documents in legal proceedings
2. Industrial workmen are eligible for getting free legal services
3. Persons whose annual income does not exceed five lakhs are eligible for free legal services

(A) 1, 2 and 3

(B) 1 and 3 only

(C) 1 and 2 only

(D) 2 and 3 only

105. નીચેની યાદી-I ને યાદી-II સાથે જોડો.

યાદી-I

1. ફરજિયાત જોગવાઈઓ

2. સ્વૈચ્છિક જોગવાઈઓ

3. આર આર દિવાકર સમિતિ

4. કે. સંથાનમ સમિતિ

(A) 1 - a, 2 - b, 3 - c, 4 - d

(C) 1 - b, 2 - a, 3 - d, 4 - c

યાદી-II

a) અધ્યક્ષ અને અન્ય સભ્યોનો મતાધિકાર

b) રાજ્યના એકત્રિત ફંડમાંથી પંચાયતોને સહાયક અનુદાન કરવું.

c) પંચાયતી રાજ ચૂંટણીઓ માટેની સમિતિ

d) ગ્રામસભાની સ્થિતિ માટેની અભ્યાસ ટૂકડી

(B) 1 - a, 2 - b, 3 - d, 4 - c

(D) 1 - a, 2 - c, 3 - d, 4 - b

106. નીચેના વિધાનો ધ્યાને લો.

વિધાન 1 : દરેક રાજ્યની કારોબારી સત્તા એવી રીતે વાપરવી જોઈએ કે જેથી સંઘની કારોબારી સત્તા વાપરવામાં અંતરાય આવે નહીં કે તેને પ્રતિકૂળ અસર થાય નહીં

વિધાન 2 : ભારત સરકારને જરૂરી જણાય તે હેતુ માટે સંઘની કારોબારી સત્તા રાજ્યોને આવા નિર્દેશો આપશે.

(A) વિધાન 1 અને 2 બંને સાચાં છે અને વિધાન 2 એ વિધાન 1 માટેની સાચી સમજૂતી છે.

(B) વિધાન 1 અને 2 બંને સાચાં છે પરંતુ વિધાન 2 એ વિધાન 1 માટેની સાચી સમજૂતી નથી.

(C) વિધાન 1 સાચું છે પરંતુ વિધાન 2 ખોટું છે.

(D) વિધાન 1 ખોટું છે અને વિધાન 2 સાચું છે.

107. એક બેઠકમાં માલ અને સેવા કર કાઉન્સિલ (GSTC)ના નિર્ણયો બાબતે નીચેના પૈકી કયા વિધાનો સાચાં છે ?

1. GSTC નો દરેક નિર્ણય બેઠકમાં હાજર અને મતદાન કરનાર સભ્યોના ભારિત મતો (weighted votes)ના ત્રણ ચતુર્થાંશથી ઓછા ન હોય તેવી બહુમતી દ્વારા લેવામાં આવશે.

2. કેન્દ્ર સરકારના મતનું ભારણ તે બેઠકમાં પડેલા કુલ મતના ત્રીજા ભાગનું રહેશે.

3. તમામ રાજ્ય સરકારોના મતોને સાથે લેતાં તેનું ભારણ તે બેઠકમાં પડેલા કુલ મતના બે-તૃતીયાંશ ભાગનું રહેશે.

(A) ફક્ત 1 અને 2

(B) ફક્ત 2 અને 3

(C) ફક્ત 1 અને 3

(D) 1, 2 અને 3

108. નીચેના વિધાનો ધ્યાને લો.

વિધાન 1 : સંસદ સંઘના હેતુઓ માટે કોઈપણ સમયે કોઈપણ ડ્યુટી (duties) અથવા કરવેરાઓ (taxes)માં સરચાર્જ (surcharge) અન્વયે વધારો કરી શકે છે.

વિધાન 2 : આવા કોઈપણ સરચાર્જ (surcharge)ની તમામ આવક ભારતના જાહેર ખાતા (Public Account)નો ભાગ બનશે.

(A) વિધાન 1 અને 2 બંને સાચાં છે અને વિધાન 2 એ વિધાન 1 માટેની સાચી સમજૂતી છે.

(B) વિધાન 1 અને 2 બંને સાચાં છે પરંતુ વિધાન 2 એ વિધાન 1 માટેની સાચી સમજૂતી નથી.

(C) વિધાન 1 સાચું છે પરંતુ વિધાન 2 ખોટું છે.

(D) વિધાન 1 ખોટું છે અને વિધાન 2 સાચું છે.



105. Match the following List-I with List-II

List-I

1. Compulsory Provisions

2. Voluntary Provisions

3. RR Diwakar Committee

4. K. Santhanam Committee

(A) 1 - a, 2 - b, 3 - c, 4 - d

(C) 1 - b, 2 - a, 3 - d, 4 - c

List-II

a) Voting rights of the chairperson and other members

b) Making the Grants in aid to the panchayats from Consolidated Fund of State

c) Committee on Panchayat Raj Elections

d) Study team on the position of Gram Sabha

(B) 1 - a, 2 - b, 3 - d, 4 - c

(D) 1 - a, 2 - c, 3 - d, 4 - b

106. Consider the following statements:

Statement 1 : The executive power of every State shall be so exercised as not to impede or prejudice the exercise of the executive power of the Union

Statement 2 : The executive power of the Union shall extend to the giving of such directions to a State as may appear to the Government of India to be necessary for that purpose.

(A) Both Statements 1 and 2 are correct and statement 2 is the correct explanation for statement 1

(B) Both Statements 1 and 2 are correct but Statement 2 is not the correct explanation for statement 1

(C) Statement 1 is correct but statement 2 is incorrect

(D) Statement 1 is incorrect and statement 2 is correct

107. Which of the following statements are correct regarding Goods and Services Tax Council (GSTC) decisions in a meeting?

1. Every decision of the GSTC shall be taken at a meeting, by a majority of not less than three-fourths of the weighted votes of the members present and voting.

2. The vote of the Central Government shall have a weightage of one-third of the total votes cast in that meeting.

3. The votes of all the State Governments taken together shall have a weightage of two-thirds of the total votes cast, in that meeting.

(A) 1 and 2 only

(B) 2 and 3 only

(C) 1 and 3 only

(D) 1, 2 and 3

108. Consider the following statements:

Statement 1 : Parliament may at any time increase any of the duties or taxes by a surcharge for purposes of the Union

Statement 2 : The whole proceeds of any such surcharge shall form part of Public Account of India

(A) Both Statements 1 and 2 are correct and statement 2 is the correct explanation for statement 1

(B) Both Statements 1 and 2 are correct but Statement 2 is not the correct explanation for statement 1

(C) Statement 1 is correct but statement 2 is incorrect

(D) Statement 1 is incorrect and statement 2 is correct

109. જો ભારતના રાષ્ટ્રપતિ કોઈ ચોક્કસ રાજ્યના સંદર્ભે બંધારણના અનુચ્છેદ 356 હેઠળ જોગવાઈ કર્યા પ્રમાણે પોતાની સત્તાનો ઉપયોગ કરે તો,
- (A) રાજ્યની વિધાનસભાનું આપોઆપ વિસર્જન (dissolved) થાય છે.
- (B) તે રાજ્યની વિધાનસભાની સત્તા સંસદને આધિન વાપરી શકાશે.
- (C) તે રાજ્યમાં અનુચ્છેદ 19 મોકૂફ રહેશે.
- (D) ઉપરોક્ત પૈકી કોઈ નહીં
110. જો કોઈ રાજ્ય વિધાનસભાની ચૂંટણીમાં ઉમેદવાર કે જેને ચૂંટાયેલો જાહેર કરવામાં આવે, તે પોતાની જમા અનામત ગુમાવે, તેનો અર્થ એ થાય છે કે .....
- (A) મતદાન ખૂબ જ નબળું રહ્યું.
- (B) ચૂંટણી બહુવિધ સભ્ય મતવિસ્તાર (multimember constituency) માટે હતી.
- (C) ચૂંટાયેલા ઉમેદવારનો વિજય તેના હરીફ ઉમેદવારથી ખૂબ જ ઓછા અંતરથી હતો.
- (D) ખૂબ જ મોટી સંખ્યામાં ઉમેદવારોએ ચૂંટણી લડી
111. લોકસભામાં ચૂંટાવવા માટે ..... દ્વારા ઉમેદવારીપત્ર ભરી શકાશે.
- (A) ભારતમાં નિવાસ કરતા કોઈપણ
- (B) જ્યાંથી ચૂંટણી લડવાની હોય તે મતવિસ્તારના નિવાસી
- (C) ભારતનો કોઈપણ નાગરીક કે જેનું નામ મતવિસ્તારની મતદાર યાદીમાં આવતું હોય.
- (D) ભારતનો કોઈપણ નાગરીક
112. વિવિધ રીટ (writs) બાબતે નીચેના પૈકી કયા વિધાનો સાચાં છે ?
1. ભારતના ચૂંટણી આયુક્ત વિરુદ્ધ પ્રતિષેધ (પ્રોહિબિશન) જારી કરી શકાય છે.
  2. ન્યાયિક ક્ષમતા (judicial capacity)માં કાર્ય કરતા ઉચ્ચ ન્યાયાલયના મુખ્ય ન્યાયાધીશ વિરુદ્ધ પરમાદેશ (મેન્ડેમસ) જારી કરી શકાતું નથી.
  3. ઉત્પ્રેષણ (સર્શિયોરરી) અધિકારક્ષેત્ર બહારના કારણોસર જારી કરવામાં આવે છે.
  4. અધિકાર-પૃથ્ણ (ક્વો વોરંટો) મંત્રાલય કાર્યાલય અથવા ખાનગી કાર્યાલયના કિસ્સાઓમાં જારી કરી શકાતું નથી.
- (A) ફક્ત 2 અને 3 (B) ફક્ત 2, 3 અને 4
- (C) ફક્ત 1, 3 અને 4 (D) 1, 2, 3 અને 4
113. નીચેના પૈકી કયા વિધાનો સાચાં છે ?
1. એડવોકેટ જનરલ એ અનુચ્છેદ 165 હેઠળ રચવામાં આવેલ બંધારણીય સંસ્થા છે.
  2. એટર્ની જનરલ એ સરકારના પૂરા-સમયના કાઉન્સેલ (વકીલ) નથી અને તેઓ પર ખાનગી કાનૂની કાર્ય (private legal practice) કરવા માટે પ્રતિબંધ નથી.
  3. એટર્ની જનરલ, સંસદ સભ્યને મળતાં તમામ વિશેષાધિકારો અને રક્ષણ ભોગવે છે.
- (A) 1, 2 અને 3 (B) ફક્ત 1 અને 2 (C) ફક્ત 2 અને 3 (D) ફક્ત 1 અને 3

109. If the President of India exercises his power as provided under Article 356 of the Constitution in respect of a particular state, then
- (A) The Assembly of the State is automatically dissolved.
- (B) The powers of the Legislature of that State shall be exercisable by or under the authority of the Parliament.**
- (C) Article 19 is suspended in that State.
- (D) None of the above
110. If in an election to a State Legislative Assembly the candidate who is declared elected loses his deposit, it means that \_\_\_\_\_.
- (A) The polling was very poor
- (B) The election was for a multimember constituency
- (C) The elected candidate's victory over his rival was very marginal
- (D) A very large number of candidates contested the election**
111. For election to the Lok Sabha, a nomination paper can be filed by \_\_\_\_\_.
- (A) Anyone residing in India.
- (B) A resident of the constituency from which the election is to be contested.
- (C) Any citizen of India whose name appears on the electoral roll of a constituency.**
- (D) Any citizen in India.
112. Which of the following statements are correct regarding different writs?
1. Prohibition can be issued against Election Commission of India.
  2. Mandamus cannot be issued against the Chief Justice of a High Court acting in judicial capacity.
  3. Certiorari is issued on the ground of excess of jurisdiction.
  4. Quo-Warranto cannot be issued in cases of ministerial office or private office.
- (A) 2 and 3 only (B) 2, 3 and 4 only
- (C) 1, 3 and 4 only **(D) 1, 2, 3 and 4**
113. Which of the following are correct?
1. Advocate General is a constitutional institution formed under Article 165.
  2. Attorney General is not a full-time counsel for the government and he is not debarred from private legal practice.
  3. Attorney General enjoys all the privileges and immunities that are available to the Member of Parliament.
- (A) 1, 2 and 3** (B) 1 and 2 only
- (C) 2 and 3 only (D) 1 and 3 only

114. અનુસૂચિત જાતિઓ અને અનુસૂચિત જનજાતિઓના કલ્યાણ માટેની સંસદીય સમિતિ બાબતે નીચેના પૈકી કયાં વિધાનો સાચાં નથી ?
1. સમિતિની મુદત એક વર્ષ છે.
  2. સમિતિમાં ચૂંટાવવા માટે મંત્રી પાત્ર (eligible) છે.
  3. સમિતિનું ચૂંટણી સ્વરૂપ લોકસભા અને રાજ્યસભા દરેકમાંથી 15 સભ્યો ધરાવે છે.
- (A) 1, 2 અને 3 (B) ફક્ત 1 અને 3  
(C) ફક્ત 2 અને 3 (D) ફક્ત 1 અને 2
115. લોકપ્રચલિત અભિપ્રાય (popular opinion) અનુસાર નીચેના પૈકી કયાં વિધાનો ન્યાયિક સક્રિયતા (judicial activism) પ્રતિબિંબિત કરે છે ?
1. વહીવટ ઉપર ન્યાયિક સમીક્ષાનું વિસ્તરણ
  2. સત્તાના અનાદર/તિરસ્કારનો આડેધડ ઉપયોગ
  3. વહીવટી કાર્યવાહીઓમાં સૂનાવણીના હકોનું વિસ્તરણ
- (A) 1, 2 અને 3 (B) ફક્ત 2 અને 3  
(C) ફક્ત 1 અને 3 (D) ફક્ત 1 અને 2
116. નીચેના પૈકી કઈ જોડી સાચી રીતે જોડાયેલી છે ?
- (A) દેવાળુ અને નાદારી – સમવર્તી યાદી  
(B) અદાલતનો અનાદર પરંતુ સર્વોચ્ચ અદાલતનો અનાદરનો સમાવેશ નહીં – રાજ્ય યાદી  
(C) આર્થિક અને સામાજિક આયોજન – સંઘ યાદી  
(D) ઉપરોક્ત દર્શાવેલ પૈકી કોઈ નહીં
117. ભારતીય બંધારણની આઠમી અનુસૂચિમાં નીચેના પૈકી કઈ ભાષાઓ આવેલી નથી ?
1. સંથાલી
  2. ડોગરી
  3. બોડો
  4. ગોન્ડુ
  5. મુન્ડા
- (A) 1, 2, 3, 4 અને 5 (B) ફક્ત 1, 2 અને 3  
(C) ફક્ત 1, 2, 3 અને 4 (D) ફક્ત 1, 4 અને 5
118. નીચેના પૈકી કઈ જોડીઓ સાચી રીતે જોડાયેલી છે ?
1. કુટુંબ કલ્યાણ – અગીયારમી અનુસૂચિ
  2. અગ્નિશામક સેવાઓ – અગીયારમી અનુસૂચિ
  3. ઢોર પૂરવાના ડબા, પશુઓ પ્રત્યેની કૂરતા અટકાવવી – બારમી અનુસૂચિ
  4. ગરીબી નાબૂદી – અગીયારમી અને બારમી અનુસૂચિ
- (A) ફક્ત 1 અને 3 (B) ફક્ત 1, 3 અને 4  
(C) ફક્ત 1, 2 અને 3 (D) 1, 2, 3 અને 4

114. Which of the following statements are not true about the Parliamentary Committee on the Welfare of Scheduled Castes and Scheduled Tribes?
1. The term of the committee is one year.
  2. A minister is eligible for election to the committee.
  3. The election pattern to the committee comprises 15 members each from Lok Sabha and Rajya Sabha.
- (A) 1, 2 and 3 (B) 1 and 3 only  
(C) 2 and 3 only (D) 1 and 2 only
115. As per the popular opinion which of the following statements reflect the Judicial Activism?
1. Expansion of the judicial review over the administration
  2. Indiscriminate exercise of contempt power
  3. Expansion of rights of hearing in the administrative process
- (A) 1, 2 and 3 (B) 2 and 3 only  
(C) 1 and 3 only (D) 1 and 2 only
116. Which of the following pairs is correctly matched?
- (A) Bankruptcy and insolvency – Concurrent List  
(B) Contempt of the Court but not including Contempt of Supreme Court - State List  
(C) Economic and Social Planning - Union List  
(D) None of the Above
117. Which of the following languages are NOT there in the Eighth Schedule of the Indian Constitution?
1. Santhali
  2. Dogri
  3. Bodo
  4. Gondu
  5. Munda
- (A) 1, 2, 3, 4 and 5 (B) 1, 2 and 3 only  
(C) 1, 2, 3 and 4 only (D) 1, 4 and 5 only
118. Which of the following pairs are correctly matched?
1. Family Welfare – 11<sup>th</sup> Schedule
  2. Fire Services – 11<sup>th</sup> Schedule
  3. Cattle pounds; prevention of cruelty to animals – 12<sup>th</sup> Schedule
  4. Poverty Alleviation – 11<sup>th</sup> and 12<sup>th</sup> Schedule
- (A) 1 and 3 only (B) 1, 3 and 4 only  
(C) 1, 2 and 3 only (D) 1, 2, 3 and 4

119. અનુચ્છેદ 371 બાબતે નીચેના વિધાનો ધ્યાને લો.

વિધાન 1 : અનુચ્છેદ 371 હેઠળ વિદર્ભ, મરાઠાવાડ અને બાકીના મહારાષ્ટ્ર માટે અથવા સૌરાષ્ટ્ર, કચ્છ અને બાકીના ગુજરાત માટે જુદા જુદા વિકાસ બોર્ડની સ્થાપના.

વિધાન 2 : સમગ્ર રીતે રાજ્યની જરૂરિયાતોને લક્ષમાં લઈને સદરહુ વિસ્તારો ઉપર કરવાના વિકાસ ખર્ચ સાડુ નાણાની ન્યાયી ફાળવણી

(A) વિધાન 1 અને 2 બંને સાચાં છે અને વિધાન 2 એ વિધાન 1 માટેની સાચી સમજૂતી છે.

(B) વિધાન 1 અને 2 બંને સાચાં છે પરંતુ વિધાન 2 એ વિધાન 1 માટેની સાચી સમજૂતી નથી.

(C) વિધાન 1 સાચું છે પરંતુ વિધાન 2 ખોટું છે.

(D) વિધાન 1 ખોટું છે અને વિધાન 2 સાચું છે.

120. ગુજરાત રાજ્ય બાબતે ભારતીય બંધારણની પહેલી અનુસૂચીમાં નીચેના પૈકી કયાં વિધાનનો ઉલ્લેખ થયેલો છે ?

(A) મુંબઈ પુનર્રચના અધિનિયમ, 1960ની કલમ 3 ની પેટાકલમ (1)માં ઉલ્લેખેલા રાજ્યક્ષેત્રો અને ભૂતપૂર્વ સૌરાષ્ટ્ર અને વડોદરા રાજ્યના વિસ્તારો

(B) મુંબઈ પુનર્રચના અધિનિયમ, 1960ની કલમ 3 ની પેટાકલમ (1)માં ઉલ્લેખેલા રાજ્યક્ષેત્રો અને ભૂતપૂર્વ સૌરાષ્ટ્ર અને અન્ય દેશી રજવાડાઓના વિસ્તારો

(C) મુંબઈ પુનર્રચના અધિનિયમ, 1960ની કલમ 3 ની પેટાકલમ (1)માં ઉલ્લેખેલા રાજ્યક્ષેત્રો, સૌરાષ્ટ્ર, વડોદરા અને જૂનાગઢ રાજ્ય.

(D) મુંબઈ પુનર્રચના અધિનિયમ, 1960ની કલમ 3 ની પેટાકલમ (1)માં ઉલ્લેખેલા રાજ્યક્ષેત્રો.

121. ભારતીય બંધારણના આમુખમાં સ્વંત્રતા, સમાનતા અને બંધુતાના આદર્શો ..... માંથી અપનાવવામાં આવ્યાં છે.

(A) અમેરીકન ક્રાન્તિ (1776-1783)

(B) ફ્રેન્ચ ક્રાન્તિ (1789-1799)

(C) ઔદ્યોગિક ક્રાન્તિ

(D) હૈતીયન ક્રાન્તિ (1791-1804)

122. રાષ્ટ્રપતિ શાસન બાબતે નીચેના પૈકી કયા વિધાનો સાચાં છે ?

1. 42મા બંધારણ સુધારા અધિનિયમ, 1976 એ રાજ્યમાં રાષ્ટ્રપતિ શાસનની પ્રારંભિક અવધિ 6 મહિનાથી લંબાવીને એક વર્ષની કરી.

2. 1960થી આજદિન સુધી ગુજરાત રાજ્ય પાંચ વખત રાષ્ટ્રપતિ શાસન હેઠળ રહ્યું છે.

3. સપ્ટેમ્બર 2021 સુધી છત્તીસગઢ અને તેલંગાણા કોઈ પણ સમયે રાષ્ટ્રપતિ શાસન હેઠળ રહ્યાં નથી.

(A) 1, 2 અને 3

(B) ફક્ત 2 અને 3

(C) ફક્ત 1 અને 3

(D) ફક્ત 1 અને 2

123. નીચેના પૈકી કયા સામાજિક ન્યાય અને અધિકારીતા મંત્રાલયના વિભાગો છે ?

(A) સામાજિક ન્યાય અને અધિકારીતા વિભાગ

(B) દિવ્યાંગજન સશક્તિકરણ વિભાગ

(C) (A) અને (B) બંને

(D) (A) અને (B) બંને પૈકી એકપણ નહીં

119. Consider the following statements regarding Article 371:

Statement 1 : Establishment of separate development boards for Vidarbha, Marathwada, and the rest of Maharashtra or, Saurashtra, Kutch and the rest of Gujarat under Article 371

Statement 2 : Equitable allocation of funds for developmental expenditure over the said areas, subject to the requirements of the State as a whole.

(A) Both Statements 1 and 2 are correct and statement 2 is the correct explanation for statement 1

(B) Both Statements 1 and 2 are correct but Statement 2 is not the correct explanation for statement 1

(C) Statement 1 is correct but statement 2 is incorrect

(D) Statement 1 is incorrect and statement 2 is correct

120. Which of the following statements is mentioned in the 1<sup>st</sup> schedule of the Indian Constitution regarding Gujarat State?

(A) The Territories referred in sub section (1) of section 3 of the Bombay Reorganization Act 1960 and the areas from erstwhile Saurashtra and Baroda State.

(B) The Territories referred in sub section (1) of section 3 of the Bombay Reorganization Act 1960 and the areas from erstwhile Saurashtra and other Princely States

(C) The Territories referred in sub section (1) of section 3 of the Bombay Reorganization Act 1960, Saurashtra, Baroda and Junagadh State.

(D) The Territories referred to in sub-section (1) of section 3 of the Bombay Reorganization Act, 1960.

121. The ideals of liberty, equality and fraternity in the Preamble of the Indian Constitution have adopted from \_\_\_\_\_.

(A) American Revolution (1776-1783)

(B) French Revolution (1789-1799)

(C) Industrial Revolution

(D) Haitian Revolution (1791-1804)

122. Which of the following statements are correct regarding President's Rule?

1. The 42<sup>nd</sup> Constitution Amendment Act, 1976 extended the initial duration of President's Rule in a State from six months to one year.

2. Since 1960 till today State of Gujarat was under President's Rule for five times.

3. Till September 2021, Chhattisgarh and Telangana have not been under President's Rule at any point of time.

(A) 1, 2 and 3

(B) 2 and 3 only

(C) 1 and 3 only

(D) 1 and 2 only

123. Which of the following are the departments of the Ministry of Social Justice & Empowerment?

(A) Department of Social Justice and Empowerment

(B) Department of Empowerment of persons with disabilities

(C) Both (A) and (B)

(D) Neither (A) nor (B)

124. ભારતના બંધારણના અનુચ્છેદ 239 હેઠળ ભારતના રાષ્ટ્રપતિ દ્વારા નિયુક્ત કરવામાં આવેલા વહીવટકર્તા ..... છે.
1. સ્પષ્ટપણે માત્ર બંધારણીય કાર્યકારી
  2. રાજ્યપાલની સમકક્ષ પદ ધરાવે
  3. જો ધારાસભા અસ્તિત્વ ધરાવતી હોય તો ધારાસભાને જવાબદાર
- (A) ફક્ત 1 (B) ફક્ત 1 અને 2  
(C) ફક્ત 1 અને 3 (D) 1, 2 અને 3
125. નીચેના પૈકી કોનો અર્થ “સમાન વચ્ચે કાયદો સમાન હોવો જોઈએ અને સમાન રીતે અમલ થવો જોઈએ, સરખાંઓ સાથે સરખી રીતે વ્યવહાર થવો જોઈએ...” થાય છે ?
- (A) કાયદા સમક્ષ સમાનતા (B) કાયદાનું સમાન રક્ષણ  
(C) કાયદાનો સમાન વ્યવહાર (D) ઉપરોક્ત દર્શાવેલ તમામ
126. 15મા નાણા આયોગે સહાયક અનુદાનની ભલામણ કરી છે જે પાંચ વ્યાપક શ્રેણીઓમાં આવે છે. નીચેના પૈકી કયું આ શ્રેણીઓમાં આવતું નથી ?
- (A) મહેસૂલી ખાધ અનુદાનો (B) સ્થાનિક સરકારો માટે અનુદાનો  
(C) આપત્તિ વ્યવસ્થાપન માટે અનુદાનો (D) અવિશિષ્ટ અનુદાનો
127. ભારતના સર્વોચ્ચ ન્યાયાલયના મુખ્ય ન્યાયાધીશ અને બે સૌથી વરિષ્ઠ ન્યાયાધીશોની બનેલી સમિતિની તપાસ બાદ લોકપાલના સભ્યોને ..... દૂર કરી શકાય છે.
- (A) ભારતના રાષ્ટ્રપતિ (B) ભારતના સર્વોચ્ચ ન્યાયાલયના મુખ્ય ન્યાયાધીશ  
(C) ભારતની સંસદ (D) દૂર કરી શકાતા નથી.
128. પોતાની અન્ય પછાત વર્ગની યાદી બનાવવા માટે રાજ્યોની સત્તા પુનઃસ્થાપિત કરવા પાછળ ભારતના બંધારણના નીચેના પૈકી કયા સુધારાનો હેતુ છે ?
- (A) 95મો (B) 99મો  
(C) 104મો (D) 105મો
129. સર્વોચ્ચ અદાલતે ગૌણ ઈચ્છામૃત્યુ (passive euthanasia) મેળવવા માંગતા ગંભીર રીતે બિમાર દર્દી દ્વારા બનાવવામાં આવેલ “લીવીંગ વીલ” (living will)ની માન્યતાને પરવાનગી આપી તેની નીચેના પૈકી કઈ અસર / અસરો છે ?
- (A) ગૌરવ (dignity) સાથે મૃત્યુ પામવાનો હક્ક એ મૂળભૂત હક્ક છે.  
(B) ભારતમાં સક્રિય ઈચ્છામૃત્યુ (active euthanasia)ને બદલે ગૌણ ઈચ્છા મૃત્યુ (passive euthanasia)ને કાયદાકીય દરજ્જો મળ્યો.  
(C) (A) અને (B) બંને  
(D) (A) અને (B) બંને પૈકી એકપણ નહીં



124. The Administrator appointed by the President of India, under Article 239 of the Indian Constitution is \_\_\_\_\_
1. Is a purely constitutional functionary
  2. Occupies position equivalent to that of Governor
  3. Is answerable to the Legislature, if Legislature exists
- (A) 1 only (B) 1 and 2 only  
(C) 1 and 3 only (D) 1, 2 and 3
125. Which of the following would mean “that among equals, the law should be equal and equally administered, that likes should be treated alike.....”?
- (A) Equality before the law  
(B) Equal protection of the laws  
(C) Equal treatment of the laws  
(D) All of the above
126. The 15<sup>th</sup> Finance Commission recommended Grants-in-Aid falls into five broad categories. Which of the following is NOT in the said categories?
- (A) Revenue Deficit Grants  
(B) Grants for Local Governments  
(C) Grants for Disaster Management  
(D) Non-Specific Grants
127. After an enquiry by a Committee consisting of Chief Justice and two senior most Judges of Supreme Court Members of Lokpal can be removed by \_\_\_\_\_.
- (A) President of India  
(B) Chief Justice of Supreme Court of India  
(C) Parliament of India  
(D) Cannot be removed
128. “To restore States’ Power to make their own OBC list” is the objective of which one of the following Amendments to the Constitution of India?
- (A) 95<sup>th</sup> (B) 99<sup>th</sup>  
(C) 104<sup>th</sup> (D) 105<sup>th</sup>
129. Supreme Court has allowed the recognition of ‘living will’ drafted by a terminally ill patient seeking passive euthanasia. Which of the following is/are implications of it?
- (A) Right to die with dignity is a fundamental right.  
(B) Passive euthanasia got the legal status unlike active euthanasia in India.  
(C) Both (A) and (B)  
(D) Neither (A) nor (B)

130. ભારતના બંધારણ અનુસાર, વિધેયક, નાણા વિધેયક ત્યારે કહેવાય છે જો તેમાં નીચેના પૈકી ..... નો સમાવેશ થતો હોય ?
1. ફક્ત કોઈ કર નાખવાની, નાબૂદ કરવાની, માફ કરવાની, તેમાં ફેરફાર કરવાની અથવા તેનું નિયમન કરવાની જોગવાઈઓ હોય.
  2. કોઈપણ સ્થાનિક સત્તામંડળ દ્વારા દંડ નાખવાની, પેનલ્ટી કરવાની, કર નાખવાની, નાબૂદ કરવાની, માફ કરવાની, તેમાં ફેરફાર કરવાની અથવા તેનું નિયમન કરવાની જોગવાઈ હોય.
  3. કોઈ ખર્ચને ભારતના એકત્રિત ફંડ ખાતે ઉધારવાનું જાહેર કરવાનું.
  4. ભારતના એકત્રિત ફંડમાંથી નાણાંનો વિનિયોગ કરવાનું.
- (A) ફક્ત 1 અને 3 (B) ફક્ત 1, 3 અને 4  
(C) ફક્ત 2, 3 અને 4 (D) ફક્ત 1 અને 2
131. ભારતીય નાગરિકતા બાબતે નીચેના પૈકી કયું / કયાં વિધાન / વિધાનો સાચું / સાચાં છે ?
- (A) ભારતની ભૂમિ ઉપર જન્મેલ વિદેશી માતાપિતાનું બાળક “જસ સોલી” (jus soli)ના સિધ્ધાંતના આધારે ભારતની નાગરિકતા માટે પાત્ર છે.
- (B) વિદેશી ભૂમિ ઉપર જન્મેલ બાળકને ભારતની નાગરિકતા એનાયત કરી શકાય જો તેના માતાપિતા પૈકી કોઈ એક બાળકના જન્મ સમયે ભારતનો નાગરિક હોય.
- (C) (A) અને (B) બંને
- (D) (A) અને (B) બંને પૈકી એકપણ નહીં
132. અનુચ્છેદ 18 હેઠળ ખિતાબોની નાબૂદી બાબતે નીચેના પૈકી કયા વિધાનો સાચાં છે ?
1. લશ્કરી અથવા શૈક્ષણિક વિશિષ્ટમાન ન હોય તેવો કોઈ ખિતાબ રાજ્યથી એનાયત કરી શકાશે નહીં.
  2. ભારતના નાગરિક ન હોય તેવી કોઈપણ વ્યક્તિ રાજ્ય હેઠળનો કોઈ લાભદાયક અથવા વિશ્વાસનો હોદ્દો ધરાવતી હોય તે દરમિયાન તેમનાથી રાષ્ટ્રપતિની સંમતિ વિના કોઈ વિદેશી રાજ્ય પાસેથી કોઈ ખિતાબ સ્વિકારી શકશે નહીં.
  3. ભારતનો નાગરિક કોઈ વિદેશી રાજ્ય પાસેથી લશ્કરી ખિતાબો સિવાય કોઈપણ ખિતાબ સ્વિકારી શકશે.
- (A) 1, 2 અને 3 (B) ફક્ત 2 અને 3  
(C) ફક્ત 1 અને 3 (D) ફક્ત 1 અને 2
133. દક્ષિણ એશિયાઈ ક્ષેત્રીય સહયોગ સંગઠન (SAARC) બાબતે નીચેના પૈકી કયા વિધાનો સાચાં છે ?
1. SAARC ચાર્ટરની શરૂઆત, “અમે, બાંગ્લાદેશ, ભૂતાન, ભારત, માલદીવ, નેપાળ, પાકિસ્તાન અને શ્રીલંકાના રાષ્ટ્રોના વડાઓ અથવા સરકાર.”
  2. SAARC ચાર્ટરમાં કુલ 10 અનુચ્છેદો છે.
  3. ભારતના તે વખતના વડાપ્રધાન ઈન્દીરા ગાંધીએ SAARCના ચાર્ટર ઉપર સહી કરી હતી.
  4. સંગઠનની કાર્યપ્રવૃત્તિઓની નાણા વ્યવસ્થા માટે દરેક રાષ્ટ્રસભ્યનો ફાળો ફરજિયાત છે.
- (A) ફક્ત 1 અને 2 (B) ફક્ત 3 અને 4  
(C) ફક્ત 1, 2 અને 3 (D) 1, 2, 3 અને 4

130. As per the Constitution of India, a Bill can be said to be a Money Bill, if it contains \_\_\_\_\_ of the following:
1. Only provisions dealing with the imposition, abolition, remission, alteration or regulation of any tax.
  2. Provisions with respect to fines, penalties, imposition, abolition, remission, alteration or regulation of any tax by any local authority.
  3. Declaring of any expenditure to be charged on the Consolidated Fund of India.
  4. Appropriation of moneys out of the Consolidated Fund of India
- (A) 1 and 3 only (B) 1, 3 and 4 only  
(C) 2, 3 and 4 only (D) 1 and 2 only
131. Which of the following statement(s) is/are correct regarding Indian citizenship?
- (A) A child born to foreign parents, on the soil of India is eligible for citizenship of India on the basis of the principle of jus soli.
- (B) A child born on foreign soil can be granted Indian citizenship if either of his parents is citizen of India at the time of child's birth.
- (C) Both (A) and (B)  
(D) Neither (A) nor (B)
132. Which of the following statements are correct regarding Abolition of Titles under Article 18?
1. No title, not being a military or academic distinction, shall be conferred by the State.
  2. No person who is not a citizen of India shall, while he holds any office of profit or trust under the State, accept without the consent of the President any title from any foreign State
  3. Citizen of India shall accept any title from any foreign State except military titles
- (A) 1, 2 and 3 (B) 2 and 3 only  
(C) 1 and 3 only (D) 1 and 2 only
133. Which of the following statements are correct regarding South Asian Association for Regional Cooperation(SAARC)?
1. The SAARC charter starts with "We, the Heads of State or Governments of Bangladesh, Bhutan, India, Maldives, Nepal, Pakistan and Sri Lanka"
  2. There are total 10 Articles in the SAARC charter
  3. Indira Gandhi the then Prime Minister of India signed on the SAARC charter
  4. The contribution of each Member State towards financing of the activities of the Association is mandatory.
- (A) 1 and 2 only (B) 3 and 4 only  
(C) 1, 2 and 3 only (D) 1, 2, 3 and 4

134. રાજ્યસભાની રચના બાબતે નીચેના વિધાનો ધ્યાને લો.

વિધાન 1 : બંધારણ અનુસાર નિયુક્ત થયેલા સભ્યો સાહિત્ય, વિજ્ઞાન, કલા અને સમાજ સેવાનું ખાસ જ્ઞાન અથવા પ્રત્યક્ષ અનુભવ ધરાવતા હોવા જોઈશે.

વિધાન 2 : બંધારણમાં નિયુક્ત થયેલાં સભ્યો માટે ખાસ ક્ષેત્રમાં અનુભવ વિશે કોઈ વિશિષ્ટ ઉલ્લેખ નથી.

(A) વિધાન 1 અને 2 બંને સાચાં છે અને વિધાન 2 એ વિધાન 1 માટેની સાચી સમજૂતી છે.

(B) વિધાન 1 અને 2 બંને સાચાં છે પરંતુ વિધાન 2 એ વિધાન 1 માટેની સાચી સમજૂતી નથી.

(C) વિધાન 1 સાચું છે પરંતુ વિધાન 2 ખોટું છે.

(D) વિધાન 1 ખોટું છે અને વિધાન 2 સાચું છે.

135. ભારતના રાષ્ટ્રીય માનવ અધિકાર આયોગ બાબતે નીચેના પૈકી કયા વિધાનો સાચાં છે ?

1. ભારતના રાષ્ટ્રીય માનવ અધિકાર આયોગ (NHRC)ની સ્થાપના વૈધાનિક સંસ્થા તરીકે કરવામાં આવી હતી.

2. આયોગમાં પાંચ વિભાગો છે.

3. જાહેર જાગૃતિ વિભાગ અને શૈક્ષણિક વિભાગ એ બે અગત્યના વિભાગો છે.

(A) 1, 2 અને 3

(B) ફક્ત 2 અને 3

(C) ફક્ત 1 અને 3

(D) ફક્ત 1 અને 2

136. કેન્દ્રશાસિત પ્રદેશો અને રાજ્યો બાબતે નીચેના પૈકી કયા વિધાનો સાચાં છે ?

1. હાલમાં કુલ પાંચ કેન્દ્રશાસિત પ્રદેશો, લેફ્ટનન્ટ ગવર્નર ધરાવે છે.

2. હાલમાં ત્રણ કેન્દ્રશાસિત પ્રદેશો, વહીવટદારો ધરાવે છે.

3. હાલમાં 28 રાજ્યો, રાજ્યના વડા તરીકે રાજ્યપાલ ધરાવે છે.

(A) 1, 2 અને 3

(B) ફક્ત 2 અને 3

(C) ફક્ત 1 અને 3

(D) ફક્ત 1 અને 2

137. ભારતના કેન્દ્રીય તકેદારી આયોગ (CVC) બાબતે નીચેના પૈકી કયા વિધાનો સાચાં છે ?

1. CVC ની સ્થાપના ભ્રષ્ટાચાર નિવારણ માટેની સાંથમ્ સમિતિની ભલામણોના આધારે થઈ હતી.

2. CVC સર્વોચ્ચ તકેદારી સંસ્થા છે અને કોઈપણ કારોબારી સત્તાના નિયંત્રણથી મુક્ત છે.

3. CVC એક મુખ્ય તકેદારી આયુક્ત અને ત્રણથી વધુ નહીં એટલા તકેદારી આયુક્તોનું બનેલું છે.

4. CVC ની સ્થાપના વર્ષ 1968માં કરવામાં આવી હતી પરંતુ કેન્દ્રીય તકેદારી આયોગ અધિનિયમ વર્ષ 2001માં અસ્તિત્વમાં આવ્યો.

(A) 1, 2, 3 અને 4

(B) ફક્ત 1, 2 અને 3

(C) ફક્ત 1 અને 2

(D) ફક્ત 3 અને 4

134. Consider of the following statements regarding composition of the Council of States.

Statement 1 : According to the Constitution the nominated members shall have the special knowledge or practical experience in Literature, Science, Arts and Social Service

Statement 2 : In the Constitution there is no special mention about the experience in the particular field for the Nominated members

(A) Both Statements 1 and 2 are correct and statement 2 is the correct explanation for statement 1

(B) Both Statements 1 and 2 are correct but Statement 2 is not the correct explanation for statement 1

(C) Statement 1 is correct but statement 2 is incorrect

(D) Statement 1 is incorrect and statement 2 is correct

135. Which of the following statements are correct regarding National Human Rights Commission of India?

1. The National Human Rights Commission (NHRC) of India was established as a statutory body

2. There are five divisions in the commission.

3. Public Awareness Division and Academic divisions are the two important divisions.

(A) 1, 2 and 3

(B) 2 and 3 only

(C) 1 and 3 only

(D) 1 and 2 only

136. Which of the following statements are correct regarding Union Territories and States?

1. At present total five Union territories are having Lieutenant Governors

2. At present Three Union Territories are having Administrators

3. At present 28 states are having Governors as head of the states

(A) 1, 2 and 3

(B) 2 and 3 only

(C) 1 and 3 only

(D) 1 and 2 only

137. Which of the following statements are correct regarding Central Vigilance Commission (CVC) of India?

1. The CVC was established on the recommendations of the Santhanam Committee on prevention of corruption

2. The CVC is Apex vigilance body and free of control from any Executive Authority

3. The CVC consists of one Chief Vigilance Commissioner and not more than three vigilance Commissioners

4. The CVC was established in the year 1968 but the Central Vigilance Commission Act came into existence in the year 2001

(A) 1, 2, 3 and 4

(B) 1, 2 and 3 only

(C) 1 and 2 only

(D) 3 and 4 only

138. રાજકીય પક્ષો અને ઉમેદવારોના માર્ગદર્શન માટે આદર્શ આચારસંહિતા બાબતે નીચેના પૈકી કયા વિધાનો સાચાં છે ?

1. મંત્રીઓ પોતાની સત્તાવાર મુલાકાતને ચૂંટણી પ્રચાર કાર્ય સાથે ભેગા નહીં કરે.
2. વડાપ્રધાન સિવાય, કારણ કે તેઓ ઉચ્ચ સુરક્ષામાં હોવાથી, સત્તાવાર વિમાનો, વાહનો, મશીનરી અને કર્મચારીઓ સહિત સરકારી પરિવહનનો ઉપયોગ કરી શકાશે નહીં.
3. મંત્રીઓ અને અન્ય સત્તાધિકારીઓ કોઈપણ નાણાકીય અનુદાનોની જાહેરાત કોઈપણ સ્વરૂપમાં કરી શકશે નહીં અને તેના વચનો આપી શકશે નહીં.
4. મંત્રીઓ અને અન્ય સત્તાધિકારીઓ રસ્તાઓના નિર્માણ, પાણીની સુવિધાઓ વિગેરેની જોગવાઈઓના વચનો આપી શકશે નહીં.

(A) 1, 2, 3 અને 4 (B) ફક્ત 1, 3 અને 4 (C) ફક્ત 1, 2 અને 3 (D) ફક્ત 1 અને 3

139. કેબીનેટ સચિવાલય અને વડાપ્રધાનનું કાર્યાલય (PMO) બાબતે નીચેના પૈકી કયું / કયાં વિધાન / વિધાનો સાચું / સાચાં છે ?

1. કેબીનેટ સચિવાલય સીધી રીતે વડાપ્રધાન કાર્યાલય (PMO) હેઠળ કાર્ય કરે છે.
2. ડાયરેક્ટ બેનીફીટ ટ્રાન્સફર મિશન અને મુખ્ય વૈજ્ઞાનિક સલાહકારનું કાર્યાલય પણ કેબીનેટ સચિવાલયનો ભાગ છે.
3. જાહેર ફરીયાદોના નિયામક PMO નો ભાગ છે.
4. કર્મચારીગણ અને તાલીમ વિભાગ પણ કેબીનેટ સચિવાલયનો ભાગ છે.

(A) ફક્ત 2 (B) ફક્ત 1 અને 4  
(C) ફક્ત 1, 2 અને 3 (D) 1, 2, 3 અને 4

140. લોકસભામાં આરક્ષણ બાબતે નીચેના પૈકી કયા વિધાનો સાચાં છે ?

1. હાલમાં અનુસૂચિત જાતિઓ માટે 84 બેઠકો આરક્ષિત છે.
2. અનુસૂચિત જનજાતિઓ માટે 47 બેઠકો આરક્ષિત છે.
3. જમ્મુ અને કાશ્મિરમાં અનુસૂચિત જાતિઓ અને અનુસૂચિત જનજાતિઓ માટે કોઈ બેઠકો આરક્ષિત નથી.
4. તમામ કેન્દ્રશાસિત પ્રદેશોમાં અનુસૂચિત જનજાતિઓ માટે ત્રણ બેઠકો અને અનુસૂચિત જાતિ માટે કોઈ બેઠક આરક્ષિત નથી.

(A) 1, 2, 3 અને 4 (B) ફક્ત 2, 3 અને 4  
(C) ફક્ત 1, 2 અને 3 (D) ફક્ત 1, 3 અને 4

141. 1947ના ભારતીય સ્વતંત્રતા અધિનિયમ બાબતે નીચેના પૈકી કયા વિધાનો સાચાં છે ?

1. આ અધિનિયમે વાઈસરોયનું પદ નાબુદ કર્યું.
2. આ અધિનિયમે દરેક રાજ્ય, ભારત અને પાકિસ્તાન માટે ગવર્નર જનરલની જોગવાઈ કરી.
3. એ ગવર્નર જનરલની નિયુક્તિ અંગ્રેજ રાજા/રાણી દ્વારા કરવામાં આવી.
4. આ અધિનિયમે ભારત માટે રાજ્યના સચિવને ચાલુ રાખ્યા.

(A) 1, 2, 3 અને 4 (B) ફક્ત 1, 3 અને 4  
(C) ફક્ત 1, 2 અને 3 (D) ફક્ત 2, 3 અને 4

138. Which of the following statements are correct regarding Model Code of Conduct for the Guidance of Political Parties and Candidates?

1. The Ministers shall not combine their official visit with electioneering work
2. Government transport including official aircraft, vehicles, machinery and personnel shall not be used except the Prime Minister as he is in High Security.
3. Ministers and other authorities shall not announce any financial grants in any form or promises thereof.
4. Ministers and other authorities shall not make any promise of construction of roads, provision of drinking water facilities etc

(A) 1, 2, 3 and 4

(B) 1, 3 and 4 only

(C) 1, 2 and 3 only

(D) 1 and 3 only

139. Which of the following statement(s) is/are correct regarding Cabinet Secretariat and Prime Minister's Office (PMO) ?

1. The Cabinet Secretariat functions directly under the Prime Minister Office (PMO)
2. Direct Benefit Transfer Mission and Office of Principal Scientific Advisor are also part of the Cabinet Secretariat.
3. Director of Public Grievances is part of the PMO
4. Department of Personnel and Training is also part of the Cabinet Secretariat

(A) 2 only

(B) 1 and 4 only

(C) 1, 2 and 3 only

(D) 1, 2, 3 and 4

140. Which of the following statements are correct regarding the reservations in the Lok Sabha?

1. At present there are 84 seats reserved for the Scheduled Castes
2. There are 47 seats reserved for the Scheduled Tribes
3. There are no seats reserved for Scheduled Castes and Scheduled Tribes in Jammu and Kashmir
4. In the total Union territories three seats are reserved for Scheduled Tribes and no seats reserved for the Scheduled Caste

(A) 1, 2, 3 and 4

(B) 2, 3 and 4 only

(C) 1, 2 and 3 only

(D) 1, 3 and 4 only

141. Which of the following statements are correct regarding Indian Independence Act of 1947?

1. This Act abolished the position of the Viceroy
2. This Act provided for the Governor General for each State i.e India and Pakistan.
3. Those governor generals were appointed by the British King/Queen.
4. This Act continued the secretary of state for India

(A) 1, 2, 3 and 4

(B) 1, 3 and 4 only

(C) 1, 2 and 3 only

(D) 2, 3 and 4 only

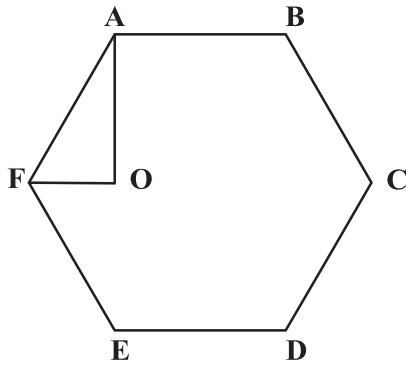
142. ગોલકનું ઘનફળ તેની ત્રિજ્યાના ઘનને ચલે છે.  $1\frac{1}{2}$ , 2 અને  $2\frac{1}{2}$  મીટર વ્યાસના ત્રણ નક્કર ગોલકને પીગાળીને એક નવો નક્કર ગોલક બનાવવામાં આવે છે. તો આ નવા ગોલકનો વ્યાસ કેટલો હશે?

(A) 2.5 મીટર (B) 3 મીટર  
(C) 3.5 મીટર (D) ઉપરોક્ત પૈકી એકપણ નહીં

143. જો  $x$  અને  $y$  ધન પૂર્ણાંકો હોય અને  $x + y + xy = 54$  હોય તો,  $x + y$  નું મૂલ્ય કેટલું થશે?

(A) 14 (B) 16  
(C) 18 (D) 20

144. નીચેની આકૃતિમાં ABCDEF એક નિયમિત ષટ્કોણ છે.  $\angle AOF = 90^\circ$  અને  $FO \parallel ED$  છે. તો ત્રિકોણ AOF ના ક્ષેત્રફળ અને ષટ્કોણ ABCDEF ના ક્ષેત્રફળનો ગુણોત્તર કેટલો થશે?



(A)  $\frac{1}{6}$  (B)  $\frac{1}{12}$   
(C)  $\frac{1}{24}$  (D)  $\frac{1}{48}$

145. એક કંપનીમાં તેનો પ્રત્યેક કર્મચારી જુનિયર અથવા સિનિયર તરીકે નિયુક્ત કરેલ છે. એક સિનિયર હેઠળ બરાબર 3 જુનિયર કામ કરે એવી તેની નીતિ છે. આ કંપનીમાં શરુઆતમાં 36 કર્મચારીઓ હતા. હવે જો એક સિનિયર કંપની છોડી દે અને 5 જુનિયરને સિનિયર તરીકે બઢતી મળે તો તેની નીતિને જાળવી રાખવા કંપનીએ કેટલા નવા જુનિયર કર્મચારીઓની ભરતી કરવી પડશે?

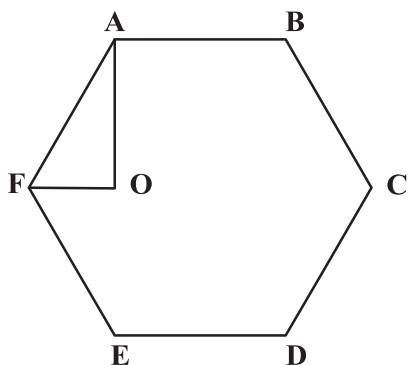
(A) 10 (B) 13  
(C) 17 (D) ઉપરોક્ત પૈકી એકપણ નહીં

146. રાજેશ બિંદુ P પર ઉત્તરાભિમુખ ઉભો છે. 1 કિમી ચાલ્યા પછી, તે પૂર્વ તરફ વળી 1 કિમી ચાલે છે અને પછી તેની પશ્ચિમ તરફ  $45^\circ$  વળી બીજા 1 કિમી જેટલો ચાલે છે. અંતે તે પોતાની ડાબી તરફ  $90^\circ$  જેટલો વળી 1 કિમી ચાલી તેના ગંતવ્ય બિંદુ Q પર પહોંચે છે. તો બિંદુ P એ બિંદુ Q ને સાપેક્ષ કઈ દિશામાં છે?

(A) ઉત્તર (B) દક્ષિણ  
(C) દક્ષિણ-પશ્ચિમ (D) દક્ષિણ-પૂર્વ



142. The volume of globe varies as the cube of its radius. Three solid globes of diameters  $1\frac{1}{2}$ , 2 and  $2\frac{1}{2}$  metres are melted and formed into a new solid globe. What is the diameter of the new globe?
- (A) 2.5 meters (B) 3 meters  
(C) 3.5 meters (D) None of the above
143. If  $x$  and  $y$  are positive integers and  $x + y + xy = 54$ , what is the value of  $x + y$ ?
- (A) 14 (B) 16  
(C) 18 (D) 20
144. In the figure below, ABCDEF is a regular hexagon.  $\angle AOF = 90^\circ$  and  $FO \parallel ED$ . What is the ratio of the area of the triangle AOF to that of the hexagon ABCDEF?



- (A)  $\frac{1}{6}$  (B)  $\frac{1}{12}$   
(C)  $\frac{1}{24}$  (D)  $\frac{1}{48}$
145. A company had each of its employees designated as Junior or Senior. It had a policy that exactly 3 Juniors would work under a Senior. Initially there were 36 employees in the company. If 1 Senior left the company and 5 Juniors were promoted as Senior then how many new Junior employees the company needed to recruit to maintain its policy?
- (A) 10 (B) 13  
(C) 17 (D) None of the above
146. Rajesh, who is facing north direction, is at point P. After walking 1 km, he turns in east direction and walks for 1 km and then turns  $45^\circ$  to his left and walks for another 1 km. Finally, he turns  $90^\circ$  to his left and walks for 1 km to reach his destination point Q. In which direction is point P with respect to the point Q?
- (A) North (B) South  
(C) Southwest (D) Southeast

147. એક સાંકેતિક ભાષામાં 'how many goals scored' ને '5379' તરીકે લખાય છે, 'many more matches' ને '982' તરીકે લખાય છે અને 'he scored five' ને '163' તરીકે લખાય છે. તો આ સંકેતમાં 'goals' કઈ રીતે લખાશે?
- (A) 3 (B) 5 અથવા 7  
(C) 6 (D) માહિતી અપૂરતી છે
148. પાંચ છોકરીઓ - P, Q, R, S અને T - તેમના પૈકી પ્રત્યેક જુદી વય, ઉંચાઈ અને શક્તિ ધરાવે છે. R સૌથી મોટી અને સૌથી નીચી છે. Q એ સૌથી નિર્બળ છે અને બરાબર બે છોકરીઓ કરતાં મોટી છે. S, એ Q કરતાં મોટી છે અને સૌથી સબળ છે. તેમના પૈકી જે સૌથી ઉંચી છે, તે સૌથી નાની કે સૌથી સબળ કે સૌથી નિર્બળ નથી. T એ Q કરતાં નીચી છે પરંતુ S કરતાં ઉંચી છે અને P તથા R કરતાં નિર્બળ છે. બધામાં સૌથી નાનું કોણ છે?
- (A) Q (B) T  
(C) S (D) P
149. મા-બાપ અને તેમના બે બાળકોની ચાર વર્ષ પહેલાં સરેરાશ ઉંમર 34 વર્ષ હતી. છ વર્ષ પહેલાં મા-બાપ અને તેમના એક બાળકની સરેરાશ ઉંમર 32 વર્ષ હતી. તો બીજા બાળકની હાલની ઉંમર કેટલી હશે?
- (A) 32 વર્ષ (B) 36 વર્ષ  
(C) 38 વર્ષ (D) 40 વર્ષ
150. આજથી ત્રણ વર્ષ પહેલાં આશાની ઉંમર, અજયની આજથી 1.5 વર્ષ પછીની ઉંમર કરતાં 4 ગણી છે. જો તેમની હાલની ઉંમરનો તફાવત 16.5 વર્ષ હોય, તો આશાની હાલની ઉંમર કેટલી હશે?
- (A) 16 વર્ષ (B) 17 વર્ષ  
(C) 19 વર્ષ (D) 21 વર્ષ
151. બે પાત્રો (vessels) V1 અને V2, 40% સાંદ્રતાનું બેન્ઝિન દ્રાવણ ધરાવે છે. મીના પાત્ર V1 માં કેટલુંક શુદ્ધ બેન્ઝિન નાખે છે જેથી તેની સાંદ્રતા 50% થાય છે. તથા તે પાત્ર V2 માંથી કેટલુંક દ્રાવણ કાઢી તેને સરખા શુદ્ધ બેન્ઝિનથી બદલે છે, જેથી તેની પણ સાંદ્રતા 50% થાય છે. જો શરૂઆતમાં V1 અને V2માં 1 : 2 ના ગુણોત્તરમાં દ્રાવણો હોય, તો V1 અને V2માં મીનાએ ઉમેરેલા બેન્ઝિનનો ગુણોત્તર કેટલો થશે?
- (A) 8 : 3 (B) 3 : 5  
(C) 1 : 5 (D) 4 : 3
152. એક સાંકેતિક ભાષામાં 'Richa is a good girl' નો સંકેત 'ka re ni si mi' છે. 'Richa eats good food' નો સંકેત 'ke he ka mi'; 'food is good for health' નો સંકેત 'ka ke qa do ni' છે. તો આ જ ભાષામાં 'a girl eats' નો સંકેત કયો હશે?
- (A) re si he (B) ni si he  
(C) hi si mi (D) ke he re
153. એપ્રિલ 2001માં કઈ તારીખોમાં બુધવાર આવશે?
- (A) 1, 8, 15, 22, 29 (B) 2, 9, 16, 23, 30  
(C) 3, 10, 17, 24 (D) 4, 11, 18, 25

147. In a certain code language, 'how many goals scored' is written as '5379', 'many more matches' is written as '982' and 'he scored five' is written as '163'. How is 'goals' written in that code ?  
(A) 3 (B) 5 or 7  
(C) 6 (D) Data Inadequate
148. There are five girls – P, Q, R, S and T - each of them is of a different age, height and strength. R is the oldest and the shortest among all. Q who is the weakest is older than exactly two girls. S, who is older than Q is the strongest. The tallest amongst them is neither the youngest nor strongest nor weakest. T is shorter than Q but taller than S and also weaker than P and R. Who is the youngest among all?  
(A) Q (B) T  
(C) S (D) P
149. Average age of the parents and their two children four years ago was 34 years. Average age of the parents and one of the children six years ago was 32 years. What is the present age of the other child?  
(A) 32 years (B) 36 years  
(C) 38 years (D) 40 years
150. Three years ago, Asha was four times as old as Ajay will be after 1.5 years. If the difference of their present ages is 16.5 years, what is the present age of Asha?  
(A) 16 years (B) 17 years  
(C) 19 years (D) 21 years
151. There are two vessels V1 and V2, both containing Benzene solution of 40% concentration. Meena added some pure Benzene to V1 to bring the concentration to 50%. In the vessel V2, she took out some quantity of the solution and replaced it with an equal quantity of pure Benzene, to bring the concentration of it also to 50%. What is the ratio of the amount of Benzene added by Meena in V1 and V2, if the quantity of initial solutions in V1 and V2 are in the ratio of 1 : 2?  
(A) 8 : 3 (B) 3 : 5  
(C) 1 : 5 (D) 4 : 3
152. In a certain code language, 'Richa is a good girl' is coded as 'ka re ni si mi'. 'Richa eats good food' is coded as 'ke he ka mi'; 'food is good for health' is coded as 'ka ke qa do ni'. What will be the code for 'a girl eats' in the same code language?  
(A) re si he (B) ni si he  
(C) hi si mi (D) ke he re
153. On what dates of April 2001 did Wednesday fall?  
(A) 1, 8, 15, 22, 29 (B) 2, 9, 16, 23, 30  
(C) 3, 10, 17, 24 (D) 4, 11, 18, 25

154. P એક દિવાલ 24 દિવસમાં અને Q તે દિવાલ 30 દિવસમાં બાંધી શકે છે. P કામ શરૂ કરે છે અને 6 દિવસ પછી તેની સાથે Q જોડાય છે; તેઓ 3 દિવસ સાથે કામ કરે છે અને પછી Q કામ છોડે છે. તો દિવાલનો બાકીનો ભાગ P એકલો કેટલા દિવસમાં પૂર્ણ કરશે?

(A) 12

(B) 11

(C) 14

(D) ઉપરોક્ત પૈકી એકપણ નહીં

155. એક 10 સેમીના ચોરસ કાગળમાંથી, તેના ચારેય ખૂણાઓ પરથી 2 સેમીના ચોરસ કાપવામાં આવે છે. બાકીના કાગળને વાળીને એક લંબઘન બનાવવામાં આવે છે. તો આ રીતે બનેલા લંબઘનનું ઘનફળ કેટલું થશે?

(A) 64 ઘન સેમી

(B) 72 ઘન સેમી

(C) 96 ઘન સેમી

(D) ઉપરોક્ત પૈકી એકપણ નહીં

★ (નિર્દેશ : પ્રશ્ન નં. 156 થી 159) : નીચેનું પત્રક પાંચ રાજ્યો P, Q, R, S અને T માં ગરીબી રેખા અને જાતિને આધારે વસ્તીની વહેંચણીની ટકાવારી દર્શાવે છે. આ પત્રકનો અભ્યાસ કરો અને તેના પર આધારિત પ્રશ્નોના જવાબ આપો.

રાજ્ય	ગરીબી રેખા નીચેની વસ્તીની ટકાવારી	પુરુષો અને સ્ત્રીઓનું પ્રમાણ	
		ગરીબી રેખાની નીચે	ગરીબી રેખાની ઉપર
		પુ : સ્ત્રી	પુ : સ્ત્રી
P	35	5:6	6:7
Q	25	3:5	4:5
R	24	1:2	2:3
S	19	3:2	4:3
T	15	5:3	3:2

156. જો રાજ્ય 'S' ની વસ્તી 7 મિલિયન હોય એવું જાણમાં હોય તો, રાજ્ય 'S' માં ગરીબી રેખાની ઉપર રહેલી સ્ત્રીઓની સંખ્યા કેટલી હશે?

(A) 3 મિલિયન

(B) 2.83 મિલિયન

(C) 2.43 મિલિયન

(D) ઉપરોક્ત પૈકી એકપણ નહીં

157. જો રાજ્ય 'R' માં ગરીબી રેખાની ઉપર રહેલા પુરુષોની સંખ્યા 1.9 મિલિયન હોય, તો રાજ્ય 'R' ની કુલ વસ્તી કેટલી હશે?

(A) 4.5 મિલિયન

(B) 4.85 મિલિયન

(C) 5.35 મિલિયન

(D) 6.25 મિલિયન

158. રાજ્ય 'P' માટે ગરીબી રેખાની નીચે રહેલી સ્ત્રીઓની સંખ્યા 2.1 મિલિયન હોય તો, રાજ્ય 'P' માટે ગરીબી રેખાની ઉપર રહેલા પુરુષોની સંખ્યા કેટલી હશે?

(A) 2.3 મિલિયન

(B) 3.3 મિલિયન

(C) 4.4 મિલિયન

(D) 6.6 મિલિયન

154. P can build a wall in 24 days and Q can build it in 30 days. P starts the work and is joined by Q after 6 days; they work together for 3 days and then Q leaves the work. In how many days would P alone build the remaining part of the wall?

(A) 12

(B) 11

(C) 14

(D) None of the above

155. From a square sheet of edge 10cm, square of edge 2 cm are cut out from its four corners. The remaining sheet is folded to form a cuboid. What is the volume of cuboid so formed?

(A) 64 cu.cm

(B) 72 cu.cm

(C) 96 cu.cm

(D) None of the above

★ (Directions : Question No. 156 to 159) : The following table gives the percentage distribution of population of five states, P, Q, R, S and T on the basis of poverty line and also on the basis of sex. Study the table and answer the questions based on it.

State	Percentage of Population below Poverty Line	Proportion of Males and Females	
		Below Poverty Line	Above Poverty Line
		M : F	M : F
P	35	5:6	6:7
Q	25	3:5	4:5
R	24	1:2	2:3
S	19	3:2	4:3
T	15	5:3	3:2

156. What will be the number of females above poverty line in the State 'S' if it is known that the population of state 'S' is 7 million?

(A) 3 million

(B) 2.83 million

(C) 2.43 million

(D) None of the above

157. If the male population above poverty line for State 'R' is 1.9 million, then what is the total population of State 'R'?

(A) 4.5 million

(B) 4.85 million

(C) 5.35 million

(D) 6.25 million

158. What will be the male population above poverty line for State 'P' if the female population below poverty line for State 'P' is 2.1 million?

(A) 2.3 million

(B) 3.3 million

(C) 4.4 million

(D) 6.6 million

159. જો રાજ્ય 'Q' માટે ગરીબી રેખાની નીચે રહેલા પુરુષોની સંખ્યા 2.4 મિલિયન હોય અને રાજ્ય 'T' માટે તે 6 મિલિયન હોય તો, રાજ્યો 'Q' અને 'T' ની કુલ વસ્તીનો ગુણોત્તર કેટલો થશે?
- (A) 2 : 5 (B) 2 : 7  
(C) 3 : 7 (D) 4 : 9
160. એક ત્રિકોણના વેધનો ગુણોત્તર 2:3:4 છે. જો તે ત્રિકોણની પરિમિતી 91 સેમી હોય, તો તે ત્રિકોણની ત્રણેય બાજુઓના માપ (સે.મી.માં) કેટલા હશે?
- (A) 41, 26, 24 (B) 42, 28, 21  
(C) 44, 27, 20 (D) ઉપરોક્ત પૈકી એકપણ નહીં
161. જુદા જુદા ક્ષેત્રફળના બે ચોરસ છે. મોટા ચોરસની પરિમિતી નાના ચોરસની પરિમિતી કરતાં 44 એકમ જેટલી વધારે છે, જ્યારે મોટા ચોરસનું ક્ષેત્રફળ નાના ચોરસના ક્ષેત્રફળ કરતાં 187 ચો. એકમ જેટલું વધારે છે. આ બે ચોરસની બાજુઓ (એકમમાં) ના માપ કેટલા હશે?
- (A) 4, 5 (B) 3.5, 14.5  
(C) 3, 14 (D) 2.5, 3.5
162. BACBADE ના તમામ અક્ષરોનો ઉપયોગ કરી બનતા તમામ શબ્દોનો ગણ S છે. તથા P એ S ના એવા શબ્દોનો બનેલો ઉપગણ છે જેમાં બંને "A" સાથે ન આવતા હોય. P માંથી યથેચ્છ રીતે એક શબ્દ પસંદ કરવામાં આવે છે. તો આ પસંદ કરેલા શબ્દમાં બંને "A", શબ્દના બે છેડા પર હોય એની સંભાવના કેટલી?
- (A) 1/15 (B) 1/20  
(C) 1/30 (D) 1/40
- ★ (નિર્દેશ : પ્રશ્ન નં. 163 થી 165) : પ્રત્યેક પ્રશ્નની નીચે બે વિધાનો A અને B આપેલા છે. આપેલા પ્રશ્નો માટે યોગ્ય વિકલ્પ પસંદ કરો.
163. એક શાળામાં, સાઠ (60) વિદ્યાર્થીઓ એથલીટ હતા. તે પૈકીના દસે અભ્યાસમાં પણ ઉચ્ચ પ્રદર્શન ક્યું હતું. તો શાળામાં અભ્યાસમાં ઉચ્ચ પ્રદર્શન કરનાર કેટલા વિદ્યાર્થીઓ હતા?
- વિધાન-A : અભ્યાસમાં ઉચ્ચ પ્રદર્શન કરનારાઓ પૈકી સાઠ (60) ટકા એથલીટ ન હતા.  
વિધાન-B : અભ્યાસમાં ઉચ્ચ પ્રદર્શન કરનાર તમામ એથલીટ હોય તે જરૂરી ન હતું.
- (A) પ્રશ્નનો ઉત્તર ફક્ત વિધાન A દ્વારા આપી શકાય છે, પરંતુ ફક્ત વિધાન B દ્વારા પ્રશ્નનો જવાબ આપી શકાતો નથી.  
(B) પ્રશ્નનો ઉત્તર ફક્ત વિધાન B દ્વારા આપી શકાય છે, પરંતુ ફક્ત વિધાન A દ્વારા પ્રશ્નનો જવાબ આપી શકાતો નથી.  
(C) પ્રશ્નનો ઉત્તર બંને વિધાનોને આધારે આપી શકાય છે, પરંતુ ફક્ત કોઈ એક વિધાન દ્વારા આપી શકાતો નથી.  
(D) આપેલા બંને વિધાનો દ્વારા પણ પ્રશ્નનો ઉત્તર આપી શકાતો નથી.

159. If the population of males below poverty line for State 'Q' is 2.4 million and that for State 'T' is 6 million, then the total population of States 'Q' and 'T' are in the ratio of

(A) 2 : 5

(B) 2 : 7

(C) 3 : 7

(D) 4 : 9

160. The ratio of altitudes of a triangle is 2:3:4. If the perimeter of the triangle is 91 cm, then what is the measures (in cm) of the sides of the triangle?

(A) 41, 26, 24

(B) 42, 28, 21

(C) 44, 27, 20

(D) None of the above

161. There are two squares of different areas. The perimeter of the larger square is 44 units more than that of the smaller one, and the area of the larger square is 187 sq. units more than the area of the smaller one. What is the sides (in units) of the two squares?

(A) 4, 5

(B) 3.5, 14.5

(C) 3, 14

(D) 2.5, 3.5

162. S is the set that contains all the words which are formed by using all the letters of BACBADE. P is the subset of those words of S in which both As are not together. A word is randomly selected from the set P. What is the probability that both As in the selected word are at the two extremes of the word?

(A) 1/15

(B) 1/20

(C) 1/30

(D) 1/40

★ (Directions : Question No. 163 to 165) : Each question is followed by two statements, A and B. Choose the appropriate option for each question.

163. In a particular school, sixty students were athletes. Ten among them were also among the top academic performers. How many students were top academic performers in the school?

Statement-A : Sixty percent of the top academic performers were not athletes.

Statement-B : All the top academic performers were not necessarily athletes.

(A) The question can be answered by using the Statement-A alone but not by using the Statement-B alone

(B) The question can be answered by using the Statement-B alone but not by using the Statement-A alone

(C) The question can be answered by using both the statements together but not by either of the Statement alone

(D) The question cannot be answered on the basis of the given two statements.

164. એક ક્વીઝ સ્પર્ધામાં ફક્ત પાંચ વિદ્યાર્થીઓ M, N, C, D અને E એ ભાગ લીધો. તેઓએ સ્પર્ધામાં મેળવેલ સ્કોરને આધારે તેમને રેન્ક આપવામાં આવ્યા. D ને E કરતાં ઉચ્ચ રેન્ક મળ્યો, જ્યારે N ને C કરતાં ઉચ્ચ રેન્ક મળ્યો. C નો રેન્ક મધ્યસ્થ કરતાં ઓછો હતો. તે પાંચ પૈકી કોને સર્વોચ્ચ રેન્ક મળ્યો?

વિધાન-A : M અંતિમ રેન્ક ધારક હતો.

વિધાન-B : N પ્રથમ બે રેન્ક પૈકી ન હતો.

(A) પ્રશ્નનો ઉત્તર ફક્ત વિધાન A દ્વારા આપી શકાય છે, પરંતુ ફક્ત વિધાન B દ્વારા પ્રશ્નનો જવાબ આપી શકાતો નથી.

(B) પ્રશ્નનો ઉત્તર ફક્ત વિધાન B દ્વારા આપી શકાય છે, પરંતુ ફક્ત વિધાન A દ્વારા પ્રશ્નનો જવાબ આપી શકાતો નથી.

(C) પ્રશ્નનો ઉત્તર બંને વિધાનોને આધારે આપી શકાય છે, પરંતુ ફક્ત કોઈ એક વિધાન દ્વારા આપી શકાતો નથી.

(D) આપેલા બંને વિધાનો દ્વારા પણ પ્રશ્નનો ઉત્તર આપી શકાતો નથી.

165. એક કોલ સેન્ટરના ત્રીસ ટકા કર્મચારીઓ પુરુષો છે. સ્ત્રી કર્મચારીઓ પૈકી દસ ટકા ઇજનેરી પૃષ્ઠભૂમિના છે. પુરુષ કર્મચારીઓ પૈકી કેટલા ટકા ઇજનેરી પૃષ્ઠભૂમિના છે?

વિધાન-A : પચીસ ટકા કર્મચારીઓની પૃષ્ઠભૂમિ જ્ઞાત નથી.

વિધાન-B : ઇજનેરી પૃષ્ઠભૂમિના પુરુષ કર્મચારીઓની સંખ્યા, ઇજનેરી પૃષ્ઠભૂમિના સ્ત્રી કર્મચારીઓની સંખ્યા કરતાં 20 ટકા વધારે છે.

(A) પ્રશ્નનો ઉત્તર ફક્ત વિધાન A દ્વારા આપી શકાય છે, પરંતુ ફક્ત વિધાન B દ્વારા પ્રશ્નનો જવાબ આપી શકાતો નથી.

(B) પ્રશ્નનો ઉત્તર ફક્ત વિધાન B દ્વારા આપી શકાય છે, પરંતુ ફક્ત વિધાન A દ્વારા પ્રશ્નનો જવાબ આપી શકાતો નથી.

(C) પ્રશ્નનો ઉત્તર બંને વિધાનોને આધારે આપી શકાય છે, પરંતુ ફક્ત કોઈ એક વિધાન દ્વારા આપી શકાતો નથી.

(D) આપેલા બંને વિધાનો દ્વારા પણ પ્રશ્નનો ઉત્તર આપી શકાતો નથી.

166. જો  $a > 0$  and  $a^4 - 62a^2 + 1 = 0$  હોય તો,  $a^3 + 1/a^3$  નું મૂલ્ય કેટલું થશે?

(A) 648

(B) 392

(C) 488

(D) 512

167. બિંદુઓ A, P, Q અને B એક જ રેખા પર એવી રીતે આવેલા છે કે P, Q અને B એ બિંદુ A થી અનુક્રમે, 100 કિમી, 200 કિમી અને 300 કિમી દૂર છે. કાર 1 અને કાર 2 બિંદુ A થી એક જ સમયે રવાના થઈ બિંદુ B તરફ જાય છે. તે જ સમયે, કાર 3 બિંદુ B થી રવાના થઈ બિંદુ A તરફ જાય છે. કાર 3 એ કાર 1 ને બિંદુ Q પર અને કાર 2 ને બિંદુ P પર મળે છે. જો પ્રત્યેક કાર અચળ ઝડપે જતી હોય તો કાર 2 અને કાર 1 ની ઝડપનો ગુણોત્તર કેટલો થશે?

(A) 1 : 4

(B) 2 : 9

(C) 1 : 2

(D) 2 : 7

168. એક ત્રિકોણ ABC પર, BC વ્યાસનું એક વર્તુળ દોરવામાં આવે છે, જે AB અને AC ને બિંદુઓ P અને Q માં અનુક્રમે છેદે છે. જો AB, AC અને CP ની લંબાઈ અનુક્રમે 30 સેમી, 25 સેમી અને 20 સેમી હોય તો, BQ ની લંબાઈ કેટલી હશે?

(A) 21 સેમી

(B) 27 સેમી

(C) 30 સેમી

(D) ઉપરોક્ત પૈકી એકપણ નહીં



164. Five students M, N, C, D and E were the only ones who participated in a quiz contest. They were ranked based on their scores in the contest. D got a higher rank as compared to E, while N got a higher rank as compared to C. C's rank was lower than the median. Who among the five got the highest rank?

Statement-A : M was the last rank holder.

Statement-B : N was not among the top two rank holders.

- (A) The question can be answered by using the Statement-A alone but not by using the Statement-B alone
- (B) The question can be answered by using the Statement-B alone but not by using the Statement-A alone
- (C) The question can be answered by using both the statements together but not by either of the Statement alone
- (D) The question cannot be answered on the basis of the given two statements.
165. Thirty percent of the employees of a call centre are males. Ten per cent of the female employees have an engineering background. What is the percentage of male employees having engineering background?

Statement-A : The background of twenty five percent of the employees is not known

Statement-B : Number of male employees having an engineering background is 20% more than the number of female employees having an engineering background

- (A) The question can be answered by using the Statement-A alone but not by using the Statement-B alone
- (B) The question can be answered by using the Statement-B alone but not by using the Statement-A alone
- (C) The question can be answered by using both the statements together but not by either of the Statement alone
- (D) The question cannot be answered on the basis of the given two statements.

166. If  $a > 0$  and  $a^4 - 62a^2 + 1 = 0$ , what is the value of  $a^3 + 1/a^3$  ?

(A) 648 (B) 392 (C) 488 (D) 512

167. Points A, P, Q and B lie on the same line such that P, Q and B are, respectively, 100 km, 200 km and 300 km away from point A. Car 1 and Car 2 leave point A at the same time and move towards point B. Simultaneously, Car 3 leaves point B and moves towards point A. Car 3 meets Car 1 at point Q, and Car 2 at point P. If each car is moving in uniform speed then what is the ratio of the speed of Car 2 to that of Car 1?

(A) 1 : 4 (B) 2 : 9 (C) 1 : 2 (D) 2 : 7

168. On a triangle ABC, a circle with diameter BC is drawn, intersecting AB and AC at points P and Q, respectively. If the lengths of AB, AC and CP are 30 cm, 25 cm and 20 cm respectively, then what is the length of BQ ?

(A) 21 cm (B) 27 cm  
(C) 30 cm (D) None of the above

169. 100 અને 400 વચ્ચે આવતી 6 વડે વિભાજ્ય હોય એવી તમામ સંખ્યાઓનો સરવાળો કેટલો થશે?  
 (A) 12450 (B) 12540  
 (C) 15420 (D) 15240
170. એક વેપારી તેની વસ્તુઓની વેચાણ કિંમત તેની પડતર કિંમતથી 30% જેટલી વધારે નક્કી કરે છે. તે અડધો સ્ટોક આ વેચાણ કિંમત પર, એક ચતુર્થાંશ સ્ટોક આ વેચાણ કિંમત પર 15% વળતર આપી અને બાકીનો સ્ટોક વેચાણ કિંમત પર 30% વળતર આપી વેચે છે. તો એકંદરે થયેલ નફાની ટકાવારી કેટલી છે?  
 (A) 14.375% (B) 14.735%  
 (C) 15.375% (D) 15.385%
171. નીચે પૈકી કયું અન્ય ત્રણ કરતાં અલગ છે?  
 (A) સત્યજીત રે (B) ડૉ. એ.પી.જે અબ્દુલ કલામ  
 (C) બી.કે.એસ.આયંગર (D) ભુપેન હઝારીકા
- ★ (નિર્દેશ : પ્રશ્ન નં. 172 થી 175) : છ વ્યક્તિઓ – K, L, M, N, O અને P અલગ અલગ ઓફિસ U, V, W, X, Y, અને Z માં કામ કરે છે, જે તે જ ક્રમમાં હોય એ જરૂરી નથી. L એ O ની પત્ની છે અને તે ઓફિસ X માં કામ કરે છે. ઓફિસ V અને Z માં કોઈ સ્ત્રી કામ કરતી નથી. M એ N ની બહેન છે. તે ઓફિસ U માં કામ કરે છે. P એ ઓફિસ W માં અને N એ ઓફિસ V માં કામ કરે છે.
172. O કઈ ઓફિસમાં કામ કરે છે?  
 (A) V (B) Z  
 (C) માહિતી અપૂરતી છે. (D) X
173. K ક્યાં કામ કરે છે?  
 (A) Z (B) V  
 (C) Y (D) માહિતી અપૂરતી છે
174. નીચે પૈકી કઈ જોડી નિશ્ચિતપણે પુરુષોની છે?  
 (A) KP (B) NO (C) NP (D) NK
175. ઓફિસ Y માં કોણ કામ કરે છે?  
 (A) L (B) K  
 (C) M (D) ઉપરોક્ત પૈકી એકપણ નહીં
176. એક શાળામાં 300 વિદ્યાર્થીઓ પૈકી 95 માત્ર ક્રિકેટ રમે છે, 120 માત્ર ફૂટબોલ રમે છે, 80 માત્ર વોલીબોલ રમે છે અને 5 કોઈ પણ રમત રમતા નથી. જો તે પૈકી યથેચ્છ રીતે એક વિદ્યાર્થી પસંદ કરવામાં આવે તો તે ફૂટબોલ કે વોલીબોલ ન રમતો હોય તેની સંભાવના કેટલી?  
 (A) 1/4 (B) 1/7  
 (C) 1/9 (D) ઉપરોક્ત પૈકી એકપણ નહીં

169. What is the sum of all numbers divisible by 6 in between 100 and 400?  
 (A) 12450 (B) 12540  
 (C) 15420 (D) 15240
170. A tradesman fixed his selling price of goods at 30% above his cost price. He sells half of the stock at this selling price, one-quarter of the stock at 15% discount on this selling price and rest at a discount of 30% of this selling price. What is overall gain percentage?  
 (A) 14.375% (B) 14.735%  
 (C) 15.375% (D) 15.385%
171. Which of the following is different from other three?  
 (A) Satyajit Ray (B) Dr. A.P.J. Abdul Kalam  
 (C) B.K.S. Ayenger (D) Bhupen Hazarika
- ★ (Directions : Question No. 172 to 175) Six people – K, L, M, N, O & P are working in different offices named U, V, W, X, Y, & Z but not necessarily in the same order. L is a wife of O & is working in office X. None of a woman is working in office V & Z. M is a sister of N. She is working in office U. P is working in office W & N is working in office V.
172. In which office O is working?  
 (A) V (B) Z  
 (C) Insufficient data (D) X
173. In which office K is working?  
 (A) Z (B) V  
 (C) Y (D) Insufficient data
174. Which of the following is definite pair of males?  
 (A) KP (B) NO  
 (C) NP (D) NK
175. Who is working in office Y?  
 (A) L (B) K  
 (C) M (D) None of the above
176. Out of 300 students in a school, 95 play cricket only, 120 play football only, 80 play volleyball only and 5 play no games. If one student is chosen at random, what is the probability that he plays neither football nor volleyball ?  
 (A)  $\frac{1}{4}$  (B)  $\frac{1}{7}$   
 (C)  $\frac{1}{9}$  (D) None of the above

177. N એક ત્રણ અંકની એવી સંખ્યા છે જે 7 નો ગુણક છે; તો તે 5 નો પણ ગુણક હોય તેની સંભાવના કેટલી?

(A) 11/54

(B) 1/5

(C) 13/64

(D) 21/67

178. એક 100 સેમી ત્રિજ્યાના ગોલકને તેના કેન્દ્રથી  $h$  અંતરે એક સમતલ વડે કાપવામાં આવે છે, જેથીએ તે ગોલક બે અલગ ભાગમાં વહેંચાય છે. આ બે ભાગની એકત્રિત સપાટીનું ક્ષેત્રફળ ગોલકની સપાટીના ક્ષેત્રફળ કરતાં 25% જેટલું વધારે છે. તો  $h$  નું મૂલ્ય કેટલું થશે?

(A)  $\frac{50}{\sqrt{2}}$

(B)  $50\sqrt{2}$

(C)  $75\sqrt{2}$

(D) ઉપરોક્ત પૈકી એકપણ નહીં

179. એક સાંકેતિક ભાષામાં “ENGINEERING” નો સંકેત ‘51771117551911177’ છે તો તે જ ભાષામાં “SCIENCE” નો સંકેત કયો થશે?

(A) 13311517311

(B) 19311513711

(C) 1931151735

(D) 1319153517

180. જો  $x > 0$  અને  $\sqrt{86.49} + \sqrt{5 + x^2} = 12.3$  હોય તો,  $x$  નું મૂલ્ય કેટલું થશે?

(A) 2

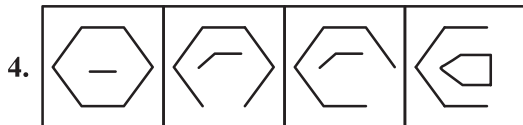
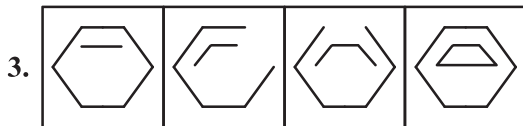
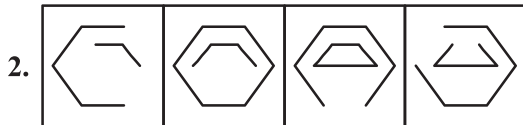
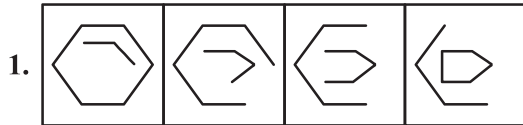
(B) 2.34

(C)  $7\sqrt{2}$

(D)  $\sqrt{14}$

181. નીચે પૈકી કઈ આકૃતિઓની શ્રેણી આપેલા નિયમનું પાલન કરે છે?

નિયમ : જેમ શ્રેણી આગળ વધે છે તેમ બંધ આકૃતિ તેની બાજુઓ ગુમાવે છે, અને ખુલ્લી આકૃતિ તેની બાજુઓ મેળવે છે.



(A) 1

(B) 2

(C) 3

(D) 4

177. N is a 3-digit number that is a multiple of 7; what is the probability that it will be also a multiple of 5?

(A) 11/54

(B) 1/5

(C) 13/64

(D) 21/67

178. A sphere of radius 100 cm is cut by a plane at a distance of  $h$  from its center, thereby breaking this sphere into two different pieces. The cumulative surface area of these two pieces is 25% more than that of the sphere. What is the value of  $h$ ?

(A)  $\frac{50}{\sqrt{2}}$

(B)  $50\sqrt{2}$

(C)  $75\sqrt{2}$

(D) None of the above

179. In a certain code language "ENGINEERING" is coded as '51771117551911177' then how would "SCIENCE" be coded in same language?

(A) 13311517311

(B) 19311513711

(C) 1931151735

(D) 1319153517

180. If  $x > 0$  and  $\sqrt{86.49} + \sqrt{5 + x^2} = 12.3$ , the value of  $x$  is ?

(A) 2

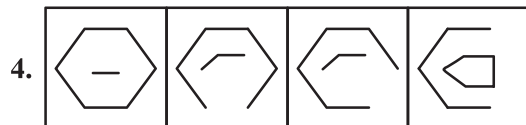
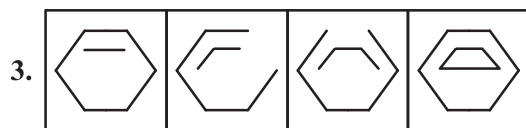
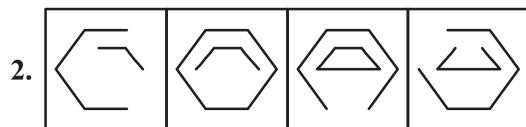
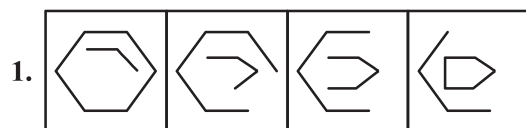
(B) 2.34

(C)  $7\sqrt{2}$

(D)  $\sqrt{14}$

181. Which of the following series of figures follows the given rule?

Rule: The closed figure loses its sides, and the open figure gains its sides as the series proceeds.



(A) 1

(B) 2

(C) 3

(D) 4

182. નીચે આપેલ આકૃતિઓ પૈકી ત્રણ આકૃતિઓ પસંદ કરો કે જે એક બીજામાં ગોઠવાઈ એક ચોરસ બનાવશે.



(A) 1, 2, 4

(B) 1, 2, 5

(C) 1, 3, 5

(D) ઉપરોક્ત પૈકી એકપણ નહીં

183. જો તમે એક સ્વાસ્થ્ય માટે ચાલનારા હશો, તો તમને એક હેલ્થ જીમમાં જવાની જરૂર નથી. તમારે કસરત માટે કોઈ સાધનોની પણ જરૂર નથી. તમારે એક આરામદાયક એથ્લેટિક શૂઝની જરૂર છે.

ઉપરનો અનુચ્છેદ નીચે પૈકી કયા વિધાનનું સમર્થન કરે છે?

(A) સ્વાસ્થ્ય માટે ચાલવું એ વજન ઉંચકવાની કસરત કરતાં શ્રેષ્ઠ છે.

(B) અંદર ચાલવા કરતાં બહાર ચાલવું વધારે સ્વાસ્થ્ય લાભ કરાવે છે.

(C) સ્વાસ્થ્ય માટે ચાલવું એ કસરતનો એક અસરકારક અને સુવિધાપૂર્ણ પ્રકાર છે

(D) ખરાબ રીતે બનાવેલા શૂઝ પગમાં ઈજા પહોંચાડી શકે છે.

184. એક સાંકેતિક ભાષામાં “BUILDING” નો સંકેત ‘CEJJHMOV’ હોય તો “FURNITURE” નો સંકેત તે જ ભાષામાં કયો હશે?

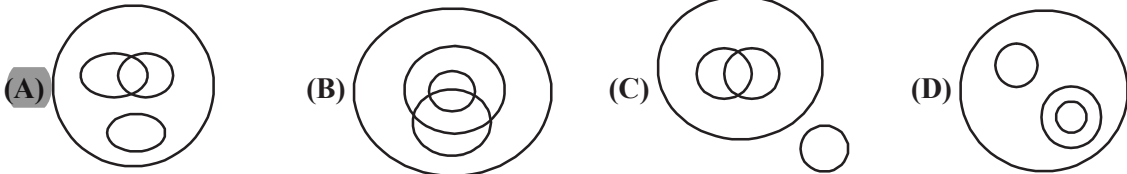
(A) FHJOTTVUU

(B) FGJOSSUVV

(C) GJHOVTTUU

(D) GHVOTTUJJ

185. એક મિજબાનીમાં કેક અને આઈસક્રીમ બંને પીરસવામાં આવ્યા. કેટલાકે માત્ર કેક અને કેટલાકે માત્ર આઈસક્રીમ લીધો. તો કેટલાકે બે પૈકી કાંઈપણ ન લીધું. બાકીના લોકોએ કેક અને આઈસક્રીમ બંને લીધા. નીચે પૈકી કઈ વેન આકૃતિ આ સ્થિતિને સાચી રીતે રજૂ કરે છે?



186. X અને Y એક બિંદુથી એકસાથે યાત્રા શરૂ કરે છે. X તેની પૂર્વ તરફ ફરી 12 કિમી અને Y તેની દક્ષિણ તરફ ફરી 12 કિમી યાત્રા કરે છે. X, 270° ઘડિયાળના કાંટાની વિરુદ્ધ દિશામાં ફરી 12 કિમી યાત્રા કરે છે. જ્યારે Y ઘડિયાળના કાંટાની દિશામાં 90° ફરી 18 કિમી જેટલી યાત્રા કરે છે. પછી Y તે જ રેખા પર વિરુદ્ધ દિશામાં 30 કિમી યાત્રા કરે છે. તો તેમની સ્થિતિ વિશે નીચે પૈકી કયું સાચું છે?

1) Y એ X કરતાં 30 કિમી વધારે અંતર કાપ્યું.

2) બંને મૂળ સ્થિતિથી દક્ષિણ પશ્ચિમ દિશામાં છે.

3) બંને એક જ બિંદુ પર છે.

(A) 1 અને 2

(B) 1 અને 3

(C) 2 અને 3

(D) ઉપરોક્ત પૈકી એકપણ નહીં

182. Select three figures out of the following five figures which when fitted into each other would form a square.



(A) 1, 2, 4

(B) 1, 2, 5

(C) 1, 3, 5

(D) None of the above

183. If you are a fitness walker, you don't need to go to a health gym. You also don't need any fitness equipment for workout. All you need is a pair of comfortable athletic shoes.

Above paragraph supports which of the following statements?

(A) Fitness walking is better than weight lifting

(B) Walking outdoors provides more health benefits than walking indoors

(C) Fitness walking is an effective and convenient form of exercise

(D) Poorly designed shoes can cause foot injuries

184. In a certain code language "BUILDING" is coded as 'CEJJHMOV' then how would "FURNITURE" be coded in same language?

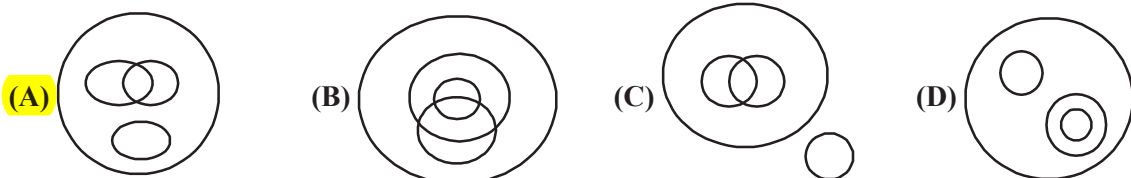
(A) FHJOTTVUU

(B) FGJOSSUVV

(C) GJHOVTTUU

(D) GHVOTTUUI

185. In a party, both cakes and icecreams were served. Some ate only cake and some only icecream. Some people did not eat either. The rest of the people ate both cake and icecream. Which of the following Venn-diagrams correctly represent this situation?



186. X and Y start from a point simultaneously. X moves to his East and travels 12 km, and Y moves to her south and travels 12 km. X takes a  $270^\circ$  anti-clockwise turn and travels 12 km. Y takes a  $90^\circ$  clockwise turn and travels 18 km. Then Y goes 30 km in same line in exactly opposite direction. Which of the following is true regarding their positions?

1) Y has travelled 30 km more than X

2) both are to the south east of original position

3) both are at the same point

(A) 1 and 2

(B) 1 and 3

(C) 2 and 3

(D) None of the above

187. એક ચોક્કસ વર્ષમાં, જાન્યુઆરી મહિનામાં બરાબર 4 ગુરુવાર અને 4 રવિવાર છે. તો તે વર્ષમાં 1લી જાન્યુઆરીએ કયો વાર હશે?
- (A) મંગળવાર (B) સોમવાર  
(C) ગુરુવાર (D) બુધવાર
188. નીચેની શ્રેણીમાં આગામી સંખ્યા કઈ હશે?  
-3, 7, -19, 79, \_\_\_ ?
- (A) -391 (B) -399  
(C) -427 (D) ઉપરોક્ત પૈકી એકપણ નહીં
189. એક ચોરસ કાગળને તેની લંબાઈ પર વાળી નળાકાર બનાવવામાં આવે છે. તો તે નળાકારની પાયાની ત્રિજ્યા અને ચોરસની બાજુનો ગુણોત્તર કેટલો થશે?
- (A)  $\frac{1}{2\pi}$  (B)  $\frac{\sqrt{2}}{\pi}$   
(C)  $\pi\sqrt{2}$  (D) ઉપરોક્ત પૈકી એકપણ નહીં
190. જેની પાયાની ત્રિજ્યા  $r$  હોય એવા ત્રણ સમાન શંકુ પૈકીનો દરેક બીજા બે ને સ્પર્શે તે રીતે મૂક્યા છે. તો તેમના શિરોબિંદુઓમાંથી દોરેલા વર્તુળની ત્રિજ્યા .....
- (A)  $2\sqrt{3}r$  (B)  $3\sqrt{r}$   
(C)  $\frac{2r}{\sqrt{3}}$  (D)  $\frac{2\sqrt{3}}{r}$
191. જો 7 સફરજન, 12 કેળાં અને 17 નારંગીની ખરીદ કિંમત રૂ. 219 અને 3 સફરજન, 5 કેળાં અને 7 નારંગીની ખરીદ કિંમત રૂ. 91 હોય; તો 1 સફરજન, 1 કેળું અને 1 નારંગીની ખરીદ કિંમત કેટલી થશે?
- (A) રૂ. 17 (B) રૂ. 19  
(C) રૂ. 21 (D) રૂ. 23
192. વિધાન : શહેરમાં દરરોજ મોટી સંખ્યામાં લોકો પ્રદૂષિત પાણી પીવાને લીધે મૃત્યુ પામે છે.  
લેવાના પગલાં :
1. સરકારે શહેરમાં લોકોને પીવાનું શુધ્ધ પાણી મળી રહે તે માટે વ્યવસ્થા કરવી જોઈએ.
  2. સરકારે લોકોને દૂષિત પાણી પીવાના ખતરા સામે જાગૃત કરવા જોઈએ.
- (A) ફક્ત પગલું 1 અનુસરે છે.  
(B) ફક્ત પગલું 2 મજબૂત છે.  
(C) બંને પગલાં અનુસરે છે.  
(D) 1 કે 2 એકપણ અનુસરતા નથી.



187. In a certain year, the month of January had exactly 4 Thursdays and 4 Sundays. Then, 1<sup>st</sup> January of that year was which day?

(A) Tuesday

(B) Monday

(C) Thursday

(D) Wednesday

188. What will be the next number in following series?

-3, 7, -19, 79, \_\_\_\_

(A) -391

(B) -399

(C) -427

(D) None of the above

189. A square sheet of paper is converted into a cylinder by rolling it along its length. What is the ratio of the base radius of cylinder to the side of the square?

(A)  $\frac{1}{2\pi}$

(B)  $\frac{\sqrt{2}}{\pi}$

(C)  $\pi\sqrt{2}$

(D) None of the above

190. Three identical cones with base radius  $r$  are placed on their base so that each is touching the other two. The radius of the circle drawn through their vertices is \_\_\_\_

(A)  $2\sqrt{3}r$

(B)  $3\sqrt{r}$

(C)  $\frac{2r}{\sqrt{3}}$

(D)  $\frac{2\sqrt{3}}{r}$

191. If the cost of buying 7 apples, 12 bananas and 17 oranges is Rs. 219 and the cost of buying 3 apples, 5 bananas and 7 oranges is Rs. 91, what is the cost of buying 1 apple, 1 banana and 1 orange?

(A) Rs. 17

(B) Rs. 19

(C) Rs. 21

(D) Rs. 23

192. Statement: A large number of people in the city die every year due to polluted drinking water.

Courses of action:

1. The government should make necessary arrangements to provide safe drinking water to the people of the city.

2. The government should educate people about the dangers of drinking contaminated water.

(A) Only action 1 follows

(B) Only action 2 follows

(C) Both action 1 and 2 follow

(D) Neither 1 nor 2 follows

193. નિવેદન (A) : યુરેનિયમ પરમાણ્વીય ફ્યુઝન પ્રક્રિયામાંથી પસાર થઈ શકે છે.

કારણ (R) : યુરેનિયમનું ન્યુક્લિયસ મોટું અને અસ્થિર છે.

(A) બંને (R) અને (A) સાચા છે અને R એ A ની સાચી સમજૂતી છે.

(B) બંને (R) અને (A) સાચા છે, પરંતુ R એ A ની સાચી સમજૂતી નથી.

(C) A સાચું છે R ખોટું છે.

(D) A ખોટું છે, R સાચું છે.

194. બધા પુષ્પો રમકડાં છે. કેટલાક રમકડા વૃક્ષો છે. કેટલાક દેવદૂતો વૃક્ષો છે.

તારણો :

1. કેટલાક દેવદૂતો રમકડાં છે.

2. કેટલાક વૃક્ષો પુષ્પો છે.

3. કેટલાક પુષ્પો દેવદૂતો છે.

(A) એકપણ અનુસરતું નથી

(B) ફક્ત 1 અનુસરે છે

(C) ફક્ત 2 અનુસરે છે

(D) ફક્ત 1 અને 3 અનુસરે છે.

195. વિધાન I : દેશના ગ્રામ્ય અને અર્ધ-શહેરી વિસ્તારો લોડ શેડિંગના લીધે ઘણા સમયથી પરેશાન થઈ રહ્યાં છે.

વિધાન II : જો સરકાર ઊર્જા સંકટનો જવાબ નહિ શોધે, તો શહેરી વિસ્તારમાં પણ લોડ શેડિંગ વિસ્તરી શકશે.

(A) વિધાન I કારણ છે અને વિધાન II તેની અસર છે.

(B) વિધાન II કારણ છે અને વિધાન I તેની અસર છે.

(C) બંને વિધાનો I અને II સ્વતંત્ર કારણોની અસર છે.

(D) બંને વિધાનો I અને II એક જ સામાન્ય કારણની અસર છે.

196. વિધાન : K ટાપુઓ પર ઝડપથી પહોંચવા ફેરી અથવા હોડી લેવી જોઈએ.

ધારણાઓ :

(I) દુર્લભ સ્થળે આવેલા ટાપુઓ સરળતાથી ગમ્ય નથી હોતા.

(II) K ટાપુઓ પર પહોંચવા ફેરી અને હોડીઓ પ્રાપ્ય છે.

(A) જો માત્ર ધારણા I અભિપ્રેત છે.

(B) જો માત્ર ધારણા II અભિપ્રેત છે.

(C) જો ધારણા I અથવા II અભિપ્રેત છે.

(D) જો ધારણા I કે II અભિપ્રેત નથી.

193. Assertion (A) : Uranium can undergo a nuclear fusion reaction.

Reason (R) : Uranium has a big unstable nucleus.

- (A) Both A and R are true and R is the correct explanation of A.
- (B) Both A and R are true but R is not the correct explanation of A.
- (C) A is true, R is false
- (D) A is false, R is true

194. All flowers are toys. Some toys are trees. Some angels are trees

Conclusions:

- 1. Some angels are toys
- 2. Some trees are flowers
- 3. Some flowers are angels

- (A) None follows
- (B) Only 1 follows
- (C) Only 2 follow
- (D) Only 1 and 3 follow

195. Statement-I : Rural and semi-urban areas in the country have been suffering due to loadshedding for quite sometime.

Statement-II : If the Government is not able to overcome the power crisis, loadshedding will be extended even to the urban areas.

- (A) Statement-I is the cause and Statement-II is its effect
- (B) Statement-II is the cause and Statement-I is its effect
- (C) Both the statements I and II are effects of independent causes
- (D) Both the statements I and II are effects of some common cause

196. Statement : Take a ferry or a boat instead of a bus to reach the K Islands faster.

Assumptions:

- (I) The islands being in remote location are not easily accessible.
- (II) Ferries and boats are available to travel to K Islands.

- (A) if only assumption I is implicit.
- (B) if only assumption II is implicit.
- (C) if either assumption I or II is implicit.
- (D) if neither assumption I nor II is implicit

197. વિધાન : ભારત એક બહુભાષીય દેશ છે. હિન્દી ભારતની રાષ્ટ્રભાષા છે.

તારણ :

1. બધા ભારતીયોએ વિવિધ ભાષાઓ શીખવી જોઈએ.

2. એક ભારતીય હોવા માટે હિન્દી શીખવી જોઈએ.

(A) ફક્ત 1 અનુસરે છે.

(B) ફક્ત 2 અનુસરે છે.

(C) 1 કે 2 અનુસરતા નથી.

(D) 1 અને 2 બંને અનુસરે છે.

198. વિધાન I : વિસ્તારમાં મોટાભાગના નાગરીકો ઉચ્ચ આવક સમૂહમાં સમવિષ્ટ છે.

વિધાન II : સ્થાનિક સુપર માર્કેટમાં વેચાણ બીજા વિસ્તારો કરતાં વધારે છે.

(A) વિધાન I કારણ છે અને વિધાન II તેની અસર છે.

(B) વિધાન II કારણ છે અને વિધાન I તેની અસર છે.

(C) બંને વિધાનો I અને II સ્વતંત્ર કારણોની અસર છે.

(D) બંને વિધાનો I અને II એક જ સામાન્ય કારણની અસર છે.

199. વિધાન : શું ભારતે તેની ખાણોમાંથી તાત્કાલિક કોલસાનું ઉત્પાદન બંધ કરવું જોઈએ?

દલીલો :

I. હા. જો આપણે વર્તમાન દરે ઉત્પાદન ચાલુ રાખીશું તો કોલસાનો હાલનો જથ્થો બહુ સમય ચાલશે નહીં.

II. ના. આપણી પાસે વૈકલ્પિક ઊર્જાનો સ્ત્રોત પૂરતા પ્રમાણમાં નથી.

III. ના. આનાથી લાખો લોકોને ગેરલાભ થશે અને તેમના જીવન અને ઉદ્યોગો પર પણ અવળી અસર થશે.

(A) ફક્ત I અને II મજબૂત છે.

(B) ફક્ત II અને III મજબૂત છે.

(C) ફક્ત I અને III મજબૂત છે.

(D) તમામ મજબૂત છે.

200. વિધાન : શું ભારતમાં લોકસભાની ચૂંટણીઓ હાલ પાંચ વર્ષની જગ્યાએ દર ત્રણ વર્ષે યોજવી જોઈએ?

દલીલ :

I. ના. તેનાથી નાણાં અને સંસાધનોનો અપવ્યય થશે.

II. હા. તેનાથી મતદારો કામ ન કરતાં સભ્યોને વધુ વિલંબ વિના બદલી શકશે.

III. ના. ચૂંટાયેલા પ્રતિનિધિઓને સ્થિર થવા અને વિકાસ કાર્યો પર ધ્યાન કેન્દ્રિત કરવા પૂરતો સમય નહિ રહે.

(A) ફક્ત I અને II મજબૂત છે.

(B) ફક્ત II અને III મજબૂત છે.

(C) ફક્ત I અને III મજબૂત છે.

(D) તમામ મજબૂત છે.

197. Statement: India is multilingual country. Hindi is the National Language of India.

Conclusion:

1. All Indians should learn multiple languages.

2. Hindi should be learnt to be an Indian.

(A) Only 1 is followed

(B) Only 2 is followed

(C) Neither 1 nor 2 is followed

(D) Both 1 & 2 are followed

198. Statement-I : Majority of the citizens in the locality belong to higher income group.

Statement-II : The sales in the local supermarket are comparatively much higher than in other localities.

(A) Statement-I is the cause and Statement-II is its effect

(B) Statement-II is the cause and Statement-I is its effect

(C) Both the statements I and II are effects of independent causes

(D) Both the statements I and II are effects of some common cause

199. Statement : Should India immediately stop digging coal from its mines?

Arguments :

I. Yes. The present stock of coal will not last long if we continue mining at the present rate.

II. No. We do not have alternate energy source of sufficient quantity.

III. No. This will put millions of people at a disadvantage and their lives will get adversely affected and also the industry.

(A) Only I and II are strong

(B) Only II and III are strong

(C) Only I and III are strong

(D) All are strong

200. Statement : Should the Parliamentary Elections in India be held every three years as against five years at present?

Arguments :

I. No. This will enhance wastage of money and resources.

II. Yes. This will help the voters to change non-performing representatives without much delay.

III. No. The elected representatives will not have enough time to settle and concentrate on developmental activities.

(A) Only I and II are strong

(B) Only II and III are strong

(C) Only I and III are strong

(D) All are strong